

Adı: \_\_\_\_\_

Soyadı: \_\_\_\_\_

Sınıfı: \_\_\_\_\_

No: \_\_\_\_\_

# ETKİNLİK AVCISI

# 4. Sınıf

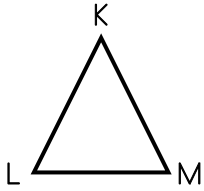
Üçgen, Kare ve Dikdörtgenin isimlendirilmesi

Matematik

- ▶ Üçgen, kare ve dikdörtgenin köşelerine isim verirken büyük harflerden faydalanınız.
- ▶ Kenarlarını isimlendirirken köşelerde yer alan harflerden faydalanınız.
- ▶ Harfleri mutlaka sırasıyla yazmalıyız. Harfleri karşılıklı yazarak isimlendirme yapmak yanlış olur.

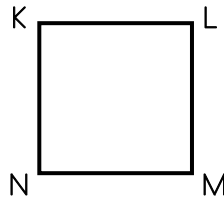
## Geometrik Şekilleri İsimlendirelim

### ÜÇGEN



- ▶ KLM üçgeni
- ▶ LMK üçgeni
- ▶ MKL üçgeni

### KARE



- ▶ KLMN karesi
- ▶ LMNK karesi
- ▶ MNKL karesi

### DIKDÖRTGEN



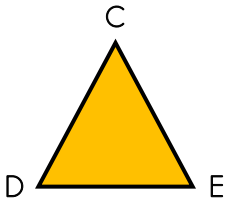
- ▶ ABCD dikdörtgeni
- ▶ BCDA dikdörtgeni
- ▶ CDAB dikdörtgeni

**Not:** İsimlendirme yaparken saat yönünde veya saat yönünün tersi yönde harfleri okuyarak isimlendirme yapabiliriz. Önemli olan hiçbir köşeyi atmadan isimlendirme yapmaktır.

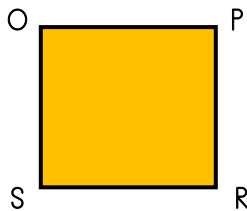


### Etkinlik 1

Aşağıda verilen geometrik şekilleri saat yönünün tersinde isimlendirelim.



- ▶ ..... üçgeni
- ▶ ..... üçgeni
- ▶ ..... üçgeni



- ▶ .....karesi
- ▶ .....karesi
- ▶ .....karesi
- ▶ .....karesi



- ▶ ..... dikdörtgeni
- ▶ ..... dikdörtgeni
- ▶ ..... dikdörtgeni
- ▶ ..... dikdörtgeni

