

# 4. Sınıf

Aylık Konular Denemesi

## Mart Denemesi

- Türkçe : 15 soru
- Matematik : 15 soru
- Fen Bilimleri : 10 soru
- Sosyal Bilgiler : 10 soru
- İngilizce : 6 soru
- Din Kültürü : 6 soru

haydarhoca.net

@hhocaninsinifi

Adı: \_\_\_\_\_

Soyadı: \_\_\_\_\_

Sınıfı: \_\_\_\_\_

No: \_\_\_\_\_

## TEST AVCISI

# 4. Sınıf

.....MART AYI KONULARI DENEMESİ..... TÜRKÇE.....

### MARTENİÇKA

Marteniçka, baharın gelişini kutlamak için kullanılan kırmızı ve beyaz iplerden yapılan bir bilektir. Bu gelenek özellikle Bulgaristan, Kuzey Makedonya ve bazı Balkan ülkelerinde yaygındır. Marteniçkalar, sağlık, mutluluk ve bereket dileğiyle 1 Mart'ta takılır.



Kırmızı renk, gücü ve sağlığı temsil ederken, beyaz renk saflık ve uzun ömrü simgeler. İnsanlar, Marteniçkalarını bileklerine, yakalarına, çantalarına veya saçlarına takabilirler. Geleneksel olarak, ilk leyleği veya açan bir çiçeği gördüklerinde bilekliklerini çıkarıp bir ağacın dalına bağlar ve dilek dilerler.

Marteniçka, sadece baharın gelişini değil, aynı zamanda dostluk ve iyi dilekleri paylaşmayı da temsil eder. Çocuklar bu geleneği çok sever, çünkü arkadaşlarına Marteniçka hediye ederek onları mutlu edebilirler. Eğer biri size Marteniçka verirse, bu onun size sağlık ve mutluluk dilediği anlamına gelir. Baharı karşılamak için harika bir gelenektir!

Haydar Soyer

1. 2. ve 3. soruyu metne göre cevaplandırınız.

1) Marteniçka'nın renkleri neyi simgeler?

- A) Kırmızı: Sağlık ve güç, Beyaz: Temizlik ve uzun ömür
- B) Kırmızı: Mutluluk ve güç, Beyaz: Üzüntü
- C) Kırmızı: Sevgi, Beyaz: Kış
- D) Kırmızı: Şans, Beyaz: Para

2) Aşağıdakilerden hangisine metinde ulaşılamaz?

- A) Marteniçka, baharın gelişini simgeleyen bir bilektir.
- B) Marteniçka, dostluk ve iyi dilekleri ifade eder.
- C) Marteniçka, Bulgaristan, Kuzey Makedonya ve bazı Balkan ülkelerinde yaygındır.
- D) Marteniçka, kırmızı veya beyaz iplerden yapılır.

3) Aşağıdakilerden hangisi doğrudur?

- A) Marteniçka sadece bileğe takılır.
- B) Marteniçka, yaz mevsiminin başlangıcını simgeler.
- C) Marteniçka, ilk leylek veya açan çiçek görüldüğünde çıkarılır.
- D) Marteniçka sadece yetişkinler tarafından kullanılır.

4) Anlam olarak tamamlanmamış cümlelerin sonuna üç nokta koyunuz.

Yukarıda verilen bilgiye göre aşağıda verilen cümlelerden hangisinin sonuna üç nokta (...) getirilmez?

- A) Güneş batarken denizin üzerinde harika bir manzara
- B) Kitapçada yeni kitaplar
- C) Akşam yemeğini hazırlarken mutfakta çok eğlendik
- D) Bahçedeki çiçekler ve ağaçların dallarından gelen sesler

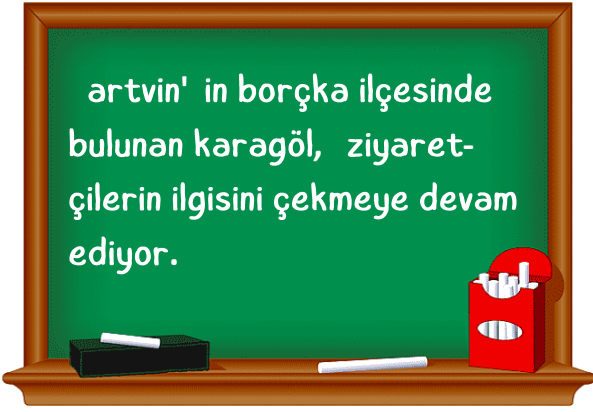
5)

- ( ) İstanbul'u gezdin mi( )  
 ( ) Evet( ) gezdim ve çok beğendim.

Yukarıda yay araç ( ) ile belirtilen yerlere aşağıda verilen noktala işaretlerinden hangisi gelmez?

**A) ?**      **B) —**      **C) ,**      **D) :**

6)



Seher, öğretmenin yazdığı bu cümledeki yazım yanlışlarını düzeltmek istiyor.

Bu durumda Seher aşağıdakilerden hangisini yazarsa cümledeki yazım yanlışlarını düzeltmiş olur?

- A)** Artvin'in borçka ilçesinde bulunan karagöl, ziyaretçilerin ilgisini çekmeye devam ediyor.  
**B)** Artvin'in Borçka ilçesinde bulunan Karagöl, ziyaretçilerin ilgisini çekmeye devam ediyor.  
**C)** Artvin'in Borçka ilçesinde bulunan karagöl, ziyaretçilerin ilgisini çekmeye devam ediyor.  
**D)** artvin'in Borçka ilçesinde bulunan Karagöl, ziyaretçilerin ilgisini çekmeye devam ediyor.

7) Aşağıdakilerin hangisinde "da/de"nin yazımı yanlıştır?

- A)** Yolda yürürken bir köpek de gördüm.  
**B)** Kitapları raflara yerleştirirken dikkatli de olmalısın.  
**C)** Okulun bahçesinde çocuklar da oynuyor.  
**D)** Dışarı da yağmur yağıyor biz hiç çıkmadık.

8) Aşağıdakilerin hangisinde "ki"nin yazımı yanlıştır?

- A)** Sabahki dersten çok güzel şeyler öğrendik.  
**B)** Narin, bahçede ki ağaçlarıyla çok ilgilenirdi.  
**C)** O öyle biri ki insana çok şey katıyor.  
**D)** Bu anlattıklarım ki basit şeyler değildi.

9) Aşağıda verilen kelime gruplarından hangisinde varlığın farklı bir yönü belirtilmiştir?

- A)** Yuvarlak masa      **B)** Uzun koridor  
**C)** Yorgun kalp      **D)** kare pano

10) Aşağıda verilen cümlelerin hangisinde varlığı işaret eden bir kelime kullanılmamıştır?

- A)** Bu benim kalemim.  
**B)** O, bugün okula gelmedi.  
**C)** Şu senin defterin mi?  
**D)** O bizim öğretmenimiz.

- 11) Meyve yetiştiriciliği, özellikle sıcak iklimlerde oldukça yaygın bir tarım faaliyetidir. Meyve ağaçları, düzenli bakım ve sulama ile daha verimli hale gelir. Üreticiler, meyve ağaçlarının sağlıklı büyümesi için toprağın doğru şekilde hazırlanmasına dikkat eder. Hasat dönemi geldiğinde meyveler toplanır, kaliteye göre sınıflandırılır ve pazara sunulur. Meyve yetiştiriciliği, çiftçiler için önemli bir gelir kaynağıdır ve dünya genelinde büyük bir ticaret hacmine sahiptir.

Yukarıdaki metinde aşağıdakilerden hangisine değinilmemiştir?

- A)** Meyve ağaçlarının bakımı  
**B)** Meyve yetiştiriciliğinin iklimle ilişkisi  
**C)** Meyve yetiştiriciliğinin ekonomik önemi  
**D)** Meyve ağaçlarını koruma yöntemleri

- 12) Ali, öğretmenin verdiği ödevi yaparken bazı kelimelerin farklı kelimelerle aynı anlama geldiğini fark etti.

**Örneğin:**

- Mutlu kelimesiyle aynı anlama gelen bir kelimenin sevinçli olduğunu gördü.
  - Büyük kelimesiyle aynı anlama gelen kelimenin kocaman olduğunu öğrendi.
- Buna göre, aşağıdaki kelime gruplarından hangisi Ali'nin fark ettiği kelime çiftlerinden olamaz?

- A)** Problem-sorun      **B)** vazife-görev  
**C)** Yönetim-İdare      **D)** Cılız-Gülbüz

- 13) Aşağıda verilen cümlelerin hangisinde kısaltmalara gelen eklerin yazımında hata yapılmıştır?

- A)** MEB' in yeni müfredatını öğretmenimiz açıkladı.  
**B)** Babam, TÜBİTAK' a emeklilik maaşını alıyor.  
**C)** TBMM' nin yeni bir yasa görüşülüyor.  
**D)** THY' na ait uçaklar dünyada birçok ülkeye uçuyor.

- 14) Öğretmen, öğrencilerinden "ağır" kelimesinin farklı anlamlarını içeren cümleler yazmalarını istemiştir.

**Öğrenciler şu cümleleri yazmıştır:**

1. Ali, ağır çantayı taşımakta zorlandı.
  2. Dedemin sözleri çok ağırdı, beni derinden etkiledi.
  3. Bu yük çok ağır, kaldırmak için yardım gerekir.
  4. Ahmet, ağır adımlarla sahneye çıktı.
- Buna göre, yukarıdaki cümlelerden mecaz anlamda kullanılanlar hangi seçenekte doğru verilmiştir?

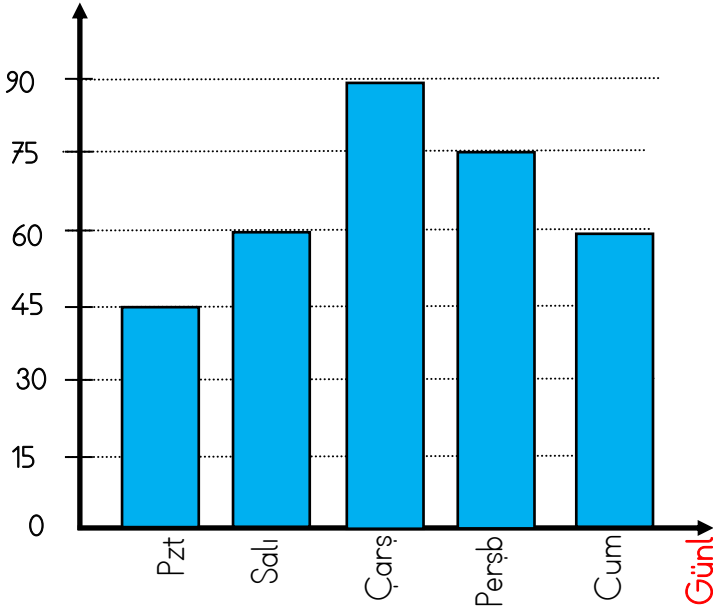
- A)** 1 ve 3      **B)** 2 ve 4  
**C)** 2 ve 3      **D)** 1 ve 4

- 15) Bir şeyin kendiliğinden değişmesini anlatan kelimeler oluş bildiren kelimelerdir. Aşağıda verilen cümlelerin hangisinde oluş bildiren kelime yoktur?

- A)** Hava karardı.  
**B)** Çocuk bahçede koştu.  
**C)** Çiçekler kurudu.  
**D)** Ağaçlar yapraklarını döktü.

Grafik: Aziz'in günlük okuduğu sayfa

Sayfa sayısı



1. 2. ve 3. soruyu verilen grafiğe göre cevaplandırılm.

1) Aziz'in okuduğu sayfa sayısı tek olan günler ile çift olan günlerin toplamlarının arasındaki fark kaçtır?

- A)** 90    **B)** 120    **C)** 210    **D)** 135

2) Aziz hergün 90 sayfa okuma hedefi koy- saydı hedefinden ne kadar eksik okurdu?

- A)** 75    **B)** 120    **C)** 90    **D)** 105

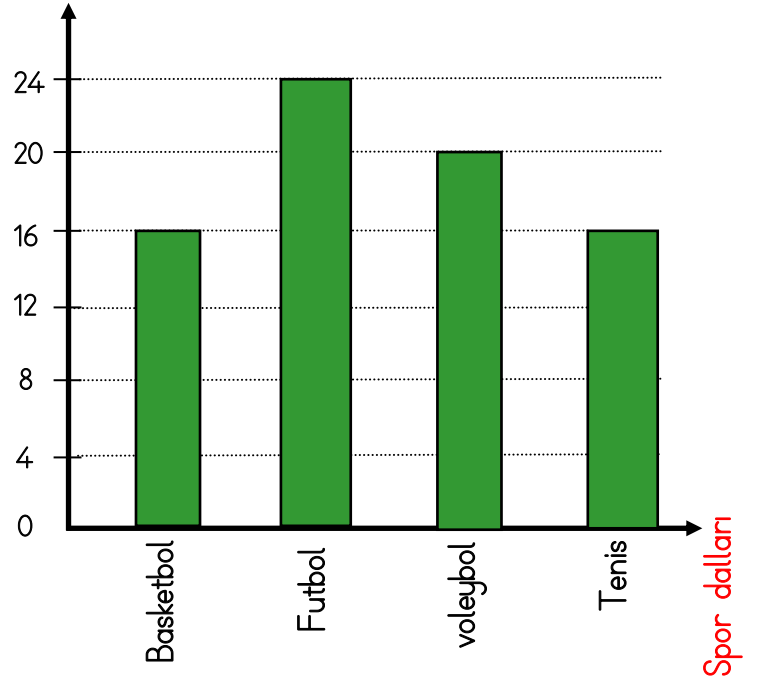
3) Aziz'in haftanın hangi günlerinde okuduğu sayfa sayısı bir önceki güne göre artmış, hangi günlerinde azalmıştır?

- A)** Çarşamba azalmış, Perşembe ve Cuma artmıştır.  
**B)** Çarşamba artmış perşembe, cuma azalmıştır.  
**C)** Salı ve çarşamba günü artmış, Perşembe ve cuma günü azalmıştır.  
**D)** Salı ve çarşamba günü azalmış, Perşembe ve cuma günü artmıştır.

haydarhoca.net

4) Grafik: Öğrencilerin en çok ilgilendiği sporlar

Kişi sayısı



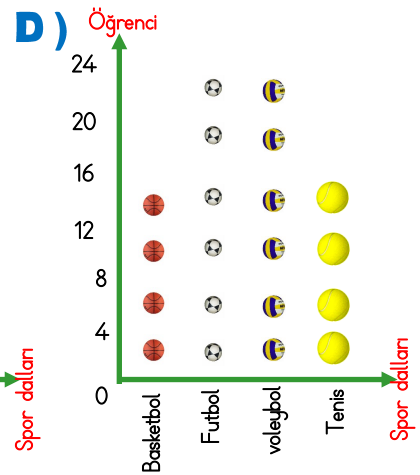
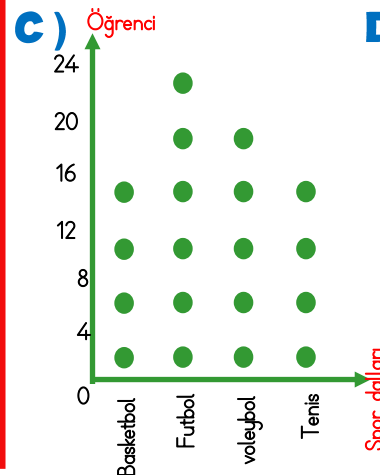
Aşağıdakilerden hangisinde yukarıda verilen grafiğin verileri hatalı gösterilmiştir?

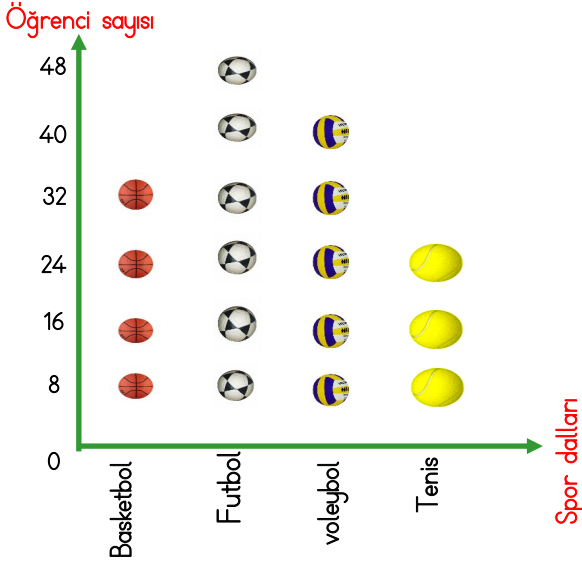
**A)**

Spor dalları	Öğrenci
Basketbol	16
Futbol	24
Voleybol	20
Tenis	16

**B)**

Spor dalları	Öğrenci
Basketbol	### ### ### /
Futbol	### ### ### ### ////
Voleybol	### ### ### ###
Tenis	### ### ### /





5. ve 6. soruyu verilen grafiğe göre cevaplandırınız.

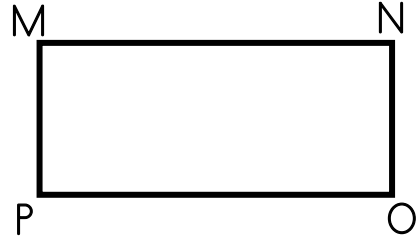
5) Yukarıda verilen grafikte ilgili aşağıda verilen ifadelerden hangisi yanlıştır?

- A)** Futbol sevenler basketbol sevenlerden 16 kişi fazladır.  
**B)** Grafik toplam 144 kişinin verisini göstermektedir.  
**C)** Grafik bir şekil grafiğidir.  
**D)** Grafikte yer alan her bir nesne 8 nesneyi temsil etmektedir.

6) Basketbol ve futbol sayılarının farkı kadar tenis tercih eden öğrenci eklenirse, Tenis tercih eden öğrencilerin toplam sayısı kaç olur?

- A)** 40  
**B)** 48  
**C)** 32  
**D)** 24

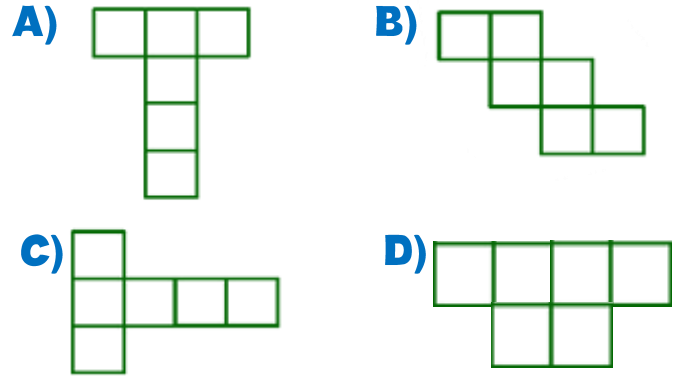
7)



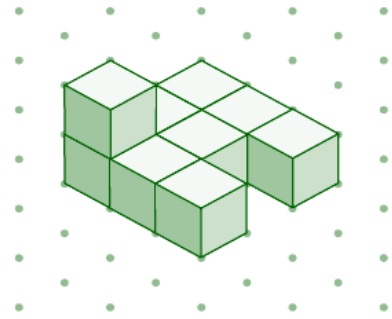
Yukarıda verilen dikdörtgen hangi seçenekteki gibi isimlendirebiliriz?

- A)** MONP                      **B)** NPMO  
**C)** MNOP                    **D)** OMNP

8) Aşağıdakilerden hangisi küpün bir açılımı değildir?



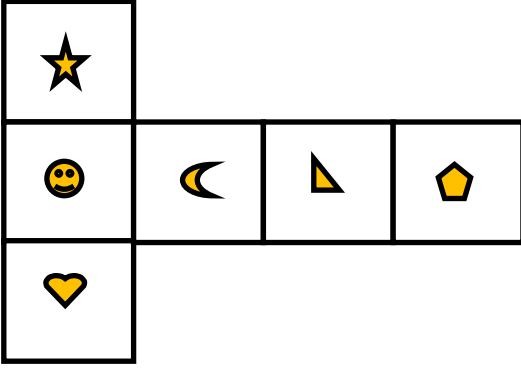
9)




Yukarıda verilen cisme kaç birim küp daha eklersek cisimden bir küp elde edebiliriz?

- A)** 15                      **B)** 16                      **C)** 17                      **D)** 18

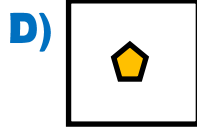
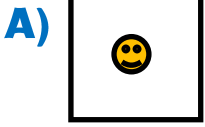
10)



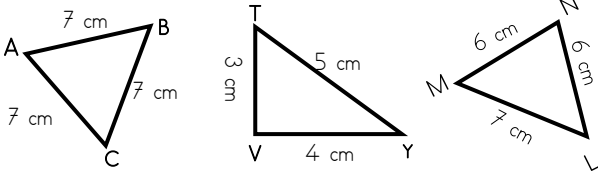
Açınımı verilen küp oluşturulduğunda

 ile ortak kenarları olan yüzler belirlenmiştir.

Buna göre, aşağıdakilerden hangisi bu yüzlerden biri değildir?



11)

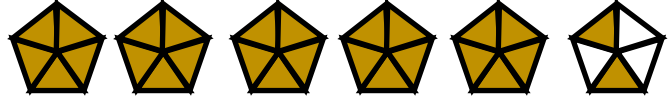


Yukarıda verilen üçgenlerin kenar uzunluklarına göre isimleri hangi seçenekte doğru verilmiştir?

ABCTVYMNL

- A) Eşkenar ikizkenar çeşitkenar
- B) Eşkenar çeşitkenar ikizkenar
- C) çeşitkenar Eşkenar ikizkenar
- D) ikizkenar Eşkenar çeşitkenar

12)



Yukarıda modellenmesi verilen kesrin bileşik kesir olarak gösterimi hangisidir?

- A)  $\frac{27}{5}$  B)  $5\frac{2}{5}$  C)  $\frac{2}{5}$  D)  $\frac{22}{5}$

13) Bir otobüs İzmir'den İstanbul'a mola vermeden 7 saat 30 dakikada ulaşmaktadır. 22.45'te İzmir'den hareket eden bu otobüs, kırkar dakikalık iki mola veriyor

Buna göre bu otobüs saat kaçta İstanbul'a ulaşır?

- A) 7.35 B) 8.05  
C) 8.55 D) 9.15

14) Zeynep, her gün 50 dakika kitap okumaktadır.

Buna göre Zeynep, 5 günde toplam kaç saat kaç dakika kitap okumuştur?

- A) 4 saat 10 dakika  
B) 4 saat 20 dakika  
C) 4 saat 30 dakika  
D) 5 saat

15)

Burcu 15 taksitle aldığı montu aylık 75 tl para ödemektedir. Ezgi ise aynı montu 25 taksite böldürmüştür.



Buna göre Ezgi bu montu aylık kaç tl öder?

- A) 45 B) 60 C) 75 D) 90


1)



1



2



3



4

Yukarıda verilen aydınlatma çeşitlerinden en uygun olandan en kötü olana doğru sıralama nasıl olmalıdır?

- A)** 1-2-3-4                      **B)** 3-4-1-2  
**C)** 2-1-4-3                      **D)** 3-4-2-1

2)

Ahmet, şehir içindeki aydınlatma sistemlerinin günlük hayattaki önemini araştırmak için bir proje hazırlamaktadır.

Projesinde aşağıdaki durumlardan hangisini aydınlatma teknolojisinin olmamasının doğrudan bir sonucu olarak belirtmesi en uygundur?

- A)** Trafik kurallarına uymayan sürücüler kazalara sebep olur.  
**B)** Hava karardıktan sonra açık alanlar güvensiz hale gelir.  
**C)** Hastanelerde kullanılan tıbbi cihazlar çalışmaz.  
**D)** Parklar ve bahçelerde oyun alanları azalır.

3)

Deniz kaplumbağaları, yumurtlamak için genellikle karanlık ve sakin sahilleri tercih eder. Yumurtadan çıkan yavru kaplumbağalar, ay ışığını ve denizin parlaklığını takip ederek denize ulaşırlar. Ancak sahil bölgelerinde gereğinden fazla kullanılan yapay ışıklar, yavruların yönlerini şaşırtmasına neden olur. Işığa doğru giden yavrular, denize ulaşmak yerine kara tarafına ilerleyerek susuzluktan ölebilir veya yırtıcı hayvanlara yem olabilir.



Aşağıdakilerden hangisi, ışık kirliliğinin deniz kaplumbağalarına zararını azaltmak için yapılabilecek doğru bir uygulamadır?

- A)** Sahil kenarlarına parlak reklam panoları yerleştirmek  
**B)** Kaplumbağa yuvalama döneminde sahil aydınlatmalarını kapatmak  
**C)** Sahilleri gece boyunca aydınlık tutmak  
**D)** Daha fazla ışık kullanarak sahil güvenliğini artırmak

4) Thomas Alva Edison tarafından icat edilmiştir. İlk ses kayıt cihazıdır ve ses kaydedip dinlemeyi sağlar.

Yukarıda açıklaması verilen ses cihazı aşağıdakilerden hangisidir?

A)



B)



C)



D)



- 5) Bir okulda yapılan etkinlikte ses teknolojilerinin kullanımı incelenmiştir. Etkinlikte aşağıdaki bilgilere yer verilmiştir:

**Durum 1:** İşitme kaybı olan bir öğrenci, sınıftaki öğretmeni duymakta zorlanmaktadır.

**Durum 2:** Fabrikada çalışan işçiler, sürekli yüksek sese maruz kalmaktadır.

**Durum 3:** Okul bahçesindeki törende, kalabalık nedeniyle arkadaki öğrenciler konuşmaları duyamamaktadır.

Bu bilgilere göre, öğrencilerin getirdiği çözüm önerilerinden hangisi yanlıştır?

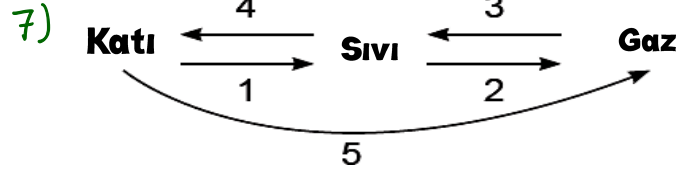
- A)** Durum 1 için işitme cihazı kullanılmalı  
**B)** Durum 2 için koruyucu kulaklık kullanımı önerilmelidir.  
**C)** Durum 3 için hoparlör sistemi kurulmalı  
**D)** Durum 2 için fabrikaya ses yalıtımı yapılmalıdır.

- 6) Ahmet, bir fabrikada staj yapmaya başlamıştır. Stajının ilk gününde, üzerinde yandaki simgenin bulunduğu bir iş güvenliği işaretiyle karşılaşmıştır. İş güvenliği uzmanı, Ahmet'e bu işaretin anlamını ve dikkat etmesi gerekenleri açıklamıştır.



Buna göre, aşağıdakilerden hangisi doğrudur?

- A)** Bu işaret, yüksek sıcaklığa karşı dikkatli olunması gerektiğini gösterir.  
**B)** Bu işaret, işitme kaybını önlemek için kulak koruyucu takılmasının zorunlu olduğunu gösterir.  
**C)** Bu işaret, kaygan zemin tehlikesine karşı uyarıda bulunmaktadır.  
**D)** Bu işaret, baş üstü yüksekte çalışma alanını işaret etmektedir.



Şekilde numaralarla belirtilen hâl değişimlerinin hangilerinde madde ısı verir?

- A)** 3 ve 4 **B)** 1 ve 2  
**C)** 3, 4 ve 5 **D)** 1, 2 ve 5

- 8) Aşağıdakilerden hangisi sıvı ve gazların ortak özelliklerinden değildir?

- A)** Akışkandırlar.  
**B)** Göremezsek de varlığını hissederiz.  
**C)** Buldukları ortama yayılabilirler.  
**D)** Belirli bir şekilleri yoktur.

- 9) Seher öğretmen yazdığı her protein içeriği için 5 puan, karbonhidrat içeriği için 3 puan, yağ içeriği içinse 1 puan alıyor. Seher 12 puan almıştır. Seher'in yazdığı besinler hangi seçenekte doğru verilmiştir?

- A)** Fındık-balık-yumurta-ekmek  
**B)** Et-mercimek-yumurta-makarna  
**C)** Nohut-mercimek-zeytin-havuç  
**D)** Bal-yumurta-makarna-fındık

- 10) Bir kabın darası 300 gram, brüt kütlesi ise 1.800 gramdır.

Kabın içindeki sıvının kütlesi kaç gramdır?

- A)** 1500 **B)** 2100 **C)** 1700 **D)** 1200

1) Elif'in aylık harcama planı verilmiştir:

Harcamalar	Tutar
Fatura (su, elektrik)	500
Okul kıyafeti	750
Tablet	4000
Market alışverişi	1500

Elif'in bu harcamalarından hangileri ihtiyaç, hangileri istek kategorisine girer?

- A)** Fatura ve okul kıyafeti istektir, tablet ve market alışverişi ihtiyaçtır.  
**B)** Tablet ve market alışverişi istektir, fatura ve okul kıyafeti ihtiyaçtır.  
**C)** Tüm harcamalar ihtiyaçtır.  
**D)** Market alışverişi, okul kıyafeti ve faturalar ihtiyaçtır, tablet istektir.

2) .....: Müşteriler, mağazalardan veya internetten kıyafetleri satın alıp giyerler.  
 .....: Tekstil fabrikasında kumaş ve giysi üretimi yapılır.  
 .....: Üretilen kıyafetler, mağazalara veya online platformlara gönderilir.

Yukarıda verilen noktalı yerlere ülkemizdeki ekonomik faaliyetlere yönelik kavramlardan sırasıyla hangileri gelmelidir?

- A)** Üretim Tüketim Dağıtım  
**B)** Tüketim Üretim Dağıtım  
**C)** Tüketim Dağıtım Üretim  
**D)** Dağıtım Üretim Tüketim

3)



İşil aldığı ürünün üzerinde yukarıda verilen sembolü görmüş ve internet üzerinden anlamına bakmak istemiştir.

Buna göre bu sembolün anlamı aşağıdakilerden hangisidir?

- A)** Türk Standartları Enstitüsü damgası olan ürünler tercih edilmelidir.  
**B)** Uluslararası Standart Organizasyonu standartlarına uygun ürünler alınmalıdır.  
**C)** Ürünün insan sağlığına ve çevreye zarar vermeyeceğini gösterir.  
**D)** Ürün Dünya Sağlık Örgütü tarafından onaylanmıştır.

4) Gelir: Elde edilen para veya kazançtır. Gider: Harcanan para veya masraftır. Aşağıdaki ifadelerden hangisi gider ile ilgili bir kavramdır?

- A)** Maaş **B)** Harçlık  
**C)** Burs **D)** Kira

5) Mehmet Usta'nın ekmek yapımında kullanılan buğdayın tarladan sofraya gelene kadar geçirdiği aşamalar karışık olarak verilmiştir.

1. Tarlaya ekilen buğday tohumlarının filizlenmesi
2. Olgunlaşan başakların biçerdöverle toplanması
3. Hasat edilen buğdayların değirmende una öğütülmesi
4. Toprağın sürülüp tohumların ekilmesi ve gübrelenmesi

Bu aşamalar hangi seçenekte doğru sıralanmıştır?

- A)** 4, 1, 2, 3 **B)** 4, 2, 1, 3  
**C)** 2, 4, 1, 3 **D)** 1, 2, 3, 4

6) Öğrenciler alışveriş yaparken sergiledikleri davranışları anlatıyor:

- Zeynep: İndirime giren bütün ürünleri alırım.
- Kerem: Alışveriş yaparken isteklerime öncelik veririm.
- Elif: Satın aldığım ürünün garanti belgesini ve kullanma kılavuzunu mutlaka alırım.

Buna göre, hangi öğrenciler bilinçli tüketici davranışı göstermektedir?

- A)** Yalnız Zeynep  
**B)** Yalnız Elif  
**C)** Kerem ve Elif  
**D)** Zeynep, Elif ve Kerem

7) Öğretmen, sınıfta israf türleriyle ilgili bir tartışma başlatmıştır. Öğrenciler farklı israf türlerine örnekler vermiştir:

- Elif: Tüketemeyeceğimizden fazla gıda alışverişi yapmak.
- Kerem: Boşa akan musluğu kapatmazsak su israfı yapmış oluruz.
- Zeynep: Tabağımızdaki yemekleri bitirmeden çöpe atarsak gıda israfı yapmış oluruz.

Öğretmen, "Bu örneklerden hangisi farklı bir israf türüne aittir?" diye sormuştur.

Buna göre, aşağıdaki öğrencilerden hangisinin verdiği örnek diğerlerinden farklı bir israf türüne aittir?

- A)** Elif  
**B)** Kerem  
**C)** Zeynep  
**D)** Hiçbiri

- 8) 1. Mustafa Kemal Paşa'ya "Gazi" unvanının verilmesi  
 2. Mondros Ateşkes Antlaşması'nın imzalanması  
 3. Türkiye Büyük Millet Meclisinin açılması  
 4. Atatürk'ün Samsun'a çıkması

Verilen olayların oluş sırası aşağıdakilerden hangisinde doğru olarak verilmiştir?

- A)** 4 - 2 - 3 - 1    **B)** 2 - 4 - 3 - 1  
**C)** 2 - 4 - 1 - 3    **D)** 4 - 3 - 2 - 1

9) Bir deprem anında güvende kalmak için aşağıdaki davranışlardan hangisini yapmak en doğrusudur?

- A)** Asansörü kullanarak binayı hızlıca terk etmek  
**B)** Balkona çıkarak deprem sona erece kadar beklemek  
**C)** Sağlam bir eşyanın (masa, dolap vb.) yanında çök-kapan-tutun pozisyonu almak  
**D)** Merdiven boşluğu veya kapı altına geçerek depremin bitmesini beklemek.

- 10) 1. Yollar  
 2. Ormanlar  
 3. Köprüler  
 4. Deniz  
 5. Barajlar

Hangileri beşeri unsurlar arasında yer alır?

- A)** 1 ve 5    **B)** 1, 3 ve 5  
**C)** 2 ve 4    **D)** 4 ve 5

1) A: .....

B: He is a fireman

- A)** What can he do ?  
**B)** What does he likes ?  
**C)** What is he doing ?  
**D)** What is his job ?



- 2) -Efe likes helping animals.  
 -Mira likes milking the cows.  
 -Yasemin likes dancing.  
 -Taner likes teaching children.

Yukarıdaki bilgilere göre aşağıdaki ifadelerden hangisi yanlıştır ?

- A)** Efe is a vet.  
**B)** Yasemin is a dancer.  
**C)** Mira is a nurse.  
**D)** Taner is a teacher

- 3) I want to be a ..... so I can make beautiful clothes.

Complete the sentences.

- A)** fashion designer  
**B)** postman  
**C)** vet  
**D)** driver

4)

Job	Working Place
I - policeman	IV - school
II - teacher	V - farmer
III - farm	VI - policesation

Yukarıdaki tabloda hangi ikili yer değiştirirse doğru eşleştirme yapılmış olur ?

- A)** I - IV  
**B)** II - V  
**C)** III - V  
**D)** IV - V

5)

"What's the weather like today?"

- A)** It's hot.  
**B)** It's sunny.  
**C)** It's snowy.  
**D)** It's stormy.



6)

Mevsim ve o mevsimde giyilebilecek kıyafet eşleştirmelerinden hangisi yanlıştır?

- A)** spring.....jacket  
**B)** summer.....jumper  
**C)** autumn.....raincoat  
**D)** winter.....coat

- 1) Hz. Muhammed'in ailesi ve bakımını üstlenen kişiler aşağıda karışık olarak verilmiştir.  
Buna göre, sırasıyla annesi, babası, dedesi, amcası ve süt annesi hangi seçenekte doğru verilmiştir?  
**A)** Âmine - Abdullah - Abdulmuttalib - Ebu Talib - Halime  
**B)** Halime - Abdullah - Abdulmuttalib - Ebu Talib - Âmine  
**C)** Âmine - Abdulmuttalib - Abdullah - Ebu Talib - Halime  
**D)** Abdullah - Âmine - Abdulmuttalib - Halime - Ebu Talib
- 2) Allah'ın peygamberimize ilk emri hangisidir?  
**A)** Yaradan Rabbinin adıyla oku  
**B)** Namazı güzel kıl  
**C)** Ramazan ayında oruç tut  
**D)** Doğru yoldan ayrılma
- 3) Peygamberimize ilk vahiy.....ayında, .....dağında,.....mağarasında, .....yılında,.....tarafından gelmiştir.  
Yukarıdaki boşluklara sırasıyla hangi-leri gelmelidir?  
**A)** Ramazan / Nur / Hira / 610 / Cebrail  
**B)** Recep / Sevr / Hira / 571 / Mikail  
**C)** Ramazan / Nur / Sevr / 632 / Cebrail  
**D)** Şevval / Nur / Hira / 610 / İsrail

- 4) Aşağıdakilerden hangisi Hz Muhammed'in (s.a.v) amcası Ebu Talib ve eşi Hz Hatice'yi kaybettiği yıla verilen addır?  
**A)** Cahiliye Yılı **B)** Zorluk Yılları  
**C)** Hüzün Yılı **D)** Hicret Yılı

- 5) Peygamberimizin mescidi Haramdan Mescidi Aksaya yaptığı gece yolculuğuna .....denir. Mescidi Aksadan göklere yükselmesine.....denir.

Yukarıdaki boşluklara sırasıyla hangileri gelmelidir?

- A)** Miraç / Kadir  
**B)** İsrâ / Muhacir  
**C)** İsrâ / Miraç  
**D)** Miraç / İsrâ

- 6) "İslam dininde temizlik için ..... Kavramı kullanılır. .... kavramı beden, elbisenin, çevrenin temiz olmasını; abdest almayı ve manevi temizliği kapsar."

Yukarıdaki cümlede boş bırakılan bölümlere hangi ifade getirilmelidir?

- A)** Kefaret **B)** Taharet  
**C)** Rahmet **D)** Merhamet