

Adı: _____
Soyadı: _____
Sınıfı: _____
No: _____

ETKİNLİK AVCISI

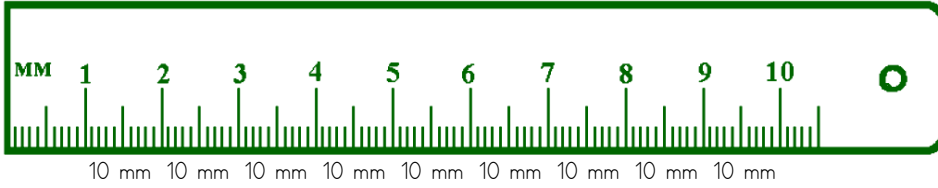
4. Sınıf

Uzunluk Ölçme

Matematik

MİLİMETRENİN KULLANIM ALANLARI

- * Günümüzde kullanılan uzunluk ölçü birimlerinden temel ölçümü birimi **metre**dir.
- * Metreyi **m** harfi ile gösteririz.
- * 1 metre 100 santimetre' dir. Santimetre "**cm**" ile gösterilir.
- * 1 cm 10 eş parçaya bölünmüştür. Bu parçalardan her birine **milimetre** deriz. 1 cm' lik uzunluğun 1/10 'unun uzunluğu, 1 milimetredir. Milimetreyi "**mm**" harfi ile gösteririz.



1 km = 1000 m' dir.

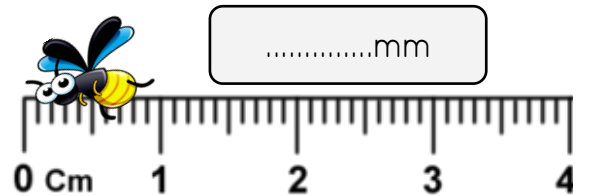
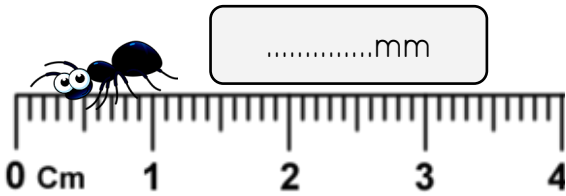
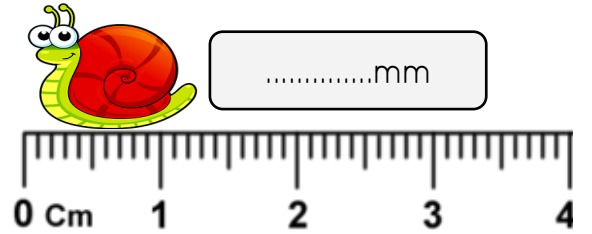
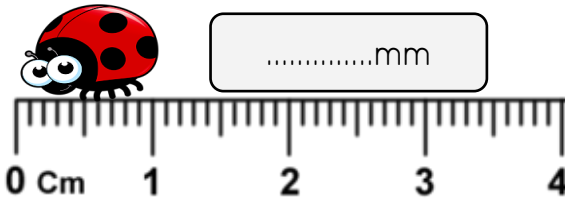

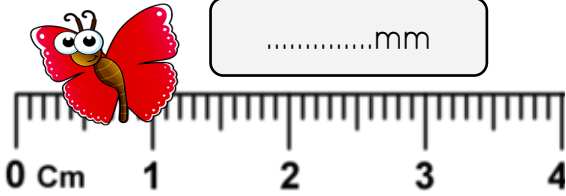
1 m = 100 cm' dir.

1 cm = 10 mm' dir.



Etkinlik 1

Aşağıda verilen canlıların kaç mm olduğunu noktlı yerlere yazalım.



Etkinlik 2

Aşağıda verilenler hangi birim ile ölçülür, eşleştirelim.

- Kalem ucu kalınlığı
- Kitap kalınlığı
- Halı ölçüleri
- Tırnak uzunluğu
- Oyuncak boyutları
- İnsan boyu
- Telefon ekranı
- Okul bahçesinin uzunluğu
- Yağmur damlasının çapı

metre

Santimetre

Milimetre

Etkinlik 3


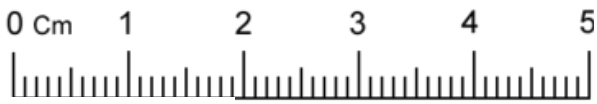
Verilen nesnelerin uzunluğunu cm ve mm cinsinden yazalım.



.....cm.....mm



.....cm.....mm



.....cm.....mm



.....cm.....mm