

Adı: \_\_\_\_\_

Soyadı: \_\_\_\_\_

Sınıfı: \_\_\_\_\_

No: \_\_\_\_\_

# ETKİNLİK AVCISI

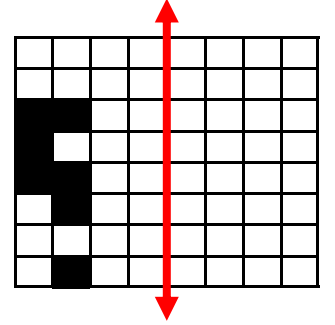
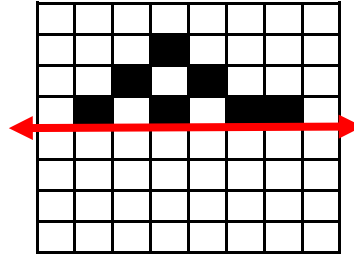
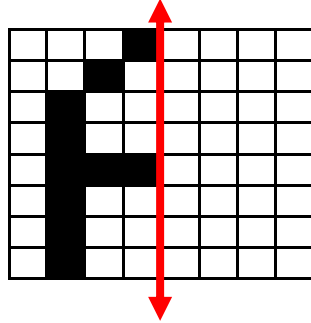
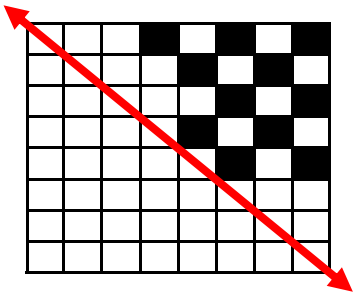
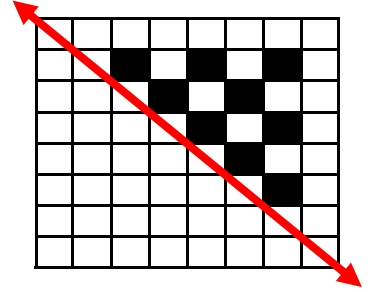
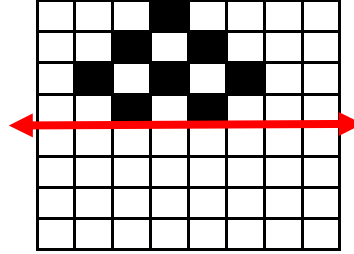
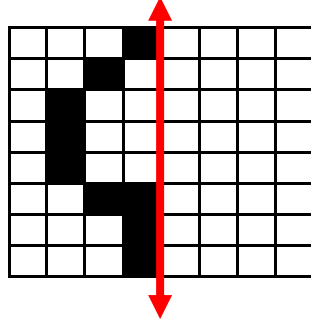
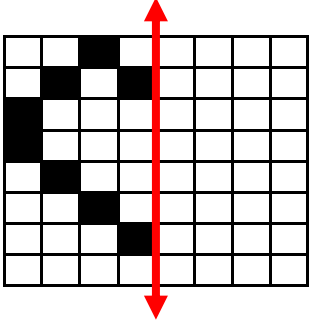
# 4. Sınıf

Simetri 2

Matematik

## Etkinlik 1

Aşağıda verilen şekillerin karşlarına simetriğini oluşturalım.



## Etkinlik 2

Aşağıda verilen harflerin simetri doğrularını oluşturalım.

C

V

M

Y

A

T

H

B



## Etkinlik 3

Aşağıda verilen ifadelerden doğru olan ifadelerin başına D yanlış olan ifadelerin başına Y yazalım.

- (....) Bir dikdörtgenin yalnızca bir simetri doğrusu vardır.
- (....) Her üçgenin simetri doğrusu vardır.
- (....) Bir yuvarlağın sonsuz sayıda simetri doğrusu vardır.
- (....) "A" harfi, yatayda simetrik.
- (....) "M" harfi, dikeyde simetrik.
- (....) Bir kare, dört simetri doğrusu ile katlanabilir.
- (....) "B" harfi, yatayda simetrik.
- (....) "O" harfi, hem yatay hem de dikeyde simetrik.
- (....) Bir yıldız şekli, simetrik değildir.
- (....) Çemberin 4 tane simetri doğrusu vardır.




## Etkinlik 4

Aşağıda verilen ülke bayrakları yatay simetrik mi dikey simetrik mi işaretleyelim.



- Yatay simetrik
- Dikey simetrik



- Yatay simetrik
- Dikey simetrik



- Yatay simetrik
- Dikey simetrik



- Yatay simetrik
- Dikey simetrik



- Yatay simetrik
- Dikey simetrik



- Yatay simetrik
- Dikey simetrik