

4.SINIF

Aylık Konular Denemesi

Mayıs Denemesi

- Türkçe: 15 Soru
- Matematik: 15 soru
- Fen Bilimleri: 10 soru
- Sosyal bilgiler: 10 soru
- İngilizce: 6 soru
- Din Kültürü: 6 soru

haydarhoca.net

@hhocaninsinifi

Adı: _____

Soyadı: _____

Sınıf: _____

No: _____

TEST AVCISI

4. Sınıf

.....MAYIS AYI KONULARI DENEMESİ..... TÜRKÇE.....

ARA GÜLER

Ara Güler, 1928 yılında İstanbul'da doğmuş, dünya çapında tanınan bir fotoğraf sanatçısıdır.



Sanat hayatına tiyatro ve yazarlıkla başlamış; ancak zamanla fotoğrafçılığa yönelmiştir. Özellikle belgesel fotoğrafçılığı alanında kendine has bir tarz geliştirerek "foto muhabiri" kimliğiyle öne çıkmıştır. "İstanbul'un Gözü" olarak anılan Güler, 1950'li ve 60'lı yıllarda İstanbul'un sokaklarını, insanlarını, yaşam mücadelesini ve şehrin ruhunu siyah beyaz karelerle ölümsüzleştirmiştir. Onun fotoğrafları sadece bir anı yansıtmaz; aynı zamanda bir duyguyu, bir hikâyeyi ve bir yaşam tarzını anlatır.

Time, Life, Paris Match, Stern gibi dünyaca ünlü dergilerde çalışmış; Pablo Picasso, Salvador Dali, Alfred Hitchcock gibi pek çok önemli ismi fotoğraflamıştır. Güler'e göre, iyi bir fotoğrafı belirleyen şey, pahalı bir makine değil; o anı görüp hissedebilen bir gözdür. Bu yüzden "En iyi fotoğrafları en pahalı makineler değil, en iyi gözler çeker." sözüyle, bakış açısının ve duygunun teknik ekipmandan daha değerli olduğunu savunmuştur. 2018 yılında aramızdan ayrılan Ara Güler, geride yüz binlerce fotoğraf ve unutulmaz bir sanat mirası bırakmıştır.

Haydar Soyer

1. 2. 3. ve 4. soruyu metne göre cevaplandırınız.

- 1) Aşağıdakilerden hangisi metinde Ara Güler hakkında doğrudan değinilmemiştir?
- A)** Fotoğrafçılıktan önce tiyatroya ilgi duyduğu
B) İstanbul dışındaki şehirleri de fotoğrafladığı
C) Ünlü sanatçıları objektifine aldığı
D) Belgesel fotoğrafçılığında özgün bir tarz geliştirdiği

2) "En iyi fotoğrafları en pahalı makineler değil, en iyi gözler çeker." sözüyle Ara Güler aşağıdakilerden hangisini vurgulamaktadır?

- A)** Fotoğraf çekmenin kaliteli ekipmanla mümkün olduğunu
B) Fotoğrafçılıkta esas olanın insanın yeteneği ve bakış açısı olduğunu
C) Herkesin aynı makinelerle aynı fotoğrafları çekebileceğini
D) Teknolojinin sanattan daha önemli hale geldiğini

3) Ara Güler'in İstanbul fotoğraflarının en belirgin özelliği aşağıdakilerden hangisidir?

- A)** Tamamının renkli olması
B) İstanbul'un modern yüzünü göstermesi
C) Şehirdeki yaşamı duygusal bir anlatımla yansıtması
D) Sadece tarihi yapıları içermesi

4) Aşağıdakilerden hangisi Ara Güler'in mesleki kimliğini en iyi tanımlar?

- A)** Stüdyo fotoğrafçısı
B) Savaş muhabiri
C) Belgesel fotoğrafçısı ve foto muhabiri
D) Şehir fotoğrafçısı

5) Annem sessizce fısıldadı() () Keşke biraz daha zamanımız olsaydı da () ()

Yukarıda verilen () yerlere sırasıyla hangi noktalama işaretleri getirilmelidir?

- A)** (.) (") (") (...)
B) (:) (") (") (...)
C) (.) (") (.) (")
D) (:) (") (...) (")

- 6) 1. Çantasını yavaşça yere bıraktı ve gözlüklerini taktı.
2. Herkes sessizce yerine oturmuş, onu dikkatle izliyordu.
3. Derse başlamadan önce sınıfı baştan sona süzdü.
4. Sonra elindeki dosyayı açıp yumuşak bir sesle konuşmaya başladı.

Numaralanmış cümleler olay akışına göre nasıl sıralanmalıdır?

- A)** 2 - 1 - 3 - 4
B) 2 - 1 - 4 - 3
C) 1 - 2 - 3 - 4
D) 2 - 3 - 1 - 4

- 7) Aşağıdakilerin hangisinde büyük harflerin kullanımıyla ilgili yanlışlık yapılmıştır?

- A)** İstanbul Boğazı'nda güzel bir yürüyüş yaptık.
B) Mehmet Akif Ersoy'un şiirleri çok etkileyicidir.
C) Tatilde Kapadokya bölgesini ziyaret edeceğiz.
D) Ulusal Egemenlik ve Çocuk Bayramı coşku ile kutlandı.

- 8) Karsıdaki insanları görünce onlara da hak verdim ki bu kadar bekleyişin sonucu bunu olmalıydı?

Yukarıda verilen altı çizili kelimelerden hangisinin yazımında hata yapılmıştır?

- A)** 1 **B)** 2 **C)** 3 **D)** 4

- 9) Genç adam ellerini açıp şöyle dua etti:
() Ey yüce Allah'im ()
Bana sabır, akıl ve doğru yolu göster.

Bu metinde yay ayrıçla () belirtilen yerlere sırasıyla aşağıdaki noktalama işaretlerinden hangileri getirilmelidir?

- A)** (—) (.)
B) (:) (!)
C) (—) (!)
D) (") (.)

- 10) Kardeşim Elif ile birlikte bahçedeki saksıya çiçek ekiyorduk. Toprağı ellerimizle güzelce düzelttik. Elif, çiçeği dikkatlice yerleştirdi, ben de suladım. Bir süre sonra minik bir uğur böceği saksının kenarına kondu. İkimiz de onu izlerken çok heyecanlandık. Küçük bir canlı bile bizi bu kadar mutlu edebilmişti.

Bu metinde aşağıdaki hikâye unsurlarından hangisi yoktur?

- A)** Yer
B) Zaman
C) Kişi
D) Olay

- 11) Aşağıda verilen kısaltmalardan hangisine gelen ekte hata yapılmıştır?

- A)** ABD'ye
B) kg'si
C) Alm. dan
D) TÜBİTAK'ın

- 12) Ali, Türkçe dersinde metin bölümleriyle ilgili bir etkinlik yapmaktadır. Öğretmeni öğrencilere bir hikâye verip bu hikâyeyi giriş, gelişme ve sonuç bölümlerine ayırmalarını istemiştir. Öğretmen ayrıca her bölümün özelliklerini tahtaya şu şekilde yazmıştır:

Giriş: Kahramanlar tanıtılır, zaman ve yer belirtilir, olayın başlangıcı anlatılır.

Gelişme: Olaylar ayrıntılı ve heyecanlı bir şekilde anlatılır.

Sonuç: Olay sona erer ve merak edilenler açıklığa kavuşur.

Ali'nin hikâyesi şu şekildedir:

Bir zamanlar uzak bir ormanda Ali adında bir çocuk yaşamış. Ali, ormanın derinliklerine gitmeyi severdi ama annesi ona gitmemesini söylemişti. Buna rağmen, Ali ormanın en uzak köyüne gitmeye karar verdi. Ali ormanda ilerledikçe etrafındaki ağaçlar büyüdü ve birden karanlık oldu. Kaybolduğunu fark etti. Bir ses duyup, sesin geldiği yöne giderek eski bir kulübeye ulaştı. Kulübede, ormanın derinliklerinde kaybolmuş bir hazinenin yerini gösteren bir harita buldu. Ali, haritayı takip ederek hazineyi buldu. Fakat içinde eski kitaplar vardı. Ali eve dönerken, gerçek hazinenin kitaplar olduğunu öğrendi.

Ali, aşağıdaki açıklamalardan hangisini metnin sonuç bölümünü anlatmak için yazarsa doğru bir değerlendirme yapmış olur?

- A)** Ali ormanın derinliklerine gitmeye karar verdiği yeri anlatıyor.
B) Ormanda karşılaştığı zorlukları ve bulduğu haritayı anlatıyor.
C) Hazinenin aslında kitaplardan oluştuğunu fark ediyor.
D) Annesinin neden gitmesini istemediğini anlamaya çalışıyor.

13)

Yaz-kara-Tok-Kır-Geç

Yukarıda verilen kelimelerle ilgili aşağıda verilen ifadelerden hangisi yanlıştır?

- A)** Kelimelerin tamamını eş seslidir.
B) Kelimelerin tamamı eş anlamlısı ve zıt anlamlısı vardır.
C) Verilen kelimelerin 2 tanesinin eş anlamlısı vardır 2 tanesinin yoktur.
D) Eş seslisi olan kelimelerin eş ve zıt anlamları da vardır.

14)

Ayşe ve Kerem iki farklı metin okudu. Ayşe'nin okuduğu metinde bir çocuğun ormanda kaybolduktan sonra nasıl eve döndüğü anlatılıyordu. Kerem'in okuduğu metin ise ormanlardaki ağaç türlerini ve hayvanların yaşamını anlatıyordu. Ayşe ve Kerem'in okuduğu metin türleri sırasıyla aşağıdakilerden hangisidir?

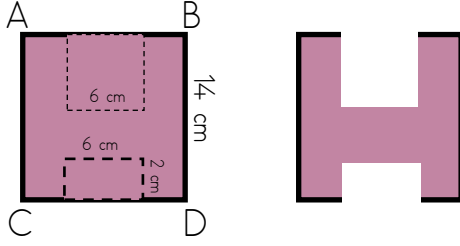
- A)** Ayşe: Bilgilendirici Metin – Kerem: Hikâye Edici Metin
B) Ayşe: Hikâye Edici Metin – Kerem: Bilgilendirici Metin
C) Her ikisi de Hikâye Edici Metin
D) Her ikisi de Bilgilendirici Metin

15)

Aşağıdaki cümlelerden hangisinde gereksiz sözcük kullanımı nedeniyle anlatım bozukluğu vardır?

- A)** Öğrenciler fikirlerini açıkça söyleyip tartıştılar.
B) Yaz tatilinde hem dinlendi hem eğlendi.
C) Herkesin görüş ve fikirlerine saygı duyulmalı.
D) Bu konuyu henüz öğretmenimize sormadık.

1)



Yukarıda verilen ABCD karesinden bir kenarının uzunluğu 6 cm olan bir kare ve kenar uzunlukları sırasıyla kısa kenar 2 cm ve uzun kenarı 6 cm olan şekiller kesilerek yanda verilen şekil oluşturuluyor.

Buna göre oluşturulan yeni şeklin çevresi kaç cm'dir?


- A)** 56 **B)** 72 **C)** 44 **D)** 70

2) Çevresinin uzunluğu 88 cm olan kare şeklindeki bir karton iki eş dikdörtgen bölgeye ayrılıyor.

Bu bölgelerden birinin çevresinin uzunluğu kaç santimetredir?

- A)** 44 **B)** 66 **C)** 132 **D)** 33

3)

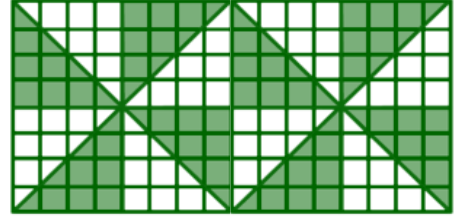


Yanda verilen eş karelerden oluşan kare şeklindeki bahçenin dış kısmının çevresinin uzunluğu 48' cm'dir.

Buna göre bu bahçenin iç kısmında oluşan karenin çevre uzunluğu ile dış kısmının çevre uzunluğunun çarpımı kaçtır?

- A)** 1152 **B)** 288 **C)** 576 **D)** 1200

4)



Yukarıdaki dikdörtgeinin boyalı kısmının alanının $\frac{2}{8}$ 'si kaç birimkaredir?

- A)** 64 **B)** 32 **C)** 16 **D)** 48

5) Aşağıda verilen dönüşümlerden hangisi yanlıştır?

- A)** 3 t 250 kg = 3250 kg
B) 30150 g = 30 t 150 g
C) 12 kg 195 g = 12195 g
D) 5002 kg = 5 t 2 kg

6) Bir müşteri aşağıdaki tezgâhtan 2500 g elma, 250 g soğan alıyor.



Kilosu 24 tl



Kilosu 64 tl

Yukarıda verilen bilgilere göre bu müşteri kaç tl ücret öder?

- A)** 166 tl
B) 134 tl
C) 88 tl
D) 76 tl

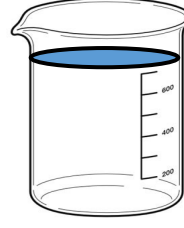
- 7) Efe ve Arda birlikte bir pastane için alışveriş yaptı. Aldıkları tüm malzemelerin toplam kütlesi 7 kg 200 g idi. Efe'nin aldığı malzemelerin kütlesi 3 kg 450 g olduğuna göre, Buna göre Arda'nın aldığı malzemelerin kütlesi kaç gramdır?
- A)** 3 t 750 kg
B) 3750 g
C) 3850 g
D) 3 g 750 kg

- 8) Haluk hastalandı ve doktora gitti. Doktor Haluk'a 350 ml'lik 2 tane şurup yazdı. Şurupların her birinden günde 2 kez sabah ve akşam olmak üzere 25 ml'lik ölçekler halinde tüketmesini söyledi. Buna göre Haluk şurupları kaç günde bitirir?
- A)** 7 günde
B) 14 günde
C) 28 günde
D) 12 günde



- 9) 14 litre süt, 200 mililitrelik 20 şişeye ve 500 mililitrelik 8 şişeye dolduruluyor. Geriye kalan süt ile 250 mililitrelik kaç şişe doldurulur?
- A)** 20
B) 24
C) 16
D) 6

10)



1. Kap: 8 L 250 mL



2. Kap: 2 L 750 mL

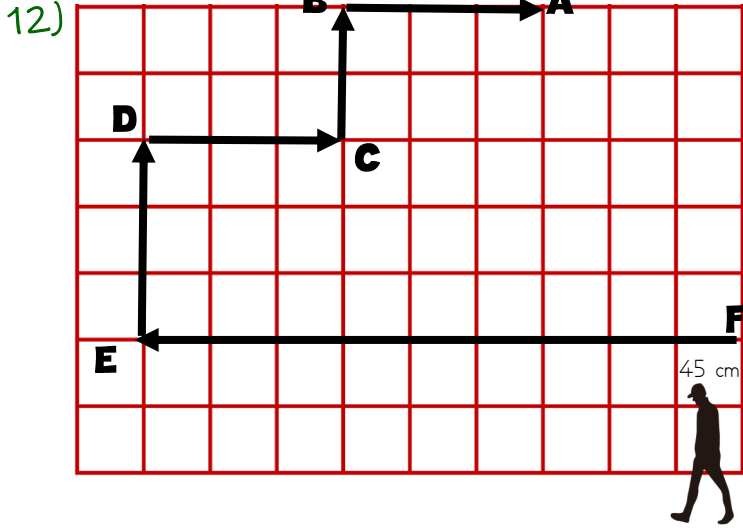
1. kaptaki suyun ne kadarı 2. kaba boşaltılırsa kaplardaki su miktarları eşit olur?
- A)** 2 L 750 mL
B) 2 L 500 mL
C) 2 L 250 mL
D) 4 L 750 mL

- 11) Görseldeki masanın üstüne her birinin kalınlığı 15 mm olan 8 kitap üst üste konmuş ve bu kitapların üzerine bir vazo yerleştirilmiştir.



60 cm

- Verilen bilgilere göre vazonun uzunluğu kaç milimetredir?
- A)** 12 mm
B) 120 mm
C) 480 mm
D) 48 cm



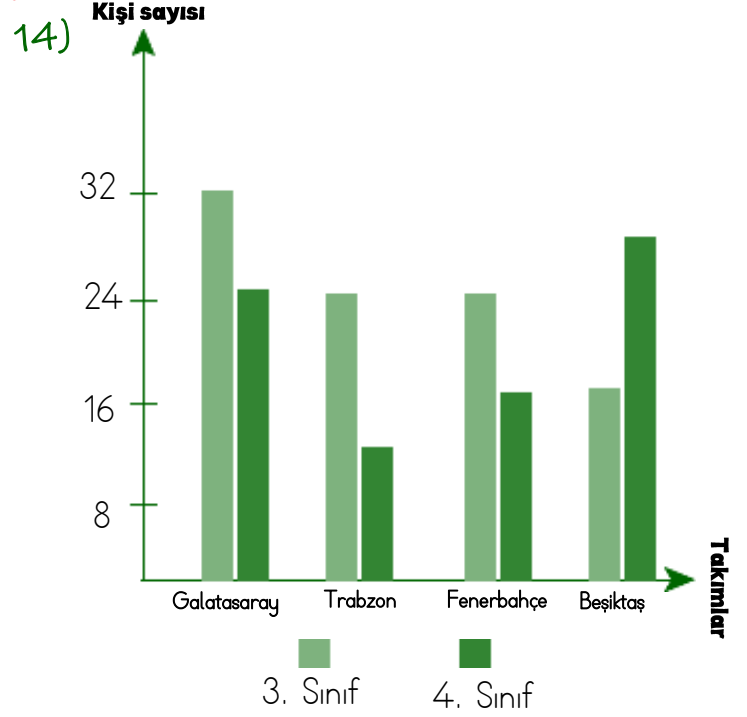
Yukarıda verilen kutucukların her birinin uzunluğu 45 cm'dir. F noktasında bulunan Alper E noktasına gidiyor. Daha sonra E noktasından F noktasına tekrar gidip F noktasından A noktasına belirtilen oklar doğrultusunda yürüyor.

Buna göre Alper ne kadar yol yürümüştür?

- A) 17 metre 10 cm
- B) 900 cm
- C) 13 m 5 cm
- D) 15 m 75 m

12.) Aşağıdaki zamanların hangisinde, bir saatin akrep ve yelkovanı dar açı oluşturur?

- A) 13.25
- B) 15.45
- C) 12.15
- D) 16.30



Verilen grafiğe göre aşağıdaki ifadelerden hangisi yanlıştır?

- A) Galatasaray'ı tutan 3. sınıf öğrenci sayısı, 4. sınıftan fazladır.
- B) Beşiktaş'ı tutan 4. sınıf öğrenci sayısı, 3. sınıfa göre daha fazladır.
- C) Fenerbahçe'yi tutan 4. sınıf öğrenci sayısı, 3. sınıftan azdır.
- D) Trabzonspor'u tutan 3. sınıf öğrencisi sayısı, 4. sınıfa göre daha azdır.

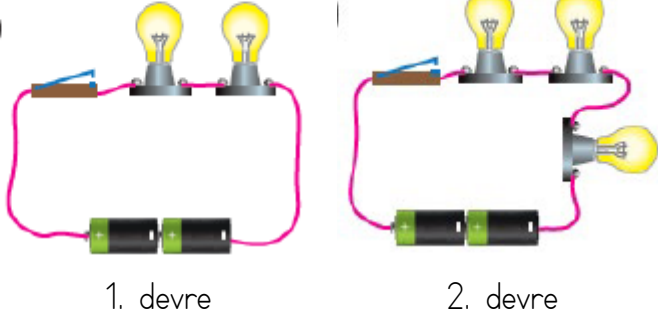
15.)

14:27:15

Yukarıda verilen dijital saatte gösterilen saatten 735 saniye sonra, saat kaç olur?

- A) 14:39:30
- B) 14:39:00
- C) 14:40:30
- D) 14:38:15

5)



1. devre

2. devre

Kullanılan malzemeler özdeştir.

Yukarıda verilen devrelerden 1. devrenin parlaklığı 2. devrenin parlaklığından fazla olmasının nedeni nedir?

- A)** 1. devredeki ampul sayısı 2. devredeki ampul sayısından fazla olduğu için.
- B)** 2. devredeki devreye enerji sağlayan elemanın sayısı fazla olduğu için.
- C)** Pilden gelen enerjiyi ışık enerjisine çeviren devre eleman sayısının 2. devreden az olduğundan
- D)** 2.devrede kullanılan pilin enerjisi daha az

6) Bir öğrenci, televizyonun fişini prize taktığı hâlde cihaz çalışmamıştır. Öğrenci, "Fişi taktım ama hiçbir şey olmadı" demiştir.

Buna göre öğrencinin aşağıdaki hangi adımı atmış olabileceği en güçlü ihtimaldir?

- A)** Televizyonun kumandasındaki piller bitmiş olabilir, bu yüzden cihaz açılmamıştır.
- B)** Oda yeterince aydınlık olduğu için televizyon kendini otomatik olarak kapatmıştır.
- C)** Televizyonun açma/kapama düğmesine basılmamıştır, bu yüzden devre tamamlanmamıştır.
- D)** Televizyon güneş ışığıyla çalışan bir cihaz olduğu için prize takmak işe yaramamıştır.

7) Aşağıdakilerden hangisi geri dönüşüm kapsamında değerlendirilemez?

- A)** Kullanılmış cam şişelerin eritilerek yeni cam ürünlere dönüştürülmesi
- B)** Atık kağıtların toplanarak tekrar hamur haline getirilmesi ve defter yapımında kullanılması
- C)** Plastik kapların öğütülerek yeni plastik oyuncaklar yapılması
- D)** Doğal gazdan plastik ham madde üretilmesi

8) Işık, yanlış yerlerde ve gereğinden fazla kullanıldığında ışık kirliliği meydana gelir. Bu durum hem insanlar hem de çevre için çeşitli olumsuz sonuçlar doğurabilir.

Aşağıdakilerden hangisi ışık kirliliğinin sonuçlarından biri değildir?

- A)** Göç eden kuşların yönlerini şaşırmasına neden olması
- B)** Gök cisimlerinin net bir şekilde gözlemlenememesi
- C)** Bitkilerin ışık ile oksijen üretme hızı artarak daha sağlıklı gelişmesi
- D)** Gereksiz aydınlatma nedeniyle enerji israfının artması

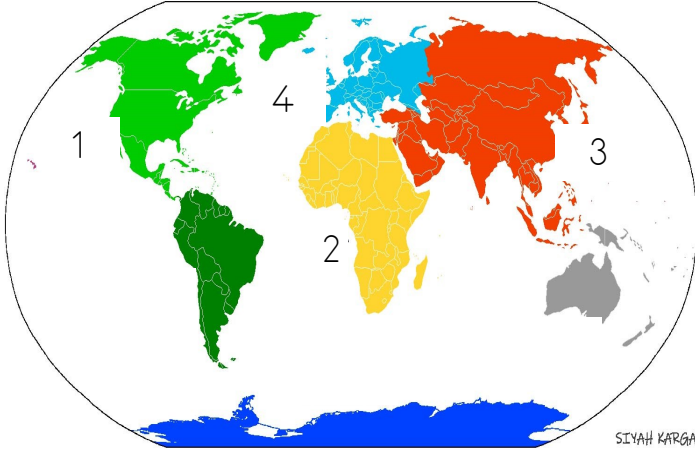
9) Aşağıdakilerden hangisi mıknatıslarla ilgili doğru bir bilgi değildir?

- A)** Mıknatısın uçlarında çekim gücü en fazladır.
- B)** Aynı kutuplar birbirini iter, zıt kutuplar birbirini çeker.
- C)** Mıknatıslar yalnızca demir ve nikel cisimleri çeker.
- D)** Mıknatıslar kırıldıkça 2 kutup oluşur.

10) Aşağıdaki besin - içerik eşleştirmelerinden hangisi yanlıştır?

- A)** Şeker - Karbonhidrat
- B)** Elma - Vitamin
- C)** Yeşil mercimek - Protein
- D)** Süt - Mineral

1)



Aşağıdakilerden hangisi yukarıda verilen haritada numaralandırılarak gösterilen kıtalardan biri değildir?

- A)** Asya **B)** Avustralya
C) Avrupa **D)** Afrika

2)



Aşağıdakilerden hangisi Türkiye'nin doğudaki komşularından biri değildir?

- A)** Gürcistan **B)** Ermenistan
C) Bulgaristan **D)** İran

3)



Yukarıda verilen mimari yapılar ait oldukları ülkeler ile eşleştirildiğinde aşağıdakilerden hangisi boşta kalır?

- A)** İtalya **B)** Mısır
C) Fransa **D)** Hindistan

4) Aşağıdakilerden hangisi farklılıklara saygının sağladığı faydalardan biri değildir?

- A)** Dünyada barış ortamını güçlendirir.
B) Ülkeler arası iş birliği sağlar.
C) Kültürel farklılıklar azalır.
D) Küreselleşme gerçekleşir.

- 5) I) Kuzey Amerika Kıtasında yer alır.
II) Başkenti Meksiko'dur.
III) Çiçen İtza Piramidi

Aşağıdakilerden hangisi yukarıda özellikleri verilen ülke ile ilgilidir?

A)



B)



C)



D)



6)

.....'ın başkenti Aşkaabat'tır. Dünyanın en büyük dördüncü doğal gaz üreticisi konumundadır. Türkiye ile arasında eğitim ve kültür başta olmak üzere birçok alanda iş birliği vardır.

Yukarıda verilen noktalı yere gelmesi gereken ülke aşağıdakilerden hangisidir?

- A)** Kırgızistan **B)** Kazakistan
C) Özbekistan **D)** Türkmenistan

7) Ayşe ve arkadaşları, öğretmenlerinin verdiği "Geri dönüşüm malzemelerinden bir taşıma kutusu tasarlayın" projesi için grup çalışması yapıyorlar.

Ayşe: "Önce taşıma kutusuna neden ihtiyaç duyulduğunu düşündük."

Mehmet: "Sonra internette ve kütüphanede benzer kutuları araştırdık."

Elif: "Ardından nasıl bir kutu yapacağımızı planladık."

Ancak bir işlem daha yaptıktan sonra malzeme almaya karar verdik.

Buna göre, öğrencilerin hangi işlemi yapması bu aşamada en uygun olur?

- A)** Ürünü tanıtmaya
- B)** Denemeler yapma
- C)** Kaynakları araştırma
- D)** Problemi belirleme

8) Elif, ailesiyle birlikte yaz tatilinde Ege Bölgesi'ndeki büyükbabasının köyüne gitti. Büyükbabası, yaz boyunca sabah erken saatlerde tarlaya gidip pamuk topladıklarını söyledi. Elif köyde şunları gözlemledi: Toprağın dümdüz ve verimli olduğunu Havanın sıcak ve yağışın az olduğunu Köylülerin sulama kanalları yaptığını Toplanan pamuğun kamyonlara yüklenerek fabrikalara gönderildiğini Elifin gözlemlerine göre, köydeki en yaygın ekonomik faaliyet aşağıdakilerden hangisidir?

- A)** Madencilik
- B)** Sanayi
- C)** Tarım
- D)** Hayvancılık

9) Aşağıda verilen tabloda ürünlerin üretildiği yerler ve ürünlerle ilgili bazı açıklamalar verilmiştir.

Ürün	Üretim Yeri	Açıklama
Zeytinyağı	Ayvalık	Cam şişede, tarladan fabrikaya gitmiş
Süt	Konya	Soğutuculu kamyonla markete gelmiş
Domates	Antalya	Halden manava dağıtılmış
Kuruyemiş	Gaziantep	Paketlenip zincir markete gönderilmiş

Tabloda verilen açıklamalar aşağıda verilen üretim faaliyetlerinden en çok hangisiyle ilgilidir?

- A)** Üretim
- B)** Dağıtım
- C)** Tüketim
- D)** Pazarlama

10) Ali'nin ailesi, yeni doğan kardeşini nüfus müdürlüğüne götürerek kimlik çıkarttı. Görevliler bebeğe bir kimlik numarası verdi ve onun hangi ülkenin vatandaşı olduğunu kayıt altına aldı. Ali, okulda bu durumu öğretmeniyle paylaştı. Öğretmeni şöyle dedi:

"Bu işlemle birlikte kardeşin artık resmî olarak bir kimliğe sahip oldu. Bu onun doğuştan sahip olduğu bir haktır."

Bu durum, aşağıdaki çocuk haklarından hangisiyle ilgilidir?

- A)** Beslenme
- B)** Vatandaşlık
- C)** Barınma
- D)** İfade özgürlüğü

1)

Is she thirsty ?

- A)** Yes,she is.
B) Yes,she wants a bread.
C) No,she isn't.
D) She is eating an icecream



4)

August, ----- , -----, November

- A)** October/September
B) October/December
C) September/December
D) September/October

2)



Would you like a sandwich ?

No thanks. I'm.....

- A)** hungry
B) happy
C) full
D) old



haydarhoca.net

5)

My uncle is a fireman.
He----- the fire.

- A)** takes off
B) put out
C) takes on
D) puts off

3)

Ali: What would you like to eat ?
Burak:

- A)** salad
B) tea
C) Milk
D) Coffee

6)

I can't see the road.
Because it's---

- A)** cloudy
B) cold
C) foggy
D) hot

- 1) Temizliğin bir diğer adı "....."dır. Sözlükte "temizlenmek, arınmak" anlamına gelir. Boş bırakılan yere aşağıdakilerden hangisi getirilmelidir?
- A)** Abdest
B) Yıkamak
C) Taharet
D) Namaz
- 2) "Yedi göğü tabaka tabaka yaratan O'dur. Rahman'ın yaratmasında hiçbir uyumsuzluk göremezsin. Bir kere daha bak! Hiçbir çatlak ve düzensizlik görüyor musun?" Bu ayette aşağıdakilerden hangisi ifade edilmeye çalışılmıştır?
- A)** Allah insanlara doğru yolu göstermiştir.
B) Evrenin mükemmel bir düzen içinde yaratıldığı anlatılmaktadır.
C) İnsanlar çevreyi istedikleri gibi kullanabilir.
D) Tabiattaki güzellikler tesadüfen oluşmuştur.
- 3) Abdest, ibadetlerimizi yerine getirmeden önce alınan bir temizliktir. Aşağıdakilerden hangisi abdestin farzlarından biridir?
- A)** Misvak kullanmak
B) Başın dörtte birini mesh etmek
C) Tırnak kesmek
D) Dış fırçalamak

- 4) Aşağıda "Allahümme Salli" duasının bölümleri karışık olarak verilmiştir. Bu dua, Peygamber Efendimize (s.a.v.) salavat getirmek amacıyla okunur.

1. Kema salleyte ala İbrahim
2. Ve ala ali Muhammed
3. İnneke hamidün mecid
4. Allahümme salli ala Muhammedin
5. Ve ala ali İbrahim

Buna göre dua bölümlerinin doğru sıralaması hangi seçenekte verilmiştir?

- A)** 1 - 4 - 2 - 5 - 3
B) 4 - 2 - 1 - 5 - 3
C) 4 - 1 - 2 - 3 - 5
D) 2 - 4 - 1 - 3 - 5

- 5) Kur'an-ı Kerim'in ilk ve son sureleri hangi seçenekte doğru olarak verilmiştir?

- A)** Fatıha-Bakara
B) Fatıha-Nas
C) Fatıha-Yasin
D) Fatıha-İhlas

- 6) Aşağıda Hz. Muhammed (s.a.v.) ve İslam tarihiyle ilgili bazı bilgiler verilmiştir:
- I. Ehl-i Beyt, Peygamber Efendimizin ailesini ifade etmek için kullanılan bir isimdir.
 - II. Medine'ye yapılan hicret, İslam tarihindeki dönüm noktalarından biridir.
 - III. Peygamber Efendimizin soyu, Hz. İbrahim'in oğlu Hz. İsmail'e kadar uzanır.
 - IV. Veda Hutbesi, insan hakları ve toplumsal değerler açısından evrensel mesajlar içerir.
- Yukarıdaki ifadelerden hangisi ya da hangileri doğrudur?

- A)** Hepsi
B) II - III
C) Sadece IV
D) II - IV