



4. Sınıf

Aylık Konular Denemesi

Nisan Denemesi

- *Türkçe: 15 soru*
- *Matematik: 15 soru*
- *Fen Bilimleri: 10 soru*
- *Sosyal Bilgiler: 10 soru*
- *İngilizce: 6 soru*
- *Din Kültürü: 6 soru*

haydarhoca.net

@hhocaninsnifi



Adı: _____
Soyadı: _____
Sınıfı: _____
No: _____

TEST AVCISI

4. Sınıf

.....NİSAN AYI KONULARI DENEMESİ..... TÜRKÇE.....

ANADOLU

Anadolu, taşında toprağın-
da hikâyeler taşıyan kadim
bir yerdir. Sabahları kekik
kokusu sarar dağlarını, ak-
şamları serin rüzgârlar okşar
buğday başaklarını. Her
köyünde ayrı bir türkü, her kasabasinda
farklı bir gelenek yaşar. Anadolu demek,
sıcakkanlı insanların dost sofrası demektir.
İkram edilen bir dilim ekmekte, sunulan
bir bardak çayda bin yıllık misafirperverlik
gizlidir. Burada tarihin ayak sesleri hala
duyulur; antik tiyatrolar, hanlar, kaleler
sessizce geçmişi fısıldar. Yaylalarında öz-
gürce koşan çocuklar, bayram sabahların-
da umutla açılan kapılar vardır. Anadolu,
sadece bir coğrafya değil, ruhu olan bir
yerdir. Toprağından ilham alan şairler,
destanlar yazmış; sevdalar, kahramanlıklar
bu topraklarda filizlenmiştir. Bugün hâlâ
Anadolu, yaşayan bir tarih, bitmeyen bir
masal gibi gönülleri fethetmeye devam
ediyor.

Haydar Soyer

1. 2. 3. ve 4. soruyu metne göre cevaplandırınız.

- 1) Metinde geçen altı çizili cümle ile aşağı-
dakilerden hangisi anlatılmak istenmiştir?
- A)** Anadolu'da insanlar genellikle kala-
balık sofralarda yemek yerler.
B) Anadolu insanı misafirperver ve sa-
mimidir.
C) Anadolu'nun yemekleri dünyanın en
lezzetlisidir.
D) Anadolu'da her köyde farklı yemekler
yapılır.

haydarhoca.net



haydarhoca.net

- 2) Aşağıdaki sorulardan hangisinin cevabı
verilen Anadolu metninde yoktur?
- A)** Anadolu'da insanlar misafirlerine
nasıl davranır?
B) Anadolu'da hangi doğal kokular sa-
bahları dağları sarar?
C) Hangi tarihi yapılar bulunur?
D) En çok hangi ürünleri yetiştirilir?
- 3) Aşağıdakilerden hangisi bu metinden
çıkarılamaz?
- A)** Anadolu'da doğa ve kültür iç içe
geçmiştir.
B) Anadolu insanı misafirperverdir ve
geleneklerine bağlıdır.
C) Anadolu'da modern şehir hayatı
hâkimdir.
D) Anadolu, tarih boyunca birçok uygar-
lığın izlerini taşımaktadır.
- 4) Metne göre, Anadolu'nun nesi hâlâ
insanları etkilemeye devam etmektedir?
- A)** Modern şehir yapıları
B) Teknolojik gelişmeler
C) Zengin tarihi ve kültürel geçmişi
D) Büyük sanayi tesisleri
- 5) Aşağıda verilen cümlelerin hangisinde
kullanılan ikilemenin oluşma şekli
diğerlerinden farklıdır?
- A)** Bu iş az çok hallolur, merak etme.
B) Sabahları eski yeni kitaplara bakarak
vakit geçiriyorum.
C) İleri geri yürüdü durdu.
D) Eğri büğrü iplerle oyun oynuyordu.

6) Genç adam yalnız kalınca kendini kitap okumaya vermişti. Kitapların macera dolu serüvenlerinden dolayı onları elinden bırakamıyordu. Kahvesini yapıp kitabını eline almıştı. Kitap okurken yağmurlu havaları çok severdi. Yağmur yağarken gün batımının kızılığı da eve vuruyordu.

Bu metinde aşağıdaki hikâye unsurlarından hangisi yoktur?

- A)** Ana karakter **B)** Yer
C) Olay **D)** Zaman

7) (1) Yaz tatilinde köydeki dedemlerin yanına gittim. (2) Oradaki ağaçlar o kadar büyüktü ki dalları gökyüzüne değiyordu. (3) Bahçede oynarken rengârenk kelebeklerin peşinden koştum. (4) Akşam olunca dedemle yıldızları seyrettik.

Bu metindeki numaralanmış cümlelerin hangisinde abartılı bir anlatım vardır?

- A)** 1 **B)** 2 **C)** 3 **D)** 4

8) Aşağıdaki cümlelerin hangisi nesnel bir yargı içermektedir?

- A)** Bu şiir bence şairin en güzel eseridir.
B) Elma, C vitamini bakımından zengin bir meyvedir.
C) Bugün hava çok bunaltıcı ve kötü.
D) Mavi, en güzel renktir

9) Aşağıdaki cümlelerin hangisinde mecazlı bir anlatım yoktur?

- A)** Sert sözleriyle arkadaşını kırdı
B) Bu acı olaylar beni çok etkiledi.
C) Yorgunluktan konuşmaya bile mecali yoktu.
D) Sevgi en güçlü bağıdır.

10) Atatürk() ()Çocuklar geleceğimizin güvencesi() yaşama sevincimizdir.() demiştir.

Bu metinde yay ayraçla () gösterilen yerlere sırasıyla aşağıdaki noktalama işaretlerinden hangileri getirilmelidir?

- A)** (:) (!) (.) (,) **B)** (,) (...) (:) (!)
C) (:) (") (,) (") **D)** (,) (,) (:) (,)

11) Yansıma sözcükler, mecaz anlama gelecek şekilde kullanıldıklarında yansıma anlamı ortadan kalkar.

Aşağıdakilerden hangisinde yukarıdaki duruma örnek bir kullanım vardır?

- A)** Toplantıda bir ara sıkıntıdan patlayacak gibi oldum.
B) Adamın kalkmadığını görünce öksürdü.
C) Çalılıktan bizi korkutan çıtırtı sesler geliyordu.
D) Adam, tıngır mıngır yukarı geldi.

- 12) Adem, yaklaşık on bes senedir şehirleri,
 1
 kasabaları gezdi. Gezdiği çoğu yerlerde
 2
 gördükleri onu çok üzdü. Çöp, pislik...
 Bir gün geleceki insanoğlunun elinde
 3
hicbir sey kalmayacak.
 4

Bu metinde numaralanmış yerlerin hangisinde yazım yanlışı yapılmıştır?

- A)** 1 **B)** 2 **C)** 3 **D)** 4

- 13) Aşağıdakilerin hangisinde büyük harflerin yazımıyla ilgili bir yanlılık yapılmıştır?

- A)** Seher, Küçük Prens isimli kitabı okuyacak.
B) Mustafa Kemal, 19 Mayıs 1919' da Samsun'a çıktı.
C) Anneler Günü anneleri mutlu etmek son derece önemlidir.
D) Şehrin en kalabalık yeri Beyoğlu Caddesi oraya uğramadan gelme!

- 14) Keloğlan, Türk masallarında karşımıza akıllı ve sevimli biri olarak çıkar. Kimi hikâyelerde köyde yaşar, kimi hikâyelerde saraya kadar gider. Keloğlan, Azerbaycan'da da çok sevilir, başka ülkelerde de benzer hikâyeleri anlatılır. Masallarında bazen köylü, bazen padişah, bazen de tüccar olarak karşımıza çıkar. "Tilkinin dönüp dolaşıp kürkçü dükkânına gelmesi" gibi bazı atasözlerini masallarıyla tanıtır.

Bu metne göre, Keloğlan ile ilgili aşağıdaki-lerden hangisine değinilmemiştir?

- A)** Nerelerde yaşadığına
B) Hikâyelerinin başka ülkelerde anlatıldığına
C) Masallarında farklı kişilere büründüğüne
D) Masallarının mutlu sonla bittiğine


- 15) Çocuklar neşeyle koşar, sevinçle uçar,
 Oyun dolu günlerde şarkılar açar.
 Bahçede gülüşler vardır, kahkahalarla kaçar,
 Gökyüzü pırl pırl, masmavi parlar.

Küçük eller umut taşır, ufak dilekler fısıldar,
 Minik kalpler hayal kurar, mutluluk arar.
 Sabahları güneşle uyanır, ışıkla coşar,
 Kirlarda el ele mutluluğa koşar...

Yukarıda verilen şiirin kaçınıcı dizelerinde eş anlamlı kelimeler bir arada kullanılmıştır?

- A)** 1-3-5
B) 2-4-7
C) 1-3-8
D) 1-3-6

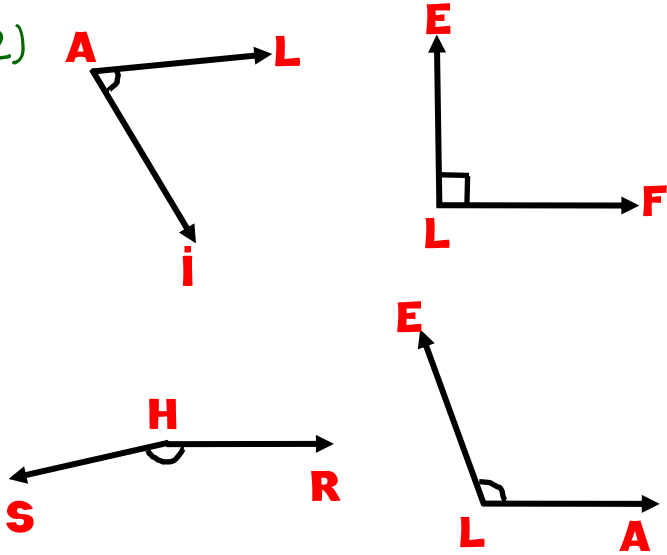
1)



Yanda verilen saatin akrep ile yelkovanın arasındaki açının ölçüsü ve türü nedir?

	Ölçüsü	Türü
A)	110	Geniş
B)	120	Geniş
C)	90	Dik
D)	60	Dar

2)



Yukarıda verilen açılarının ölçülerini büyükten küçüğe doğru sıralarsak cevap aşağıdakilerden hangisi olur?

- A) $\hat{A}L\hat{I}$ > $\hat{E}L\hat{F}$ > $\hat{E}L\hat{A}$ > $\hat{S}H\hat{R}$
- B) $\hat{S}H\hat{R}$ > $\hat{E}L\hat{A}$ > $\hat{E}L\hat{F}$ > $\hat{A}L\hat{I}$
- C) $\hat{S}H\hat{R}$ < $\hat{E}L\hat{A}$ < $\hat{E}L\hat{F}$ < $\hat{A}L\hat{I}$
- D) $\hat{S}H\hat{R}$ > $\hat{E}L\hat{F}$ > $\hat{E}L\hat{A}$ > $\hat{A}L\hat{I}$

3)

I) Bir geniş açı ile bir dik açının ölçüleri farkı, 90° 'den küçüktür.

II) İki dik açının ölçüleri toplamı, bir doğru açının ölçüsüne eşittir.

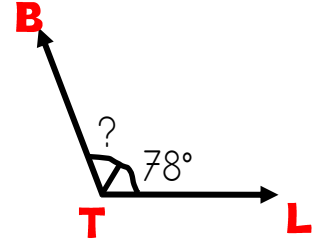
III) Bir doğru açı ile bir dar açının ölçüleri farkı, 90° 'den büyüktür.

IV) Bir geniş açı ile bir dar açının ölçüleri farkı, hiçbir zaman 90° olamaz.

Açı ve açı ölçüleri ile ilgili yukarıdaki ifadelerden hangisi yanlıştır?

- A) I B) II C) III D) IV

4)



Yukarıda verilen açı 118° lik geniş bir açıdır.

? İşareti ile gösterilen yerin açı ölçüsünün doğru açı olması için kaç derecelik açı ölçüsü gerekir?

- A) 140° B) 40° C) 62° D) 180°

5)

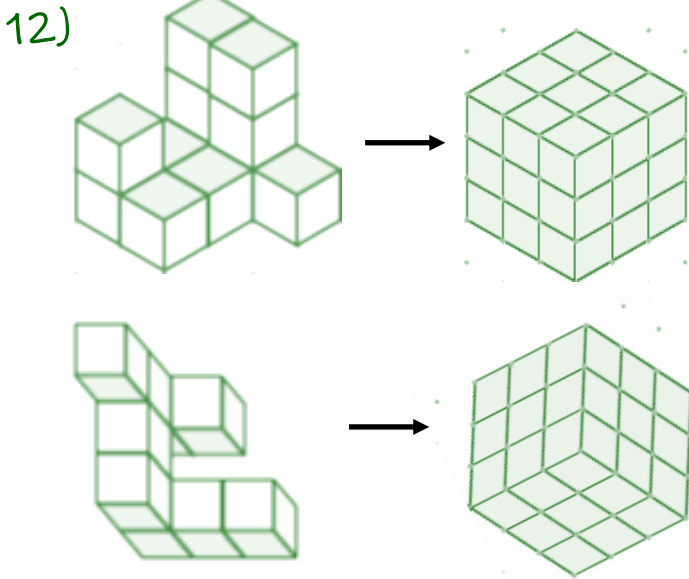


Yukarıdaki dijital saatin, verilen doğruya göre simetriğinin gösterimi aşağıdakilerden hangisidir?

- A) B)
- C) D)

- 11) ABC üçgeni eş kenar bir üçgendir. Kenar uzunlukları toplamı ise 150 cm'dir. KLM üçgeni ikiz kenar üçgendir. LM kenarının uzunluğu 50 cm çevre uzunluğu ise 100 cm'dir.
- Buna göre ABC üçgeninin bir kenarının uzunluğu ile KLM üçgeninin verilmeyen kenarlardan bir tanesinin kenar uzunlukları çarpımı kaçtır?

A) 1500 **B)** 2000 **C)** 1250 **D)** 2500

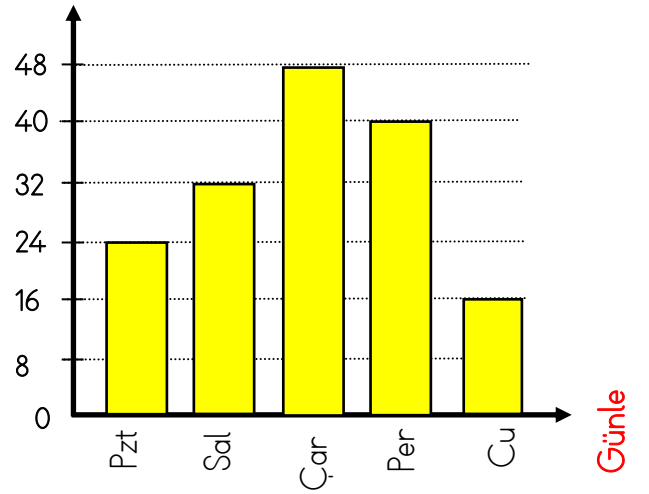


Yukarıda verilen birim küplerle oluşturulmuş şekillere birim küpler ekleyerek bütün küpler elde ediliyor.

Elde edilen bu iki küp için toplam kaç birim küp kullanılmıştır?

A) 33 **B)** 18
C) 27 **D)** 31

- 13) Sayfa sayısı



Yukarıda verilen sütun grafiğinde Banu'nun haftaiçi günlerde okuduğu sayfa sayıları verilmiştir.

Buna göre Banu hergün 50 sayfa okuma hedefi kousaydı hedefinden ne kadar eksik okurdu?

A) 90 **B)** 100 **C)** 110 **D)** 160

- 14) 17.15'te Ankara'dan hareket eden bir tren saat 22.10'de İstanbul'a varmıştır.

Buna göre, bu tren kaç dakikada Ankara'dan İstanbul'a varmıştır?

A) 60 **B)** 295 **C)** 240 **D)** 55

15) $2 \frac{22}{5} + A \frac{B}{5} = 8 \frac{30}{C}$

Yukarıda verilen toplama işleminde A, B ve C bir doğal sayıdır.

Buna göre A + B + C'nin toplamı kaçtır?

A) 15 **B)** 19 **C)** 18 **D)** 13

1) Aydınlatma araçlarının kullanımıyla ilgili bazı öneriler aşağıda verilmiştir:

- 1) Koridorlarda hareket sensörlü lambalar tercih edilmelidir.
- 2) Ders çalışırken sağ elle yazı yazanlar için ışık sağdan gelmelidir.
- 3) Eski tip ampuller yerine LED ampuller kullanılmalıdır.

Bu önerilerden hangileri ülke ekonomisine katkı sağlar?

- A) Yalnız 2
- B) Yalnız 3
- C) 1 ve 2
- D) 1 ve 3

2) Işık kirliliğinin neden olduğu bazı durumlar aşağıda verilmiştir:

- I) Gökyüzü gözlemlerinin daha sağlıklı yapılabilmesi için gözlemevlerinin şehirden uzak ve yüksek bölgelerde kurulması,
 - II) Şehir ışıklarının etkisiyle, kumsalda yumurtadan çıkan deniz kaplumbağası yavrularının yanlış yöne giderek denize ulaşamaması,
 - III) Gece gökyüzüne bakarak yön bulan kuşların, yoğun ışık yayan yüksek yapılara çarparak zarar görmesi.
- Bu durumlardan hangileri ışık kirliliğinin doğal yaşama etkileri arasında yer alır?

- A) Yalnız I
- B) Yalnız III
- C) I ve II
- D) II ve III

3)

GAZETE

Yapılan bir araştırmada, Dünya'da üretilen enerjinin önemli bir bölümünün gereksiz kullanım nedeniyle israf edildiği belirlenmiştir.

Verilen habere göre aşağıdakilerden hangisi enerji israfını önlemek için yapılması gerekenlerden biridir?

- A) Kullanmadığımız halde elektronik eşyaları prizde bırakmak
- B) Evi terk ederken ışıkları kapatmamak
- C) Gereksiz yere uzun süre televizyonu açık bırakmak
- D) Kullanmadığımız zamanlarda lambaları ve elektronik cihazları kapatmak

4) Mavi Apartmanı sakinleri, çevreyi korumak ve doğal kaynakları verimli kullanmak için bazı uygulamalar yapmıştır:

- Yağmur suyunu toplayıp bahçedeki ağaçları sulamak,
- Kâğıt ve cam atıkları geri dönüşüm kutularına atmak,
- Bahçeye ağaç ve çiçek dikmek,
- Katı atıkları poşetleyip sokağa rastgele bırakmak.

Buna göre, aşağıdakilerden hangisi çevreyi koruma amacına uygun değildir?

- A) Yağmur suyu ile ağaçları sulamak
- B) Geri dönüşüm kutusu kullanmak
- C) Bahçeye bitki dikmek
- D) Katı atıkları karışık şekilde sokağa atmak

5) Geri Dönüşüm Atölyesi

Bir atölyede farklı atıklar toplanarak yeni ürünler üretiliyor:

- Eski kâğıtlardan karton,
- Pet şişelerden plastik ürünler,
- Kırık camlardan yeni cam ürünler yapılmaktadır.

Buna göre, aşağıdakilerden hangisi geri dönüşüme örnek gösterilemez?

- A)** Eski kâğıtlardan karton yapılması
- B)** Pet şişelerden plastik ürün üretilmesi
- C)** Cam şişelerden yeni cam ürünler yapılması
- D)** Çıkarılan madenlerden metal elde edilmesi

6)



Apartmanın girişine atıklar için geri dönüşüm kutuları yerleştirilmiştir.

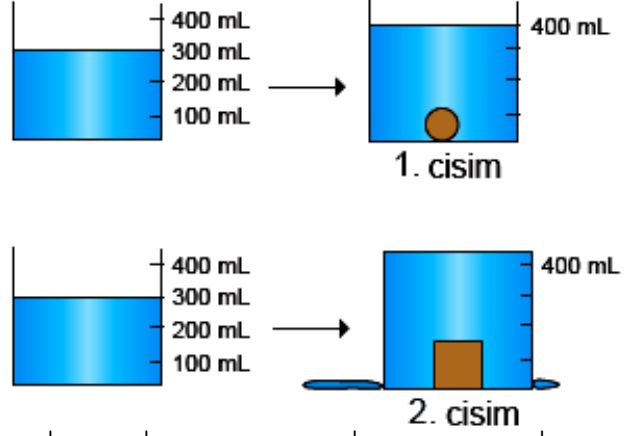
Bu kutuların kullanım amacı nedir?

- A)** Atıkları türlerine göre ayırarak geri dönüşüme kazandırmak
- B)** Apartmanda çıkan çöpleri azaltmak.
- C)** Doğada atık birikmesine ve çevre kirliliğini engellemek.
- D)** Enerji kaynaklarının daha hızlı tükenmesini engellemek.

7) Kalabalık bir ortamda sesi hem yükselterek duyurabilen hem de bazen kısa süreli kayıt yapabilen araç aşağıdakilerden hangisidir?

- A)** CD
- B)** Hoparlör
- C)** Megafon
- D)** Mikrofon

8)

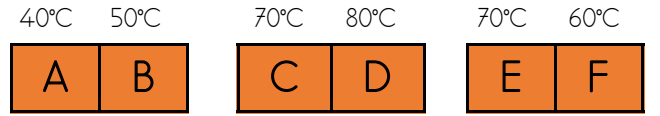


Yukarıda verilen taş parçaları suya atılıyor ve hacimleri ile ilgili aşağıda verilen yorumlar yapılıyor.

Buna göre yapılan yorumlardan hangisi yanlıştır?

- A)** 1. taşın hacmi 400 ml azdır.
- B)** 2. taş hacimsel olarak 1. taştan daha büyüktür.
- C)** 2. taşın hacmi 100 ml fazladır.
- D)** 2. taşın hacmi 1. taştan azdır.

9)



Yukarıda ısıları birbirinden farklı olan tuğlalar yan yana getirilerek ısıların akış yönleri sorulmuştur.

Buna göre ısıların akış yönü hangi seçenekte doğru verilmiştir?

- A)** ← ← ←
- B)** ← ← →
- C)** → → ←
- D)** → ← ←

10) Aşağıdaki besinlerden hangisinin içeriği diğerlerinden farklıdır?

- A)** Yumurta
- B)** Yeşil mercimek
- C)** Balık
- D)** Fındık

1) Üç öğrenci ilgi alanlarını şöyle ifade etmiştir:

Berk: Problem çözmeyi ve strateji geliştirmeyi çok seviyorum.

Ece: Şarkı söylemekten ve müzik dinlemekten çok hoşlanıyorum.

Mert: Geleneksel danslara ve hareketli oyunlara katılmayı seviyorum.

Bu bilgilere göre, öğrenciler ilgi alanlarına göre kulüplere yerleştirildiğinde, aşağıdaki kulüplerden hangisi boşta kalır?

- A)** Akıl ve Zekâ Oyunları Kulübü
- B)** Halk Oyunları Kulübü
- C)** Görsel Sanatlar Kulübü
- D)** Müzik Kulübü

2)



Alper

- "Benim de düşüncelerimi söylemeye hakkım var!"
- "Kimse beni tehlikeli işlerde çalıştıramaz!"
- "Benim de oyun oynamaya ve eğlenmeye ihtiyacım var."

Alper haklarıyla ilgili bazı açıklamalarda bulunmuştur.

Hangisi Ahmet'in bahsettiği haklarından biri değildir?

- A)** Oyun ve Kültürel Faaliyetlere Katılma Hakkı
- B)** Düşünce ifade hakkı
- C)** Ekonomik Sömürüye Karşı Korunma Hakkı
- D)** Özel Hayata Saygı Hakkı

3) () Eğitim alma hakkımız vardır ama bu hakkın hiçbir sorumluluğu yoktur.

() Okulda eşyaları korumak, sınıfı temiz tutmak bizim sorumluluklarımızdandır.

() Aile üyelerimizi üzmemek ve verdiğimiz sözleri tutmamak sorumluluk sahibi bir insanın davranışıdır.

Yukarıda verilen ifadelerden doğru olan ifadenin başına D yanlış olan ifadenin başına Y yazdığımızda doğru cevap hangisidir?

- A)** Y - D - Y
- B)** Y - D - D
- C)** D - Y - Y
- D)** D - Y - D

4) Ürünlerin belirli kalite standartlarına uygun üretildiğini göstermek için üzerine Türk Standartları Enstitüsü'nün (TSE) damgası vurulmaktadır.

Aşağıdakilerden hangisinde TSE damgası bulunabilir?

- A)** Bahçeden toplanan domateste
- B)** Marketten alınan temizlik maddesinde
- C)** Balıkçıdan alınan taze levrekte
- D)** Manavdan alınan taze nane

5)

Fırınlara alır unu,
Su, maya kor yoğurur.
Yapar bir güzel hamur,
Sonra fırına atar.
Pişirir bize satar.

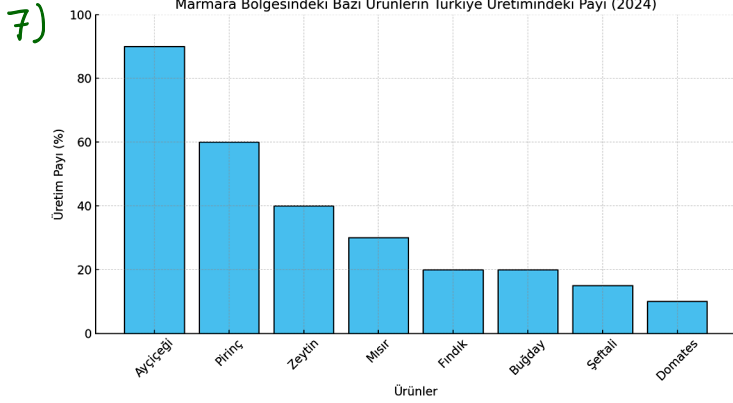
Verilen şiirde, ekonominin hangi aşamalarından söz edilmektedir?

- A)** Üretim-ticaret
- B)** Dağıtım-ticaret
- C)** Üretim-tüketim
- D)** Tüketim-dağıtım

6) Birleşmiş Milletler, çocukların yetişkinlerden farklı haklara sahip olduğunu düşünmüştür.

Buna göre çocuk haklarını korumak amacıyla aşağıdakilerden hangisini kabul edilmiştir?

- A) İnsan Hakları Bildirgesi
- B) Çocuk Haklarına Dair Sözleşme
- C) Dünya Sağlık Sözleşmesi
- D) Eğitim Hakkı Beyannamesi



Yukarıdaki grafikte Marmara Bölgesi'nde üretilen bazı tarım ürünlerinin Türkiye üretimindeki payları verilmiştir.

Buna göre aşağıdaki ifadelerden hangisi doğrudur?

- A) Marmara Bölgesi'nde pirinç üretimi, mısır üretiminden daha azdır.
- B) Şeftali üretimi, ayçiçeği üretiminden fazladır.
- C) Ayçiçeği, Marmara Bölgesi'nin Türkiye genelinde en yüksek üretim payına sahip ürünüdür.
- D) Domates, Marmara Bölgesi'nde en fazla üretilen üründür.

8) Ülkemizin fiziki haritasına bakıldığında, batıdan doğuya doğru ilerledikçe haritadaki renklerin yeşilden sarı ve kahverengi tonlarına doğru değiştiği görülmektedir.

Bu durumun sebebi aşağıdakilerden hangisidir?

- A) Yükseltinin artması
- B) Bitki örtüsünün değişmesi
- C) İklimin farklılaşması
- D) Nüfusun dağılışı

9) Aşağıdakilerden hangisi heyelana karşı almamız gereken önlemlerden biridir?

- A) Akarsu yataklarına baraj kurmak
- B) Doğal bitki örtüsünü korumak için çalışmalar yapmak
- C) Ani yağışlarda yüksek yerlere çıkılmı.
- D) Eğimli, kar yüklü alanlarda dikkatli olunmalı.

10)

	Pazartesi	Salı	Çarşamba
Sabah			
Öğleden sonra			

Yukarıda verilen tabloda hangi hava olayı gözlemlenmemiştir?

- A) Sisli
- B) Parçalı bulutlu
- C) Karlı
- D) Sağanak yağışlı

1) – He has long beard
Yukarıda verilen ifadeyi açıklayan görsel hangisidir?



2) It's ----- today. Take your umbrella.

- A)** windy
- B)** rainy
- C)** foggy
- D)** thundery

3) It's cold. I need my-----



- A)** trowsers
- B)** socks
- C)** scarf
- D)** sweater

4) A: Can I wear your sunglasses, please?

B: I'm sorry ,you can't.

They are -----

- A)** cool
- B)** broken
- C)** of course
- D)** sure



5) August, ----- , -----, November
Verilen boşluğu tamamlayalım.

- A)** October / September
- B)** October / December
- C)** September / December
- D)** September / October

6) ---- a waiter -----in a restaurant?
Yes, he-----

- A)** Do / serve / do
- B)** does / serves / do
- C)** does / serve / does
- D)** Does / serve / do

