


DERS: Matematik

NESNELERİN GEOMETRİSİ

1) GEOMETRİK CİSİMLER


Kenarı ve köşesi olanlar:

2. Sınıf



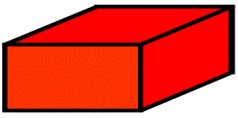
KÜP:

- * 6 tane yüzeyi vardır.
- * Yüzeylerinin tamamı kare şeklindedir.
- * Zekâ küpleri ve hediye kutuları küpe benzer.



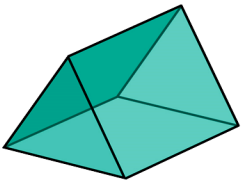
KARE PRİZMA:

- * 6 tane yüzeyi vardır.
- * Yüzeylerinin 2 tanesi kare şeklindedir, 4 tanesi dikdörtgen şeklindedir.
- * Buzdolabı ve çamaşır makinesi kare prizmaya benzer.



DİKDÖRTGENLER PRİZMASI:


- * 6 tane yüzeyi vardır.
- * Yüzeylerinin hepsi dikdörtgen şeklindedir.
- * Kibrit kutusu, sınıf dolabı ve ilaç kutusu dikdörtgenler prizmasına benzer.



ÜÇGEN PRİZMA:


- * 5 tane yüzeyi vardır.
- * Yüzeylerinden 2 tanesi üçgen şeklindedir, 3 tanesi dikdörtgen şeklindedir.
- * Kamp çadırı üçgen prizmaya benzer.

Kenarı ve köşesi olmayanlar:




SİLİNDİR:

- * 2 tane yüzeyi daire şeklindedir.
- * Konserve kutusu, davul ve Pringles kutusu silindire benzer.



KONİ:

- * Tabanı daire olan bir geometrik cisimdir.
- * Parti şapkası koniye benzer.



KÜRE:

- * Kenarı ve köşesi bulunmayan, topa benzeyen geometrik bir cisimdir.
- * Top ve Dünya küreye benzer.