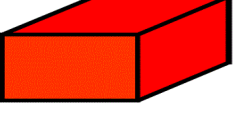
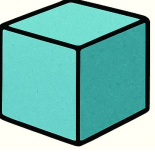



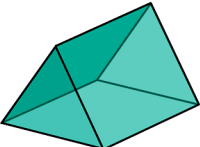





1 Etkinlik

Aşağıda verilen geometrik cisimler ilgili bilgileri dolduralım.

Cisimler	Yüzey sayısı	Yüzeyleri hangi geometrik şekildir?	Kenarı ve köşesi var mı?	Çevrendeki neye benziyor?
				
				
				
				
				
				
				




**2 Etkinlik**

Aşağıda verilen ifadelerden doğru olan ifadenin başına D yanlış olan ifadenin başına Y yazalım.

- (....) Kare'nin bütün kenarları eşittir.
- (....) Kare'nin 3 tane köşesi vardır.
- (....) Dikdörtgenin karşılıklı kenarları birbirine eşittir.
- (....) Dikdörtgenin 5 tane kenarı vardır.
- (....) Dikdörtgenin 2 uzun kenarı ve 2 kısa kenarı vardır.
- (....) Çemberin kenarı vardır ama köşesi yoktur.
- (....) Dairenin içi boştur.
- (....) Dairenin içi doludur.
- (....) Üçgenin 3 tane köşesi vardır.
- (....) Üçgenin 4 tane kenarı vardır.
- (....) Tek çeşit üçgen vardır.
- (....) Çemberin hiç köşesi yoktur.

**3 Etkinlik**

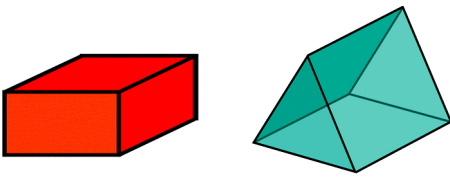
Aşağıda verilen geometrik cisimlerin ortak özelliklerini noktalı yerlere yazalım.



.....

.....


.....



.....

.....

.....



.....

.....

.....

