

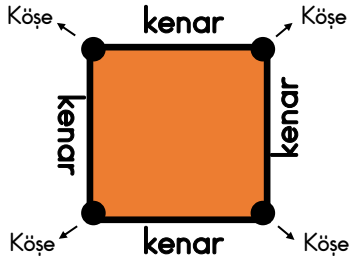
DERS: Matematik

NESNELERİN GEOMETRİSİ

2) GEOMETRİK ŞEKİLLER

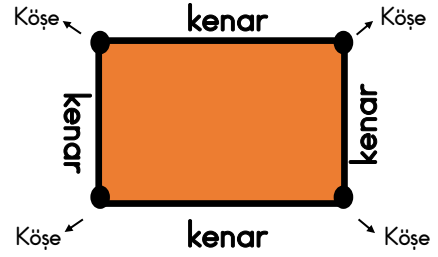
### KARE

- \* 4 kenar, 4 köşesi vardır.
- \* Tüm kenar uzunlukları birbirine eşittir.



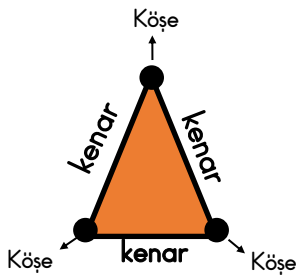
### DİKDÖRTGEN

- \* 4 kenar, 4 köşesi vardır.
- \* İki uzun, iki kısa kenarı vardır.
- \* Karşılıklı kenar uzunlukları birbirine eşittir.



### ÜÇGEN

- \* 3 kenar, 3 köşesi vardır.



### DAİRE

### ÇEMBER

- \* Kenarları ve köşeleri yoktur.

