



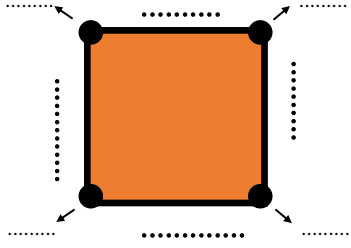
1 Etkinlik

Aşağıda verilen geometrik şekillerle ilgili bilgileri dolduralım.

.....

*kenar,köşesi vardır.

* Tümuzunlukla birbirine.....

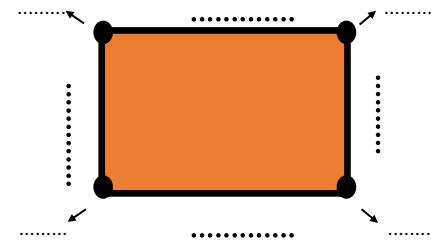


.....

* ... kenar, köşesi vardır.

* uzun, kısa kenarı vardır.

* kenar uzunlukları birbiri-
ne eşittir.



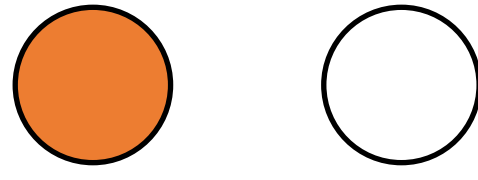
.....

* kenar, köşesi vardır.



.....


* ve yoktur.




2 Etkinlik

İzometrik kağıda istenilen geometrik şekilleri çizelim.

2 adet kare 2
adet dikdörtgen
çizelim.



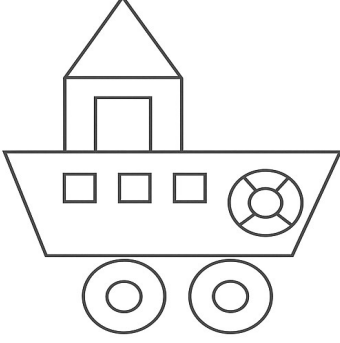
3 adet farklı
şekillerde üç-
gen çizelim.



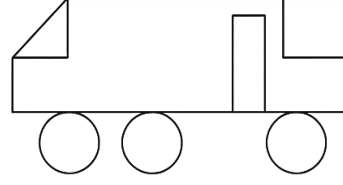


3 Etkinlik


Aşağıda verilen şekilleri oluştururken hangi geometrik şekilden kaçar tane kullanılmıştır? Noktalı yerlere yazalım.



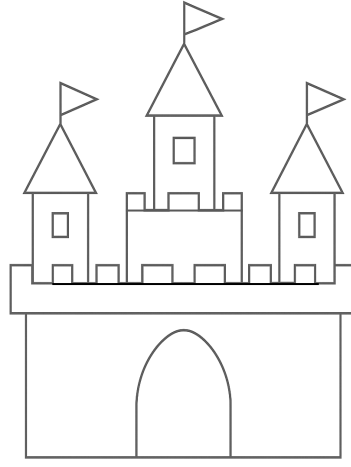
Üçgen:
Kare:
Dikdörtgen:
Çember:



Üçgen:
Kare:
Dikdörtgen:
Çember:




Üçgen:
Kare:
Dikdörtgen:
Çember:



Üçgen:
Kare:
Dikdörtgen:
Çember:

4 Etkinlik

Geometrik şekillerin numaralarını ilgili tablolara yazınız.



Üçgen	Kare	Dikdörtgen	Çember	Daire

