



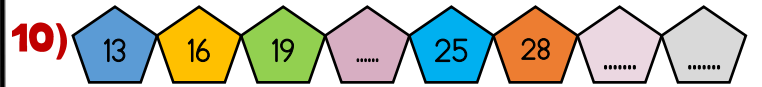
Küçük Prens, küçük gezegeninde yalnız hissedince yeni yerler keşfetmek için yolculuğa çıktı. Gezdiği gezegenlerde tuhaf insanlar tanıdı. Her biri ona hayatın tuhaflıklarına dair önemli dersler verdi. Dünyaya geldiğinde bir tilkiyle karşılaştı. Tilki ona "Gerçek dostluk, emek ister." diyerek sevgiyi ve bağlılığı öğretti. Sonra gökyüzünde düşmüş bir pilotla tanıştı ve onunla güzel bir dostluk kurdu. Bu yolculuk kalbini sevgiyle doldurdu. Yolculuğu bittiğinde gezegenine dönen Küçük Prens artık sevginin değerini çok iyi biliyordu.



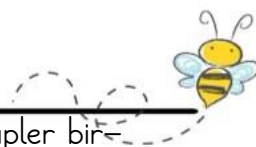
1. ve 2. soruyu metne göre cevaplandıralım.

- 1) Küçük Prens'in yolculuğu boyunca tanıştıkları arasında aşağıdakilerden hangisi yoktur?
A) Bir pilot B) Bir tilki C) Bir kral
- 2) Küçük Prens gezegenine döndüğünde neyi anlamıştır?
A) Yolculuk yapmanın çok yorucu olduğunu
B) Gülünün aslında sandığı kadar özel olmadığını
C) Sevginin, dostluğun ve bağlılığın değerini
- 3) Aşağıda verilen cümlelerden hangisi olumlu bir cümledir?
A) Bugün hiçbir yere gitmedim.
B) Ders çalışmak istemiyorum.
C) Ödevi yaparken zorlandım.
- 4) Aşağıda verilen cümlelerin hangisinde "mi" ekinin yazımında hata yapılmıştır?
A) Elbise mi bulamadım.
B) Beni dinleyebilir misiniz?
C) Bunu mu anlamadın?

- 5) Aşağıda verilen cümlelerin hangisi karşılaştırma cümlesi değildir?
A) Bu elma, diğerine göre daha tatlı.
B) Ali, kardeşinden daha hızlı koşar.
C) Öğretmenimiz derse erken geldi.
- 6) Aşağıda verilen kelimelerden hangisi daima büyük harf ile yazılmaz?
A) Boncuk B) Hasan C) Gül Sokak
- 7) Hayatımızda bazen zaferler kazanırız bazen de yenilgiye uğrarız. Önemli olan her durumda ders alabilmektir.
Yukarıdaki cümlede kalın yazılmış kelimeler arasındaki anlam ilişkisinin benzeri hangi kelimeler arasında vardır?
A) Uzak - Irak B) Özgür - Tutsak
C) Konut - Ev
- 8) Aşağıda verilen cümlelerin hangisinde noktalama işareti yanlış kullanılmıştır?
A) Başarının üç temel sırrı vardır: çalışmak, sabretmek ve inanmak.
B) Yağmur hızlandı, şimşekler çaktı, gökyüzü iyice karardı.
C) Bu projeyi zamanında bitirebilecek miyiz!
- 9) Mehmet 4'ten başlayarak ileriye doğru dörder ritmik sayıyor. 8. sayıyı söyledikten sonra ileriye doğru ikişer ritmik saymaya devam ediyor. Buna göre, Mehmet'in 14. sırada söylediği sayı kaçtır?
A) 42 B) 44 C) 32



- Verilen sayı örüntüsünde noktalı yerlere hangi sayı gelmez?
A) 22 B) 31 C) 33



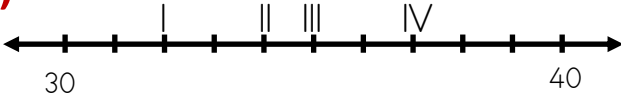
11) Harun 40'tan başlayarak geriye doğru dörder 0'a kadar sayıyor, Nisan 1'den başlayarak ileriye doğru üçer 31'e kadar sayıyor. Buna göre ikisinin de söylediği kaç ortak sayı vardır?

- A) 4 B) 3 C) 2

12) Onlar basamağındaki rakamın basamak değeri 50 olan iki basamaklı en büyük doğal sayı kaçtır?

- A) 59 B) 95 C) 55

13)



Yukarıda verilen sayı doğrusunda hangi numaralı sayı her iki onluğa da eşit uzaklıktadır?

- A) I B) II C) IV

14) Bir sayının birler basamağı 8, onlar basamağı ise 4'tür. Bu sayının rakamları yer değiştiriliyor.

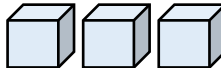
Buna göre aşağıdakilerden hangisi yeni sayının en yakın onluğuna daha yakın değildir?

- A) 76 B) 83 C) 86

15) Bir depo 8 damacana su ile dolmaktadır. Bir damacana da 5 sürahi su almaktadır.

Buna göre 1 depo kaç sürahi ile dolar?

- A) 30 B) 35 C) 40

16)  Yanda verilen küpler birleştiriliyor.

Küpler birleştirilince aşağıdaki nesnelere hangisine benzer?

- A)  B)  C) 

17) Efe, yandaki trafik işaretini defterine çizip uygun renklere boyamış fakat bu işaretin anlamını yazmayı unutmuştur.



Bu trafik işaretinin anlamı nedir?

- A) Yaya geçidi
B) Okul geçidi
C) Mecburi yaya yolu

18)



Yukarıda verilen levhaların rengi ve geometrik şekilleri sırasıyla hangisini ifade eder?

- A) Uyarı-Bilgi
B) Uyarı-Mecburiyet
C) Bilgi-Uyarı

19) Acil durumlarda yetkililerle iletişim kurarken hangisini yapmamız doğru olmaz?

- A) Sakin bir şekilde durumu net olarak anlatmak
B) Fazla ayrıntı vererek konuşmayı uzatmak
C) Konumumuzu açık ve anlaşılır biçimde söylemek

20) Ayşe, otobüs durağında beklerken yanına çok yakın duran birini fark etti. Bu durum Ayşe'de rahatsızlık hissi yarattı.

Bu kişinin Ayşe'nin hangi sınırını ihlal ettiğini söyleyebiliriz?

- A) Sosyal alanı
B) Kişisel alanı
C) Ortak alanı