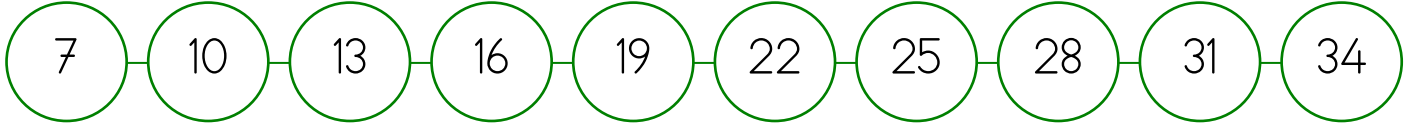
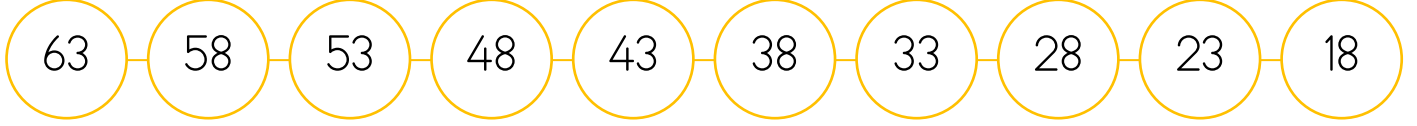





2.Sınıf

1 Etkinlik Aşağıda verilen sayı örüntülerinin kurallarını bulalım.

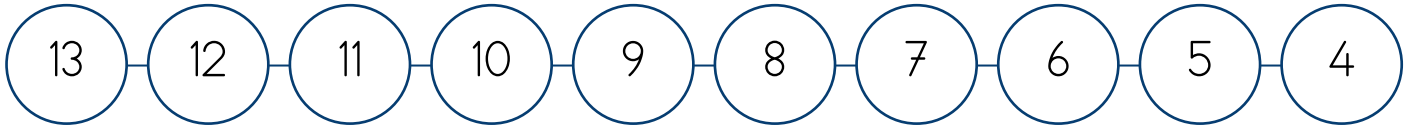
Kural:



Kural:



Kural:



Kural:

2 Etkinlik Aşağıda kuralı aynı olan sayı örüntülerini eşleştirelim.

1-3-5-7-9-11-13-15-17

8-13-18-23-28-33-38

6-9-12-15-18-21-

6-10-14-18-22-26-30

4-8-12-16-20-24-28

2-5-8-11-14-17-20

5-10-15-20-25-30

1-3-5-7-9-11-13-15-17





2.Sınıf

3

Etkinlik

Örüntüleri kuralına uygun olarak devam ettirelim.

+3

1



+1

8...



+10

0



-4

64



-5

85



4

Etkinlik

Aşağıda verilen örüntüde kuralı bozan altıgeni boyayalım.

