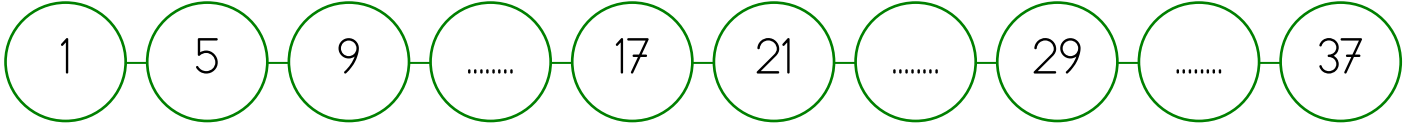


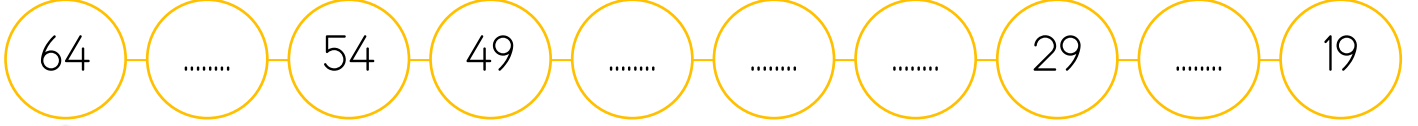


2.Sınıf

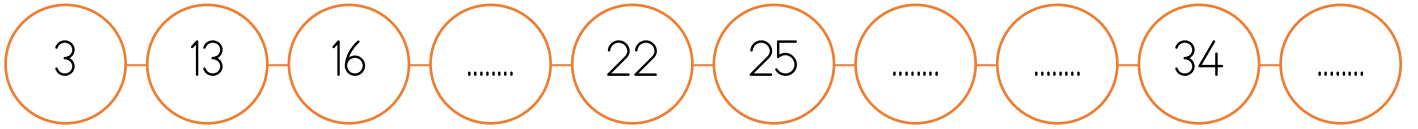
1 Etkinlik Aşağıda örüntüde verilen boşlukları örüntüye göre dolduralım.



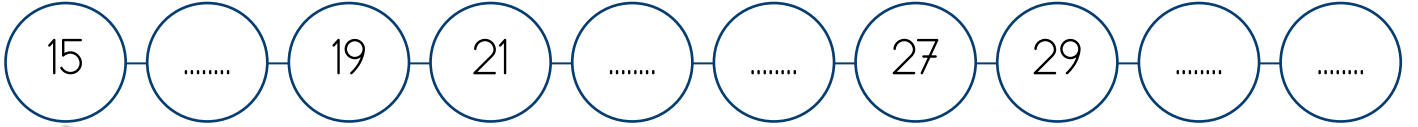
➔ Kural:



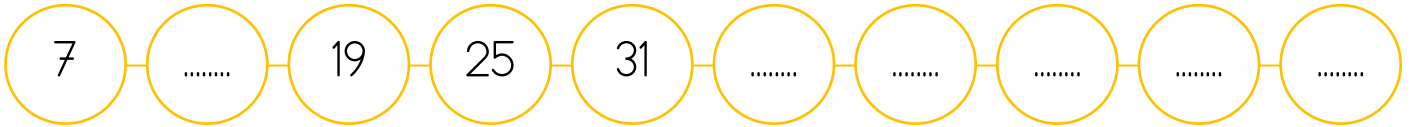
➔ Kural:



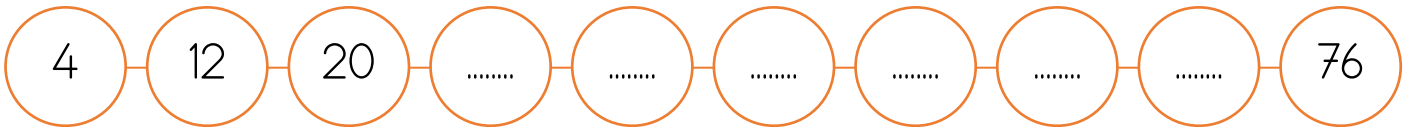
➔ Kural:



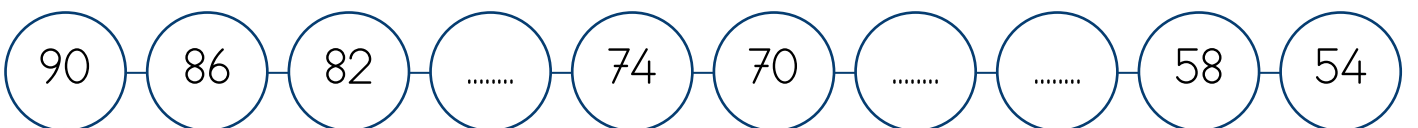
➔ Kural:



➔ Kural:



➔ Kural:



➔ Kural:





2.Sınıf

2

Etkinlik

Aşağıda verilen örüntülerle ilgili soruları cevaplandıralım.

2, 6, 10, 14, , 22

97, 92, 87, , 77

→ 5. adım nedir?

→ 4. adım nedir?

→ 5. adımın birler basamağı basamak değeri kaçtır?

→ 4. adımın onlar basamağı basamak değeri kaçtır?

14, 18, 22, 26, 30, , 38 ,

86, 84, 82, , 78, 76,

→ 6. ve 8. adım nedir?

→ 4. ve 7. adım nedir?

→ 6. adımın daha yakın olduğu onluk?

→ 7. adımın daha uzak olduğu onluk?

