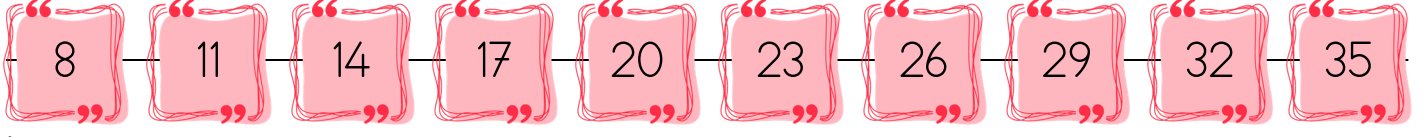
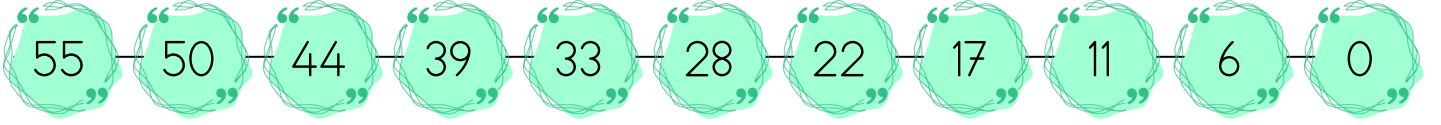




1 Etkinlik Aşağıda verilen sayı örüntülerinin kurallarını bulalım.



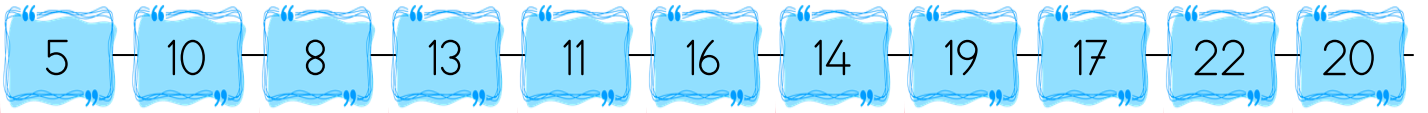
→ Kuralı:



→ Kuralı:

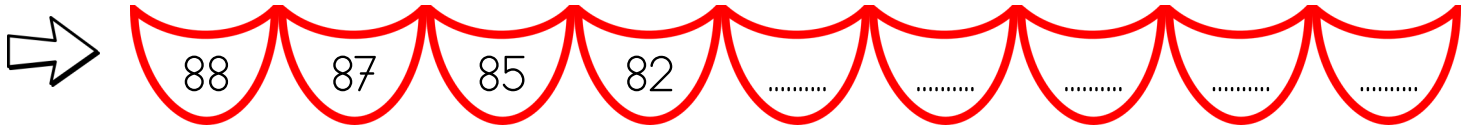


→ Kuralı:



→ Kuralı:

2 Etkinlik Aşağıda verilen sayı örüntülerini tamamlayalım.





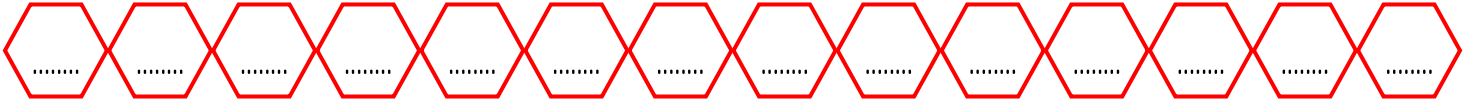
2.Sınıf

3 Etkinlik Aşağıda verilen kurallara uygun sayı örüntüleri yazalım.

↳ Kuralı: İleri doğru önce 2 sonra 4 artan



↳ Kuralı: Geriye doğru önce 5 sonra 4 azalan



↳ Kuralı: İleri doğru önce 3 artan sonra 2 azalan



↳ Kuralı: Geriye doğru önce 6 sonra 5 azalan



4 Etkinlik Aşağıda verilen sayı örüntülerinde hata yapılan adımı bulalım.

30 - 34 - 33 - 37 - 36 - 41 - 40

Kural:

40 - 42 - 38 - 40 - 36 - 42 - 38

Kural:

14 - 16 - 19 - 21 - 24 - 26 - 28

Kural:

40 - 37 - 35 - 31 - 30 - 27

Kural:

60 - 57 - 54 - 51 - 47 - 45 - 42

Kural:

50 - 46 - 47 - 42 - 44 - 39

Kural:

