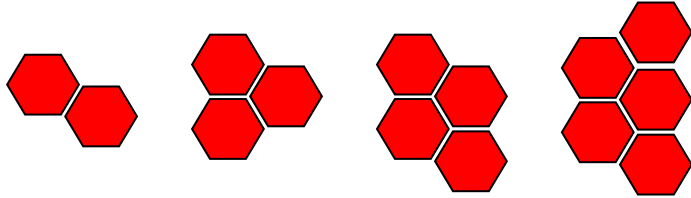
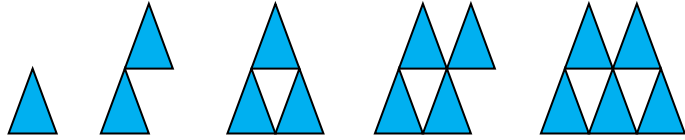
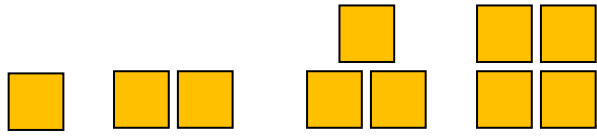





2.Sınıf


1 Etkinlik

Verilen şekil örüntülerindeki şekillerin kenar sayılarından yola çıkarak şekil örüntüsünü ifade eden



2 Etkinlik

Verilen şekil örüntülerindeki verilmeyen adımları bulalım.





2.Sınıf

3

Etkinlik

Verilen sayı örüntülerin uygun şekil örüntüleri oluşturalım.

SAYI ÖRÜNTÜSÜ: 1 - 3 - 5 - 7 - 9 - 11

SAYI ÖRÜNTÜSÜ: 20 - 16 - 12 - 8 - 4

SAYI ÖRÜNTÜSÜ: 6 - 12 - 18 - 24 - 30

SAYI ÖRÜNTÜSÜ: 25 - 20 - 15 - 10 - 5

