

2. SINIF PELİKANLAR

Pelikanlar, büyük gagaları ve gagalarının altında bulunan büyük keseleri ile tanınan ilginç su kuşlarıdır.



Bu keseleri, balıkları yakalamak ve taşımak için bir ağ gibi kullanırlar. Pelikanlar çok iyi yüzerler ve balık yakalamak için hızla suya dalarlar. Genellikle sıcak yerlerde, göllerin ve denizlerin yakınında yaşarlar. Birçok pelikan türü vardır. Balıklar, onların en sevdiği yiyecektir. Sürüler halinde yaşamayı ve uçmayı severler. Yavru pelikanlar doğduklarında tüysüz olurlar ve ebeveynleri onlara keselerinde balık taşıyarak bakar. Bir pelikanın kanat açıklığı bazen üç metreye kadar ulaşabilir, bu da onları gökyüzünde dev gibi gösterir!

1. ve 2. soruyu metne göre cevaplandıralım.

- 1) Aşağıdaki sorulardan hangisinin cevabı metinde yoktur?
- A) Nerede yaşarlar?
- B) Benzetildikleri diğer kuş türleri hangileridir?
- C) Kanat açıklığı kaç metre olabilir?

- 2) Metne göre pelikanlarla ilgili hangi bilgi yanlıştır?

- A) İlginç bir kuş türüdür.
- B) Çok iyi yüzücüdürler.
- C) Doğduklarında tüyleri vardır.

- 3) Aşağıda verilen kısaltmalardan hangisine gelen ekte hata yapılmıştır?

- A) MEB'te çalışıyor.
- B) TBMM'ye dilekçe yaz.
- C) ABD'nde yaşıyor.

4)



Nil

Karınca gibi çalışkan bir çocuktü.



Cemal

Bugün hava pek güzel değil.




Kaan

Elif kardeşinden daha uzun biri.

Yukarıda verilen cümleler ile ilgili verilen seçeneklerden hangisi yanlıştır?

- A) Nil benzetme cümlesi kurmuştur.
- B) Cemal olumlu bir cümle kurmuştur.
- C) Kaan karşılaştırma cümlesi kurmuştur.



- 5) Aşağıdaki kutularda dört arkadaşın sevdiği hayvanların isimleri verilmiştir. Bu öğrenciler, sınıf panosuna hayvan isimlerini alfabetik sıraya göre asmak istiyor.



Bu dört hayvan adı, panoya alfabetik sıraya göre asıldığında en sonda hangi hayvanın resmi konur?

- A) Tilki
B) Tavşan
C) Kurt

- 6) Bahçeye çıktım() tohumları ekтім()
Tüh() Marul ekmeyi unuttum()

Yukarıda verilen () yerlere sırasıyla hangi noktalama işaretleri getirilmiştir?

- A) , . ! .
B) , , , !
C) . . ! .

- 7) 1. ilgimi
2. olan
3. yönetmene
4. başarılı bir
Sinemaya
..... borçluyum.

Anlamli bir cümle oluşturmak için numaralanmış kelimeler yukarıdaki boşluklara hangi sırayla yerleştirilmelidir?

- A) 1 - 2 - 3 - 4
B) 2 - 1 - 4 - 3
C) 2 - 4 - 1 - 3

- 8) yararlı cesur irak
cömert yakın zararlı

Zıt anlamlı kelimeler aynı renge kalıyor. Diğer kutucuklar ise beyaz renge boyanıyor.

Son durumda verilen tablo nasıl görünür?

- A)

- B)

- C)



9) Aşağıdaki sayılardan hangisinin en yakın olduğu onluk, 70 değildir?

- A) 69 B) 74 C) 64

10)



Vedat

78-75-72-69-66-63



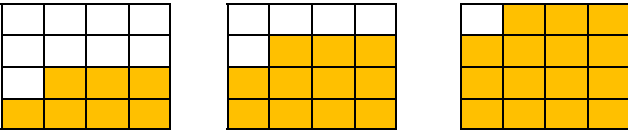
Nazlı

44-49-54-59-64-69

Aşağıda verilen örüntülerden hangisinin kuralı Vedat ve Nazlı'nın örüntülerinin kurallarından değildir?

- A) 87-84-81-78-75
B) 64-68-72-76-80
C) 17-22-27-32-37

11)



Yukarıda verilen şekil örüntüsü sayı örüntüsüne çevriliyor ve sayı örüntüsünün 4., 5. ve 6. adımları soruluyor. Örüntünün 4., 5. ve 6. adımları nedir?

- A) 19-23-27 B) 18-22-26
C) 7-11-15

12)

- İki basamaklı rakamları farklı en büyük sayı
Onlar basamağı 8 olan iki basamaklı en küçük sayı.
Birler basamağı 6 olan iki basamaklı en büyük sayı

Yukarıda açıklamaları verilen sayıları küçükten büyüğe doğru sıraladığımızda sıralama nasıl olur?

- A) 80-96-98
B) 80-96-99
C) 98-96-80

13)

Birler basamağı 2, onlar basamağı 7 olan sayının birler basamağı 7 arttırılıyor. Onlar basamağı ise 2 azaltılıyor. Sayı nasıl değişir?

- A) 13 artar B) 13 azalır C) 12 azalır

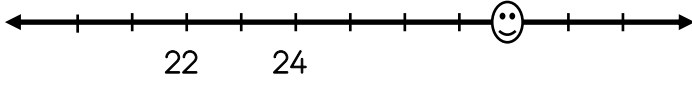
14)

Haydar 40'tan başlayarak geriye doğru dörder dörder 0'a kadar sayıyor, Sedat 1'den başlayarak ileriye doğru üçer üçer 30'a kadar sayıyor. İkisinin de söylediği kaç ortak sayı vardır?

- A) 4 B) 3 C) 2



- 15) Aşağıda bir sayı doğrusu verilmiştir.



Verilen sayı doğrusunda gülen suratlı ifadenin daha yakın olduğu onluk kaçtır?

- A) 28 B) 20 C) 30

16)



Elimde 6 kare, 6 dikdörtgen, 2 üçgen var.

Haydar öğretmen elindeki bu şekillerle hangi geometrik cisimleri oluşturamaz? (Her şekli bir kez kullan)

- A) Küp, Kare prizma
B) Küp-Dikdörtgenler prizması
C) Üçgen prizma-Küp

- 17) Aşağıdakilerden hangisi aile içinde yanlış bir davranıştır?

- A) Zor zamanlarda birbirimize destek olmak
B) Özel günlerde bir araya gelmek
C) Sadece aile büyüklerine saygı göstermek

- 18) Anne, baba ve çocukların yanı sıra dede, nine, amca, hala, teyze gibi aile büyükleriyle birlikte yaşayan aileye denir.

Yukarıda verilen noktalı yere seçeneklerden verilenlerden hangisi gelir?

- A) Geniş aile
B) Çekirdek aile
C) Bizim aile

- 19) Deniz, ailede kararların birlikte alınması gerektiğini savunuyor. Deniz, bu düşüncesini desteklemek için aşağıdakilerden hangisini söylemiş olamaz?

- A) Ailede herkesin düşüncesine değer verildiğini
B) Kararların ortaklaşa alınmasının daha adil olduğunu
C) Önemli kararların sadece babanın istediği şekilde belirlendiğini

- 20) Aşağıdakilerden hangisi sağlıklı aile ilişkilerinde bulunması gereken bir kavramdır?

- A) Kıskançlık
B) Empati
C) İnatçılık

