



YERLİ MALI HAFTASI

Yerli malları, bir ülkenin kendi topraklarında üretilen ürünlerdir.

Türkiye’de yerli mallarını kullan-

mak, ülke ekonomisinin güçlenmesine ve üretimin artmasına katkı sağlar.

Özellikle Kurtuluş Savaşı’ndan sonra Mustafa Kemal Atatürk, ekonomik bağımsızlık için yerli üretimin önemini vurgulamıştır. Yerli mallarını tercih etmek, istihdamı artırır ve dışa bağımlılığı azaltır. Bu bilinçle her yıl 12-18 Aralık tarihleri arasında Yerli Mali Haftası kutlanır. Bu hafta boyunca yerli ürünlerin tanıtımı yapılır ve bilinçli tüketici olmanın önemi anlatılır.



1. ve 2. soruyu metne göre cevaplandıralım.

1) Verilen metne göre aşağıdaki sorulardan hangisinin cevabı metinde yoktur?

- A)** Yerli mallarını kullanmanın ülke ekonomisine katkısı nedir?
- B)** Yerli Mali Haftası hangi tarihler arasında kutlanır?
- C)** Yerli mallarının fiyatları yabancı ürünlere göre nasıldır?

2) Metindeki “Dışa bağımlılığı azaltır” ifadesi ne anlama gelmektedir?

- A)** Ülkenin ihtiyaçlarını karşılamak için yabancı ülkelere ürün satın alması
- B)** Ülkenin kendi ürettiği ürünleri kullanarak başka ülkelere olan ihtiyacı azaltması
- C)** Yurt dışından gelen ürünlerin fiyatlarının düşmesini sağlaması

3) Aşağıda verilen cümlelerin hangisinde zıt anlamlı kelimeler bir arada kullanılmamıştır?

- A)** Hikâyede hayali ve gerçek olaylar bir arada anlatılmıştır.
- B)** Masaldaki kahraman hem cesur hem de korkak davranışlar sergiledi.
- C)** Sınıfımızda akıllı ve zeki öğrenciler çoktur.

4) Dedem bekledi() şunu söyledi()
Sabırlı olan kazanır()

Yukarıda () ile gösterilen yerlere sırasıyla hangi noktalama işaretleri getirilmelidir?

- A)** , : .
- B)** . : .
- C)** . , .



- 5) (...) 9 Eylül 1922' de İzmir düşmanlardan kurtuldu.
(...) Ali İngiliz bir çocuk ile tanıştı.
(...) Küçük Prens isimli kitap çok etkileyiciydi.
(...) Ece Ramazan bayramını kutladı.

Yukarıda büyük harflerin kullanıldığı yerler ile ilgili cümleler verilmiştir. Özge doğru olan cümlenin başına D yanlış olan cümlenin başına Y yazıyor. Doğru cevap aşağıdakilerden hangisi olur?

- A) Y - Y - D - Y
B) D - Y - D - Y
C) Y - Y - Y - D

- 6) **Veli:** Benim aklımda tuttuğum kelime-
de iki ünlü yan yanadır.
Sabri: Benim aklımda tuttuğum kelime
3 hecelidir.
Aşağıdaki kelimelerden hangisi Veli
ve Sabri'nin aklında tuttuğu kelimelerden
biri değildir?

- A) aile B) şiir C) okul

- 7) Aşağıda bir öğrencinin defterine yazdığı cümleler verilmiştir:

1. Annemin sesi bülbül gibi yumuşaktı.
2. Bu kitap, okuduğum kitaplardan daha sürükleyicidir.
3. Kardeşim, sessizliğiyle geceyi andırıyordu.
4. Yaz mevsimi, kış mevsiminden daha sıcak geçer.

Yukarıdaki cümleleri benzetme karşılaştırma cümlesi olarak sınıflandırırsak doğru cevap hangi seçenek olur?

	Benzetme	Karşılaştırma
A)	1-4	2-3
B)	1-3	2-4
C)	3-4	1-2

- 8) Okulumuzda düzenlenen kitap okuma etkinliği cuma günü bahçede yapıldı ve öğrenciler öğretmenleriyle birlikte sessizce kitap okuyarak keyifli zaman geçirdi. Etkinlik sırasında herkes kurallara uydu ve etkinlik sonunda sınıflarına mutlu döndü, etkinlik öğretici ve eğlenceli oldu.

Yukarıda verilen metnin aşağıdaki sorulardan hangisinin cevabı yoktur?

- A) Etkinlik ne zaman yapılmıştır?
B) Etkinlik neden düzenlenmiştir?
C) Etkinlik nerede yapılmıştır?





9) Kerem'in 15 bilyesi vardı, 9'unu arkadaşına verdi. Kerem'de kaç bilye kaldı?

Verilen problemin verilen ve istenenleri hangi seçenekte doğru verilmiştir?

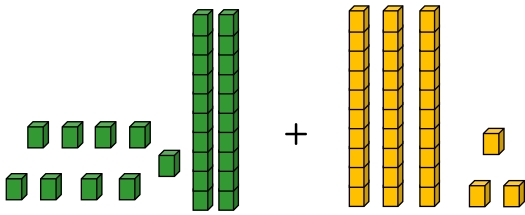
Verilenler İstenenler

- A) 15 bilye Kalan bilye
B) Kalan bilye 15 bilye-9 bilye
C) 15 bilye-9 bilye Kalan bilye

10) Aşağıda verilen toplama işlemlerinden hangisinin sonucu diğerlerinden farklıdır?

A) $28 + 25$ B) $29 + 15$ C) $31 + 22$

11)



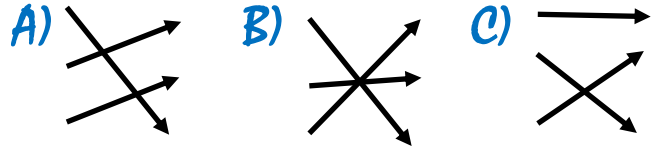
Modellemesi verilen toplama işleminin sonucunun 2 deste fazlası kaç eder?

- A) 82 B) 92 C) 72

12)


$39+28$ • 62
 $23+45$ • 68
 $45+17$ • 67

Toplama işlemlerini sonuçlarıyla eşleştirdiğimizde okların yönü nasıl olur?



13) 2 onluk 5 birlik + 2 onluk + 8 birlik =
Verilen toplama işleminin sonucu kaçtır?

- A) 4 onluk 3 birlik
B) 5 onluk 3 birlik
C) 5 onluk 1 birlik



Yukarıda verilen toplara kaç top daha eklersek 3 düzine topumuz olur?

- A) 4 B) 12 C) 16




15) Melih her seferinde son yazdığı sayıya 4 ekleyerek bir örüntü oluşturuyor.

İlk yazdığı sayı 13 olduğuna göre, altıncı ve 8. yazdığı sayıların toplamı kaçtır?

- A) 74 B) 78 C) 70

16)



Yukarıda verilen şekil örüntüsü sayı örüntüsü olarak ifade ediliyor ve artarak devam ediyor.

Hangi örüntü verilen şekil örüntüsüne ait bir sayı örüntüsü değildir?

- A) 7-11-15-19
B) 27-31-35-39
C) 12-16-20-24

17) Aşağıdakilerden hangisi nezaket kurallarına uygun bir ifadedir?

- A) Beni sabırla dinlediğin için sana teşekkür ederim.
B) Sana bir ders vereceğim, gününü göstereceğim.
C) Oyunu sürekli yanlış oynuyorsun.

18) Aşağıda verilenlerden hangisi bir görgü kuralını ifade eder?

- A) Sana teşekkür eden birine rica ederim demen.
B) Parkta arkadaşlarıyla oynarken sıranı beklemen.
C) Başkaları konuşurken sözünü kesmemek

19) Aşağıdakilerden hangisi nezaket kuralı ile görgü kuralı arasındaki farkı doğru ifade eder?

- A) Nezaket kuralları, insanlara karşı kibar, saygılı konuşmayı; görgü kuralları ise toplum içinde nasıl davranılması gerektiğini öğretir.
B) Nezaket kuralları sadece evde, görgü kuralları sadece okulda uygulanır.
C) Nezaket kuralları yazılıdır, görgü kuralları yazılı değildir.

20)



Biz geniş bir aileyiz.

Buna göre aşağıdakilerden hangisi Tufan'ın ailesinde yer alan kişiler olamaz?

- A) Hala - Amca - Yenge - Kuzen
B) Anne - Baba - Kardeş - Dede
C) Komşu - Arkadaş - Sınıf arkadaşı