


## 1 Etkinlik

Nesne sayılarını tahmin et. Daha sonra say ve gerçek sayısını bul. İki arasında farkı yaz.




Tahmin: ..... Gerçek: .....

Fark: .....




Tahmin: ..... Gerçek: .....

Fark: .....




Tahmin: ..... Gerçek: .....

Fark: .....



Tahmin: ..... Gerçek: .....

Fark: .....




Tahmin: ..... Gerçek: .....

Fark: .....




Tahmin: ..... Gerçek: .....

Fark: .....




Tahmin: ..... Gerçek: .....

Fark: .....



Tahmin: ..... Gerçek: .....

Fark: .....



Tahmin: ..... Gerçek: .....

Fark: .....





2.Sınıf

2 **Etkinlik** Hayvanların sayısını tahmin et, daha sonra gerçek sayısını yaz.



Tahmini sayısı: .....

Gerçek sayısı: .....



Tahmini sayısı: .....

Gerçek sayısı: .....



Tahmini sayısı: .....

Gerçek sayısı: .....



Tahmini sayısı: .....

Gerçek sayısı: .....

