



1 Etkinlik

Aşağıda verilen soruları cevaplandıralım.



Her bardak 2 bardağı temsil ettiğine göre tahmini kaç bardak vardır? İşlemsiz yapalım.

.....

Bardak sayısı hangi onluğa daha yakındır?

.....



Her kalemtıraş 3 kalemtıraşı temsil ettiğine göre tahmini kaç kalemtıraş vardır? İşlemsiz yapalım.

.....

Kalemtıraş sayısı hangi onluğa daha uzaktır?

.....




Her ağaç 10 ağacı temsil ettiğine göre tahmini kaç ağaç vardır? İşlemsiz yapalım.

.....

Ağaç sayısına daha yakın olan en büyük sayı kaçtır?

.....






Her lale 4 laleyi temsil ettiğine göre tahmini kaç lale vardır? İşlemsiz yapalım.

.....

Lale sayısı hangi onluğa daha yakındır?

.....




Her kuş 5 kuşu temsil ettiğine göre tahmini kaç kuş vardır? İşlemsiz yapalım.

.....

Kuş sayısı hangi onluklara eşit mesafededir.

.....



Her papağan 4 papağanı temsil ettiğine göre tahmini kaç papağan vardır? İşlemsiz yapalım.

.....

Papağan sayısının en yakın onluğuna daha yakın olan birler basamağı 6 olan sayı kaçtır?

.....

