

AHTAPOTLAR

Denizlerin derinliklerinde yaşayan ahtapotlar, diğer hayvanlardan çok farklıdır. Bizim bir kalbimiz varken, ahtapotların tam üç tane kalbi vardır. Bu kalplerden ikisi nefes almalarına yardımcı olur, diğeri ise vücuda kan pompalar. Ahtapotlar yüzmeyi aslında pek sevmezler. Çünkü yüzmeye başladıklarında ana kalplerinden biri hemen durur. Bu durum ahtapotu çok yorar ve enerjisini bitirir. Bu yüzden akıllı ahtapotlar, denizin dibinde kollarının üzerinde yürümeyi tercih ederler. Böylece yorulmadan güvenle yol alırlar. Kendilerini korumak için bu yöntemi kullanmak onlar için çok sağlıklıdır. Doğanın bu küçük mucizeleri her zaman şaşırtmaya devam eder.



2) Metne göre ahtapotlar neden yüzmeyi pek sevmezler?
A) Çok yavaş oldukları için
B) Düşmanlarından korktukları için
C) Çabuk yoruldukları ve kalpleri durduğu için

3) Aşağıdaki cümlelerin hangisinde topluluk ismi çoğul eki almış olarak kullanılmamıştır?
A) Öğrenciler top oynuyorlardı.
B) Takımlara motive konuşması yaptı.
C) Köydeki aileler düğüne gitti.

4) "Çocuklar parkta arkadaşlarıyla top oynuyordu. Takımlar sahaya çıkmadan önce hocalar motive konuşması yaptı. Köydeki bütün aileler ve komşular düğüne davet edildi."

Yukarıda verilen metinde kaç tane çoğul isim kullanılmıştır?

A) 5 B) 6 C) 7

5) Aşağıda verilen cümlelerin hangisinde virgül farklı bir görevde kullanılmıştır?
A) Onu aradım, ulaşamadım.
B) Halam, amcam ile bize geldiler.
C) Bahçeye indim, domates topladım.


1. ve 2. soruyu metne göre cevaplandıralım.

1) Aşağıdaki sorulardan hangisinin cevabı metinde yoktur?

A) Ahtapotların kalpleri ne işe yarar?

B) Ahtapotlar neden yüzmek yerine yürümeyi tercih eder?

C) Ahtapotlar denizin hangi derinliklerinde yaşarlar?



- 6) ✎ Klemi masaya ___ koydun? (-mı eki ayrı yazılacak)
 ✎ Beni ___ bekliyorsun? (-mi eki ayrı yazılacak)
 ✎ Dolabı ___ yerleştirdim. (-mı eki bitişik yazılacak)
 ✎ Bugün bize gelebilir ___ (mi eki ayrı yazılacak)

Yukarıdaki cümlelerde boşlukları doldurmak için kullanılan eklerden kaç tanesi doğru yazılmıştır?

- A) 2 B) 3 C) 4

- 7) Aşağıdaki cümlelerin hangisinde iki sözcüğün zıt anlamları bir arada kullanılmıştır?

- A) Sanatçı, eserlerinde gerçek ve hayali anlatır.
 B) Zenginler rahat yaşarken yoksullar zorlanır.
 C) Gençler geleceği, yaşlılar geçmişini düşünür.

- 8) Aşağıdaki cümlelerin hangisi hem benzetme hem de soru cümlesidir?

- A) Elif pamuk gibi yumuşak.
 B) Balonlar gökyüzünde uçuyor mu?
 C) Köpek aslan gibi güçlü değil mi?

9)

84-35	87-59	97-48
74-48	79-30	55-25

Sonuçları aynı olan işlemlerin kutucuğunu boyadığımızda hangi görüntü oluşur?

A)

84-35	87-59	97-48
74-48	79-30	55-25

B)

84-35	87-59	97-48
74-48	79-30	55-25

C)

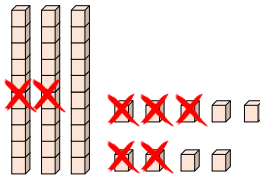
84-35	87-59	97-48
74-48	79-30	55-25

- 10) Bir çıkarma işleminde eksilen 77 ve fark 29 olduğuna göre, çıkanın 22 fazlası kaçtır?

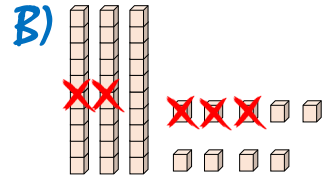
- A) 70 B) 99 C) 51

- 11) 39-25 işleminin modellenmesi hangi seçenekte doğru verilmiştir?

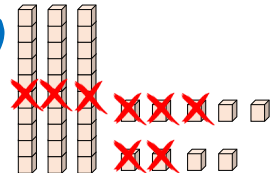
A)

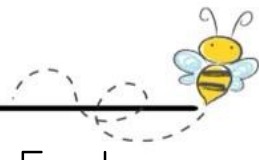


B)



C)





- 12) Zeynep, 90 sayfalık bir kitabı üç günde okumuştur. Birinci gün bu kitabın 32 sayfasını, ikinci gün ise 24 sayfasını okumuştur.



Buna göre, Zeynep üçüncü gün kaç sayfa kitap okumuştur?

- A) 28 B) 34 C) 42

- 13) Bir okuldaki kız öğrenci sayısı 54 erkek öğrenci sayısı ise kız öğrenci sayısından 12 eksiktir.



Buna göre erkek ve kız öğrenci sayılarının toplamının 12 eksiği kaçtır?

- A) 96 B) 84 C) 42

- 14) Mert kardeşi ile alışverişe çıktı. Parasının 36 lirası ile şapka 42 lirası ile de atkı aldı. Son durumda Mert'in cebinde 18 lirası kalmıştır. Buna göre Mert'in ilk başta kaç lirası vardı?

- A) 78 B) 60 C) 96

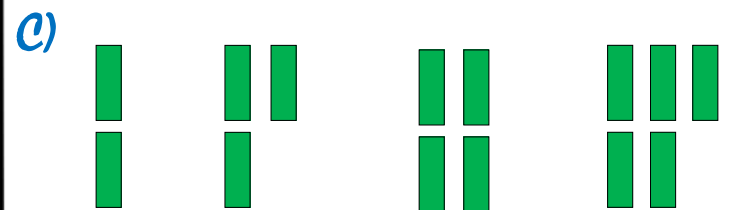
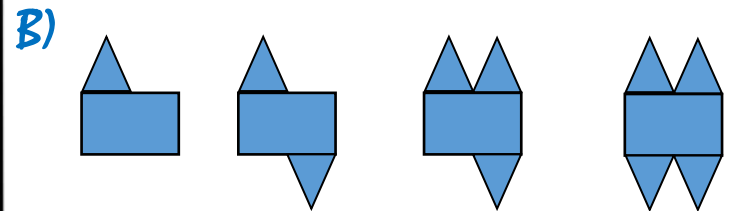
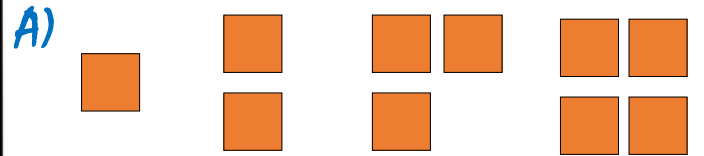
- 15) 😊 = Birler basamağında 5 rakamı bulunan iki basamaklı en küçük doğal sayıdır.


😞 = Onlar basamağında 6 rakamı bulunan iki basamaklı en büyük doğal sayıdır.

Verilen bilgilere göre, 😞 - 😊 işleminin sonucu aşağıdakilerden hangisidir?

- A) 44 B) 54 C) 69

- 16) Aşağıda verilen şekil örüntülerinden hangi diğerlerinden farklı bir sayı örüntüsünü belirtir?





17) Ela okuldan eve geldi. Ayakkabılarını kapıda çıkarıp dolaba koydu.



Sonra annesine

“Anneciğim, sofrayı kurmana yardım edeyim mi?” diye sordu.

Ela'nın bu davranışı en çok hangi durumu gösterir?

- A) Nezaket Kurallarına uyuyor.
- B) Evde üzerine düşen sorumluluğu yapıyor ve ailesine yardım ediyor
- C) Evdeki tek sorumluluğunu yerine getiriyor.

18) Ali ile kardeşi masada yemek yerken Ali ağız dolu dolu konuşmaya başladı. Annesi “Ali, ağızımız dolu iken konuşursak ne olur?” diye sordu.



En doğru cevap aşağıdakilerden hangisidir?

- A) Sorumluluklarımızı yerine getirmemiş oluruz.
- B) Karşımızdaki rahatsız olur, bu görgü kuralına aykırıdır
- C) Bu nezaket kurallarına aykırı bir durumdur.

19)



Bu iki tabelayı yan yana gören Ali ne demiş olabilir?

- A) Dikkat araç çıkabilir.
- B) Dikkat araç kayabilir.
- C) Dikkat arabanın tekeri patlar.

20)

Yangın çıktığında arkadaşın panik olup hemen telefonda oyun oynamaya başladı.

Arkadaşına en doğru şekilde ne söylemelisin?

- A) “Hemen oyunu bırak, koşarak dışarı çıkalım, çok eğlenceli olur!”
- B) “Panik yapma, yangını kendimiz söndürmeye çalışalım, büyükler gelene kadar bekleyelim.”
- C) “Sakin ol, önce 112’yi arayıp durumu kısaca anlatalım, sonra birlikte dışarı çıkalım.”