



İnekler hakkında çok şaşırtıcı bilgiler olduğunu biliyor muydunuz? İneklerin tam dört tane midesi vardır. Bu sayede otları çok rahat sindirirler. Ayrıca ineklerin koku alma duyuları çok gelişmiştir. Kilometrelerce uzaktaki bir kokuyu hemen alabilirler.

İnekler sosyal hayvanlardır ve sürü içinde kendilerine en yakın arkadaş seçerler. Arkadaşlarından ayrıldıklarında ise çok üzülürler. Günün büyük kısmını ayakta geçirirler ama sadece yatarken derin uykuya dalarlar. Onlara iyi bakarsak bize taze süt verirler. Sütleri sağlık açısından çok faydalıdır. Her gün düzenli olarak tüketirsek boyumuz uzar ve sağlıklı oluruz.

1. ve 2. soruyu metne göre cevaplandıralım.

1) Aşağıdaki sorulardan hangisinin cevabı metinde yoktur?

- A) İnekler en çok nerede yaşarlar?
B) İneklerin koku alma duyusu nasıldır?
C) İnekler arkadaş seçer mi?

2) İnekler ne zaman derin uykuya dalarlar?
A) Ayakta B) Yatarken C) Koşarken


3) Aşağıda verilen kısaltmalara geleneklerden hangisinin yazımında hata yapılmamıştır?

- A) THY'na ait uçaklar piste indi.
B) Kardeşim TBMM'yi ziyaret etti.
C) Teyzem MEB'da çalışmaya başladı.

4) Küçük kuş Gümüş Kanat, güneşli bir sabah ormandaki yuvasından neşeye havalandı. Dere kenarına gidip taze su içti. Arkadaşı Tavşan Zıpzip ile akşama kadar oyunlar oynayıp evine mutlu bir şekilde döndü.

Hikaye unsurları hangi seçenekte doğru verilmiştir?

	Olay	Kahraman	Yer	Zaman
A)	Gümüş Kanat'ın	Gümüş Kanat ile Zıpzip	Dere kenarı	Güneşli bir sabah
B)	Gümüş Kanat'ın	Gümüş Kanat ile Zıpzip	Ormandaki yuvası	Güneşli bir sabah
C)	Gümüş Kanat ile Zıpzip	Gümüş Kanat'ın bir günü	Dere kenarı	Güneşli bir sabah



5) Sınıf arkadaşım Ali, herkese karşı çok nazik davranan bir çocuktur. Bu cümledeki altı çizili kelimenin karşıt (zıt) anlamlısı aşağıdakilerin hangisinde kullanılmıştır?

- A)** Bugün hava çok soğuk olduğu için sıkı giyindim.
B) Pazardan aldığımız elmalar çok tatlı çıkmıştı.
C) Konuşurken kaba kelimeler kullanmak bize yakışmaz.

6) Öğretmenimiz sınıfa girince şöyle dedi : "Çocuklar, lütfen kitaplarınızı açın."

Yukarıdaki cümlede iki noktanın konulma sebebi nedir?

- A)** Başkasının konuşması aktarılacağı için.
B) Kendisinden sonra örnek verileceği için
C) Satır sonuna sığmayan kelimeleri bölmek için.

7) "Kömür gibi siyah gözleri vardı." Bu cümlede "benzeyen" unsur hangisidir?

- A)** Kömür **B)** Gözler **C)** Siyah

8) Aşağıdaki cümlelerin hangisinde büyük harflerin yazımıyla ilgili bir yanlışlık yapılmıştır?

- A)** En sevdiğim arkadaşım Elif, Ankara'da yaşıyor.
B) Her yıl 23 nisan çocuk bayramı neşeye kutlanır.
C) Köpeğim Karabaş ile parkta oyun oynadık.

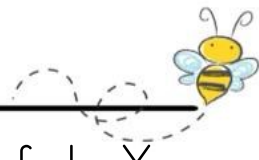
$$\begin{array}{r} 28 \\ + 37 \\ \hline \end{array}$$

Yukarıda verilen toplama işleminin tahmini sonucu ile gerçek sonucu arasındaki fark kaçtır?

- A)** 3 **B)** 4 **C)** 5

10) Aşağıda verilen çıkarma işlemlerinden hangisinin tahmini sonucu ile gerçek sonucu arasındaki fark diğerlerinden farklıdır?

- A)** 42-11
B) 53-22
C) 64-31



- 11) Mustafa 40'tan başlayıp geriye doğru beşer ritmik sayıyor. Selen da 21'den başlayıp ileriye doğru üçer ritmik sayıyor.

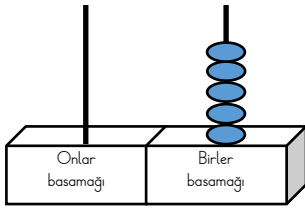
Mustafa ve Selen'in söyledikleri üçüncü sayıların toplamı kaçtır?

- A) 45 B) 57 C) 61

- 12) Gizem'in 46 tane tokası vardır. Umay'ın tokalarının sayısı Gizem'in cevizlerinin sayısından 27 eksiktir. Gizem ve Umay'ın tokalarının toplam sayısı kaçtır?

- A) 65 B) 73 C) 19

13)



Yukarıda abakütle modellenmesi verilen sayının basamak değerleri farkı 55 olduğuna göre onlar basamağı kısmına kaç boncuk takılmalıdır?

- A) 4 B) 5 C) 6

- 14) Emre'nin iki düzineden 4 fazla, Yeşim'in ise iki desteden 5 eksik kalemi vardır.

Emre'nin kalem sayısı, Yeşim'in kalem sayısından kaç fazladır?

- A) 13 B) 12 C) 11

- 15) Timur 46 ile 39'u yanlış toplayarak 95 bulmuştur.

Buna göre, yanlış sonuç doğru sonuçtan kaç eksiktir?

- A) 8 B) 9 C) 10

- 16) Bir kova 4 sürahi su ile, bir sürahi ise 5 su bardağı su ile dolmaktadır.


1) Tam dolu olan bir kovadan, önce 3 bardak su dökülüyor.

2) Daha sonra kovaya 2 sürahi su ekleniyor.

3) Son olarak kovadan 4 bardak su daha alınıyor.

Buna göre, son durumda kovada kaç bardak su vardır?

- A) 21 B) 23 C) 25



- 17) (...) Görev ve sorumluluklarımızı yerine getirmek önemli değildir.
(...) Aile içinde ortak sorumluluklarımız yoktur.
(...) Sorumlukları yerine getirmek de bir görgü kuralıdır.

Yukarıda verilen ifadelerden doğru olan ifadenin başına D yanlış olan ifadenin başına Y yazdığımızda doğru cevap aşağıdakilerden hangisi olur?

- A) Y-Y-D
B) Y-D-D
C) Y-Y-Y

- 18) Aile ile ilgili verilen ifadelerden hangisi doğru bir ifade değildir?
A) Geniş ailelerde çekirdek ailelere göre iletişimin daha sık olabilir.
B) Çekirdek aileler toplumda çok sık görmediğimiz aile çeşitleridir.
C) Aile toplumun en küçük sosyal birimidir.

- 19) Ahsen sabah arkadaşlarına günaydın diye seslenmiştir ama arkadaşları Ahsen'e herhangi bir şey demeden yerlerine oturmuşlardır. Ahsen bu duruma çok üzülmüştür.

Yukarıda verilen duruma göre aşağıda verilen hangi ifade yanlıştır?

- A) Ahsen nezaket kurallarına uygun bir davranış sergilemiştir.
B) Nezaket kuralları daha samimi ve güzel bir ortam sunar.
C) Ahsen bu davranış sonrasında arkadaşları gibi davranmalıdır.

- 20) Trafik işaret ve levhaları ile ilgili aşağıda verilenlerden hangisi yanlıştır?
A) Levhaların geometrik şekli genel bir anlam ifade etmez.
B) Levhalar önemli uyarıcıdırlar.
C) Levhalar her ülkede aynı anlamı ifade eder.