




ETKİNLİK 1


Aşağıda verilen hayvanları istenilen sayıda gruplayalım.




Tavukları ikişerli gruplarsan
grup oluşur.




Sincapları dörderli gruplarsan
grup oluşur.




Maymunları dokuzarlı gruplarsan
grup oluşur.



Penguenleri beşerli gruplarsan grup
oluşur.



Kuşları sekizerli gruplarsan
grup oluşur.




Civcivleri dörderli gruplarsan grup
oluşur.







ETKİNLİK 2



Verilen meyveleri çocuklara eşit bir şekilde örnekteki bölüştürelim.




Her çocuğa elma düşer.




Her çocuğa muz düşer.




Her çocuğa portakal düşer.



Her çocuğa limon düşer.



Her çocuğa çilek düşer.



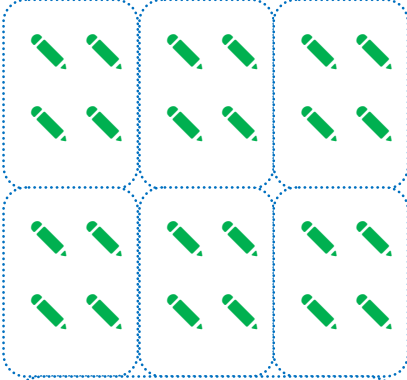
Her çocuğa havuç düşer.



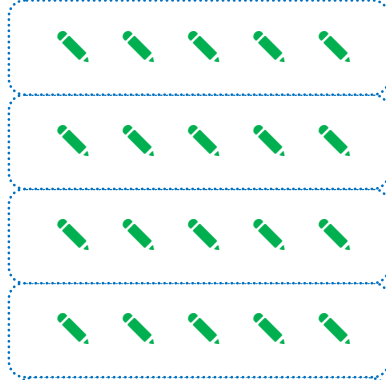


ETKİNLİK 3

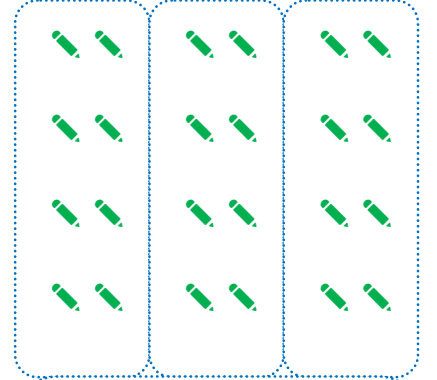
Kalemler ile ilgili verilen soruları cevaplandıralım.




Grup sayısı:
Gruptaki sayı:
Toplam sayı:




Grup sayısı:
Gruptaki sayı:
Toplam sayı:




Grup sayısı:
Gruptaki sayı:
Toplam sayı:



Grup sayısı:
Gruptaki sayı:
Toplam sayı:



Grup sayısı:
Gruptaki sayı:
Toplam sayı:



Grup sayısı:
Gruptaki sayı:
Toplam sayı:





ETKİNLİK 4

İstenilen şekillerde gruplar oluşturalım.



Bana elmalardan oluşan üçerli 6 tane grup oluşturur musun?

Bana kalemlerden oluşan dörderli 5 tane grup oluşturur musun?



Bana portakallardan oluşan beşerli 3 tane grup oluşturur musun?



Bana balonlardan oluşan ikişerli 7 tane grup oluşturur musun?

