



1. SINIF

ETKİNLİK 1

Verilen noktalı yerlere “büyüktür, küçüktür, eşittir” ifadeleri ile dolduralım.

✎ 15.....16

✎ 24.....12

✎ 22.....22

✎ 11.....10

✎ 14.....13

✎ 15.....15

✎ 19.....18

✎ 29.....30

✎ 27.....28

✎ 36.....34

✎ 28.....12

✎ 14.....14

✎ 20.....19

✎ 13.....17

✎ 18.....17







✎ 13.....12

✎ 7.....7

✎ 17.....16

ETKİNLİK 2

Verilen sayılardan önce ve sona gelen sayıları yazalım.





1. SINIF

ETKİNLİK 3

Aşağıdaki sayıları büyükten küçüğe doğru sıralayınız.

$42 - 18 - 35$

.....

$27 - 49 - 31$

.....

$16 - 44 - 29$

.....

$38 - 21 - 47$

.....

$34 - 19 - 26$

.....

$45 - 28 - 12$

.....

$33 - 50 - 24$

.....

$41 - 17 - 36$

.....

$22 - 48 - 39$

.....

$30 - 14 - 46$

.....

ETKİNLİK 4

Aşağıdaki sayıları küçükten büyüğe doğru sıralayınız.

$25 - 11 - 43$

.....

$32 - 18 - 47$

.....

$14 - 29 - 36$

.....

$21 - 45 - 33$

.....

$19 - 27 - 40$

.....

$16 - 34 - 48$

.....

$23 - 41 - 30$

.....

$12 - 38 - 26$

.....

$35 - 20 - 49$

.....

$28 - 15 - 44$

.....

