













1. ŞINIF

ETKİNLİK 1

İkişer ritmik geriye doğru sayalım.

 20	 .....	 .....	 .....	 .....
 .....	 .....	 .....	 .....	 .....

ETKİNLİK 2

Ritmik saymalara aradaki farka bakıp ileri ritmik sayalım.

4	6								
15	20								
0	10								
10	12								
30	35								





1. SINIF

ETKİNLİK 3

İkişerli ritmik sayalım şekli tamamlayıp boyayalım.



ETKİNLİK 4

Beşerli ritmik sayalım şekli tamamlayıp boyayalım.

