



Domates bugün mutfağımızda çok kullanılan bir besindir ancak eskiden Türk mutfağında yer almıyordu. Domates Amerika kıtasında yetişen bir bitkidir ve Osmanlı döneminde sonradan ülkemize gelmiştir. İlk zamanlarda insanlar domatese alışık olmadığı için yemeklerde kullanmadı hatta bazı kişiler onun zararlı olduğunu düşündü. Zamanla tadı sevildi ve güvenli olduğu anlaşıldı. Böylece domates yemeklere girmeye başladı. Bugün çorbalarda salatalarda ve birçok yemekte sıkça kullanılır. Artık sofralarımızın vazgeçilmez besinlerinden biri olmuştur herkes tarafından sevilir.

1. ve 2. soruyu metne göre cevaplandıralım.

1) Aşağıdaki sorulardan hangisinin cevabına metinden ulaşamayız?

- A) Domates nerede yetişmiştir?
- B) Domates ilk zamanlarda neden kullanılmamıştır?
- C) Domates en çok hangi mevsimde yetişir?

2) Domatesin zamanla mutfağımızda kullanılmaya başlanmasının nedeni aşağıdakilerden hangisidir?

- A) Renginin güzel olması
- B) Tadının sevilmesi ve güvenli olduğunun anlaşılması
- C) Sadece salatalarda kullanılması

3)




Görselleri oluş sırasına koyduğumuzda sıralama yukarıdan aşağı nasıl olur?

- A) 4-1-2-3
- B) 4-1-3-2
- C) 1-2-3-4

4) Aşağıda verilen cümlelerden hangisi bir tebrik kartından alınmış bir cümle olamaz?

- A) Doğum günün kutlu olsun, mutlu yıllar dilerim.
- B) Başarın için seni tebrik ederim, nice güzel başarıların olsun.
- C) Yarın saat 3'te parkta buluşalım mı?



5) Anı ve günlük ile ilgili aşağıdaki ifadelerden hangisi doğrudur?

- A) Günlükte geçmişte yaşanan olaylar anlatılır, anı her gün yazılır.
B) Anı geçmişte yaşanan olayları anlatır, günlük ise her gün yazılan yazılardır.
C) Anı ve günlük tamamen aynı yazı türüdür.

6) Aşağıdaki cümlelerin hangisinde tek başına anlamı olmayan bir kelime kullanılmıştır?

- A) Ali top oynadı.
B) Elma çok tatlıdır.
C) Çok uğraştı ama çözemedi.

7) Aşağıdaki koyu renkle verilen kelimenin hem zıt anlamlısı hem de eş anlamlısı doğru verilmiştir?

- A) Hızlı – Yavaş – Acemi
B) Faydalı – Zararlı – Yararlı
C) Fakir – Yaşlı – Zengin

8) Aşağıdaki cümlelerin hangisinde noktalama işareti doğru kullanılmıştır?

- A) Pazardan elma, armut, muz ve çilek aldım.
B) Ankara'ya gidiyoruz!
C) Yarın sinemaya gidecek miyiz.

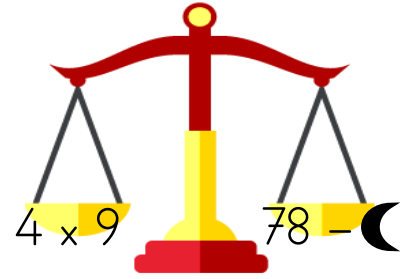
9)


$$27 + 18 = 9 \times ?$$
$$12 \div ? = 15 - 12$$

Yukarıda verilen eşitlikleri sağladığımızda soru işareti yerine gelecek sayıların toplamı kaç olur?

- A) 7 B) 8 C) 9

10)



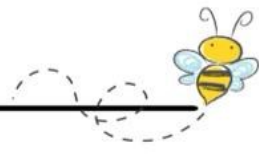
Yukarıda verilen terazinin dengede kalması için iki tarafın da birbirine eşit olması gerekir. Buna göre  yerine hangi sayı gelmelidir?

- A) 42 B) 36 C) 46

11) Aşağıda verilen toplama işlemlerinden hangisinin tahmini sonucu ile gerçek sonucu arasındaki fark kaçtır?

- A) $47+26$ B) $24+29$ C) $25+32$





- 12) Bir çiftçi, bahçesinden topladığı 18 elmayı her sepette eşit sayıda elma olacak şekilde 2 sepete paylaşıyor. Daha sonra başka bir ağaçtan 15 elma daha toplayıp bu sepetlerden birine ekliyor.

Elma eklediği bu sepette toplam kaç elma olmuştur?

- A) 24 B) 23 C) 22

- 13) Bir bakkal sabah 32 öğlen ise 18 ekmek sattı. Akşam ise sabah ve öğlen sattığı ekmeklerin farkı kadar ekmek sattı.

Bu fırıncı toplam kaç ekmek satmıştır?

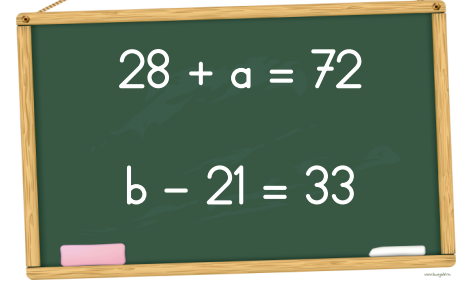
- A) 50 B) 64 C) 44

- 14) ☺ 6 iki basamaklı bir doğal sayıdır. ☺ sayısı, 6'nın basamak değerinin yarısının 3 katına eşittir.

Buna göre, ☺ kaçtır?

- A) 7 B) 8 C) 9

15)



$$28 + a = 72$$


$$b - 21 = 33$$

Yukarıda verilen işlemlerde a ve b harfleri bir sayıyı temsil etmektedir.

Verilen sayıları bulup topladığımızda sonuç kaç olur?


- A) 98 B) 97 C) 96

16)



Göldeki balıkların sayısını , yatay ve dikey gruplar yaparak ifade ettiğimizde aşağıdaki işlemlerden hangisi ile bulunmaz?

- A) 4×3
B) 2×6
C) 3×4



- 17) 1) Su buharının donarak beyaz ve hafif tanecekler halinde yağmasıdır.
2) Su damlacıklarının donarak buz parçaları halinde yeryüzüne düşmesidir.
3) Bulutlardaki su buharının soğuyarak su damlacıkları halinde yeryüzüne düşmesidir.

Yukarıda tanımları verilen hava olayları aşağıdakilerden hangisidir?

	1	2	3
A)	Kar	Dolu	Yağmur
B)	Dolu	Kar	Yağmur
C)	Yağmur	Dolu	Kar

- 18) Aşağıdakilerden hangisi dolu hava olayının neden olduğu olumsuz bir durumdur?

- A) Soğuk havalarda yollarda oluşan buzlanma nedeniyle araçların kayarak kazalara neden olması
B) Şiddetli yağışlar sonrasında sokaklarda su birikmesi ve bazı yerlerin su altında kalması
C) Sert ve yuvarlak buz parçalarının yeryüzüne düşerek araçların camlarına ve tarım ürünlerine zarar vermesi

- 19) Aşağıda dini gün ve bayramların tanımını verilmiştir.

Verilen tanımlardan hangisi dini bayramlardan birine ait bir tanımdır?

- A) Üç ayların başlangıcında kutlanan, önemli bir gecedir.
B) Kur'an-ı Kerim'in indirilmeye başlandığı mübarek bir gecedir.
C) Bir ay süren orucun ardından insanların birbirini ziyaret ettiği, özel günlerdir.

- 20) Bir öğrenci, sabah erkenden okula gitmek için hazırlanır. Okulda herkes kırmızı-beyaz kıyafetler giymiştir. Bahçede bayraklar asılıdır ve tören için hazırlık yapılmaktadır. Öğrenciler, ülkenin bağımsızlığını ve yönetim şeklini simgeleyen bu özel günü coşkuyla kutlamak için şiirler okur ve gösteriler yapar.

Buna göre, aşağıdaki milli gün ve bayramlardan hangisi bu etkinliklerle ilgilidir?

- A) 23 Nisan Ulusal Egemenlik ve Çocuk Bayramı
B) 19 Mayıs Atatürk'ü Anma, Gençlik ve Spor Bayramı
C) 29 Ekim Cumhuriyet Bayramı