





ETKİNLİK 1

Verilen görsellerin istenilen kadarlarını boyyalım.

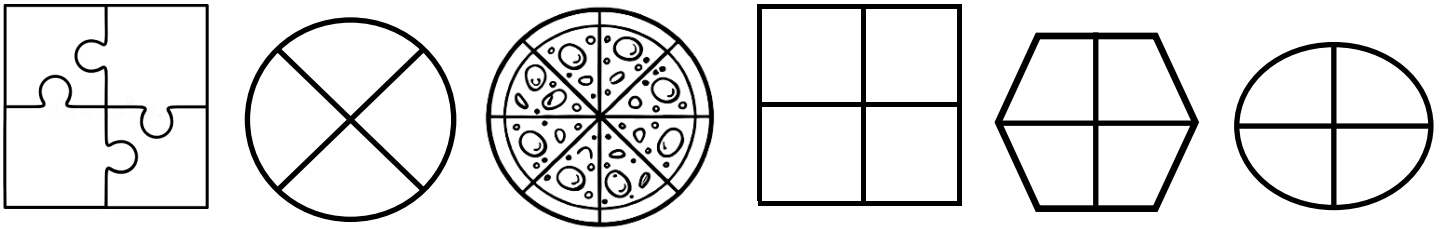
Aşağıda verilenlerin bütünü boyyalım



Aşağıda verilenlerin yarısını boyyalım



Aşağıda verilenlerin çeyreğini boyyalım



ETKİNLİK 2

Aşağıda verilen noktalı yerleri istenilen bilgilere göre dolduralım.



😊 8 bütün pizza yarım pizza eder.

😊 8 bütün pizza çeyrek pizza eder.



😊 6 bütün simit yarım pizza eder.

😊 6 bütün simit çeyrek simit eder.





ETKİNLİK 3

Aşağıda verilen noktalı yerleri istenilen bilgilere göre dolduralım.



☺ bütün pasta yarım pasta eder.

☺ bütün pasta çeyrek pasta eder.



☺ bütün karpuz yarım karpuz eder.

☺ bütün karpuz çeyrek karpuz eder.



☺ bütün nar yarım nar eder.

☺ bütün nar çeyrek nar eder.



☺ bütün sucuk yarım sucuk eder.

☺ bütün sucuk çeyrek sucuk eder.





ETKİNLİK 3


Aşağıda verilen noktalı yerleri istenilen bilgilere göre dolduralım.




😊 yarım simit bütün simit eder.



😊 yarım pizza bütün pizza eder.



😊 yarım karpuz bütün karpuz eder.



😊 yarım nar bütün nar eder.



😊 yarım domates bütün domates eder.






ETKİNLİK 3


Aşağıda verilen noktalı yerleri istenilen bilgilere göre dolduralım.




😊 çeyrek domates bütün domates eder.



😊 çeyrek simit bütün simit eder.



😊 çeyrek nar bütün nar eder.



😊 çeyrek karpuz bütün karpuz eder.



😊 çeyrek limon bütün limon eder.

