



Ayna, insanların kendilerini görmelerini sağlayan parlak bir yüzeydir. Eskiden insanlar su birikintilerine bakarak yansımalarını görürdü. Daha sonra cilalanmış taşlar ve metaller ayna olarak kullanıldı. Günümüzde aynalar camın arkasına ince bir metal tabaka kaplanarak yapılır. Aynalar evlerde, okullarda ve birçok yerde kullanılır. Sabah hazırlanırken aynaya bakarız. Aynalar ışığı yansıtarak görüntü oluşmasını sağlar. Bu sayede kendimizi ve çevremizi kolayca görebiliriz

1. ve 2. soruyu metne göre cevaplandıralım.

1) Aşağıdakilerden hangisinin cevabı metinde yoktur?

- A) Aynalar nasıl yapılır?
- B) Aynayı ilk kim icat etmiştir?
- C) Aynalar nerelerde kullanılır?

2) Aşağıdakilerden hangisi metne göre doğrudur?

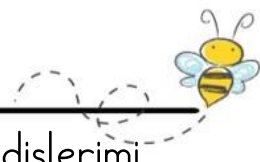
- A) Aynalar ışığı yutarak görüntü oluşturur.
- B) Eskiden insanlar suya bakarak kendilerini görürdü.
- C) Sadece okullarda kullanılır.

3) Ali sabah erkenden uyanmıştı. Hava çok güzeldi. Annesiyle birlikte parka gitmeye karar verdiler. Parkta salıncağa bindi, kaydırdan kaydı ve arkadaşlarıyla oyun oynadı. Çok eğlendi. Eve dönerken annesine teşekkür etti. Çünkü birlikte vakit geçirmek onu çok mutlu etmişti. Bu metnin konusu ve ana fikri aşağıdakilerden hangisidir?

	Konu	Ana fikir
A)	Parkta oynanan oyunlar	Oyun oynamak çok önemlidir
B)	Ali'nin annesiyle parka gitmesi	Sevdiklerimizle vakit geçirmek bizi mutlu
C)	Sabah erken uyanmak	Erken kalkmak sağlıklıdır

4) Aşağıdaki eşleştirmelerden hangisi aralarındaki anlam ilişkisine göre farklıdır?

- A) Yumuşak – Sert
- B) Faydalı – Yararlı
- C) Kötü – Fena



5) Aşağıdaki cümlelerin hangisinde yazım yanlışı yapılmıştır?

- A) Sınıfın en çalışkanı olan Kaya, sınavdan yine tam puan aldı.  
B) Akşam yemeği için pazardan iki Demet maydanoz aldım.  
C) Bahçedeki minik kedi Pamuk, sütünü hepsini bitirdi.

6) Aşağıdaki cümlelerin hangisinde tırnak işareti (" ") kullanımıyla ilgili bir yazım yanlışı yapılmıştır?

- A) Öğretmenimiz: "Kitap en iyi dosttur." diyerek söze başladı.  
B) Bugün sınıfta "Yazım Kuralları" konusunu detaylıca işledik.  
C) Annem pazardan "elma, armut ve muz" almamı söyledi.

7) Pazardan meyveleri alan Kerem (1) eve gelince annesine heyecanla söyledi (2) Yaşasın, en sevdiğim meyveler olan elma, armut ve çileği almışsın (3)

Bu parçada parantez içine sırasıyla hangi noktalama işaretleri gelmelidir?

- A) (,) (:) (!)  
B) (:) (,) (.)  
C) (,) (.) (,)

- 8) 1. Sonunda tertemiz olan dişlerimi fırçalayıp yatağıma yattım.  
2. Akşam yemeği bittikten sonra masayı toplamaya yardım ettim.  
3. Önce ellerimi güzelce sabunlayıp sofraya oturdum.  
4. Ardından en sevdiğim pijama takımımı giydim.

Numaralanmış cümleler oluş sırasına göre nasıl sıralanmalıdır?

- A) 3 - 2 - 4 - 1  
B) 2 - 3 - 1 - 4  
C) 3 - 4 - 2 - 1

9)



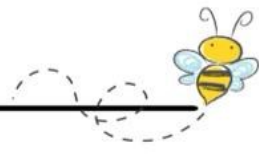
Görsellerin sırasıyla hangi kesri ifade ettiğini hangi öğrenci doğru bulmuştur?

- A) Can: Çeyreği - Bütünü - Yarısı  
B) Mert: Yarısı - Çeyreği - Bütünü  
C) Aslı: Bütünü - Yarısı - Çeyreği

10) 3 bütün armutu ve 5 yarım armutu bir grup arkadaş yemiştir. Her biri çeyrek armut yediğine göre, bu grup kaç kişidir?

- A) 22                      B) 20                      A) 32





11) 10 yarım simide aşağıdakilerden hangisi eklenirse 7 bütün simit elde edilemez?

- A) 2 bütün simit
- B) 4 yarım simit
- C) 3 yarım simit

12)

$$\begin{aligned} 18 - 3 &= 15 \\ 15 - 3 &= 12 \\ 12 - 3 &= 9 \\ 9 - 3 &= 6 \\ 6 - 3 &= 3 \\ 3 - 3 &= 0 \end{aligned}$$

Yukarıdaki ardışık çıkarma işleminin bölme işlemi şeklinde gösterilişi aşağıdakilerden hangisidir?

- A)  $18 \div 3 = 6$
- B)  $18 \div 6 = 3$
- C)  $12 \div 3 = 4$

13)

x	4	5
9	A	B

÷	3	4
24	C	D

A, B, C ve D birer sayıdır.  
Bu yerlere gelecek sayıların toplamı kaçtır?

- A) 95
- B) 90
- C) 85

14)



Verilen kalemlerin sayısı ile ilgili aşağıda verilen bilgilerden hangisi yanlıştır?

- A) 2 düzineden 6 eksiktir.
- B) 1 deste ile 1 düzinenin toplamından 4 eksiktir.
- C) 2 desteden 2 fazladır.

15) Bir kırtasiyede oyuncak araba 45 TL, hikaye kitabı 32 TL ve boya kalemi 22 TL'dir.

Deniz, bu kırtasiyeden aldığı iki ürün için toplam 67 TL ödediğine göre, Deniz hangi ürünleri satın almıştır?

- A) Oyuncak Araba-Hikaye Kitabı
- B) Hikaye Kitabı-Boya Kalemi
- C) Oyuncak Araba-Boya Kalemi

16)

$$71 - 35 = 4 \times ?$$

Verilen eşitlikte ? olan yere hangi sayı gelmelidir?

- A) 8
- B) 9
- C) 7



17)

Önüm kuzey, arkam güney, sağ tarafım doğu, solum batı.

Yuvaların arkası kuzeyi gösterir.

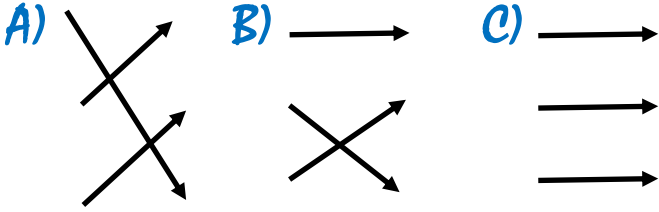
Açık havalarda kuzeyde kalır.

Karınca yuvası

Kutup yıldızı

Güneş

Yukarıda tanımları yön bulma yöntemleri ile eşleştirdiğimizde okların görüntüsü nasıl olur?



18) Aşağıdaki öğrenciler doğadan yararlanarak yön bulma yöntemleri hakkında bilgiler vermiştir:

Ali: "Ağaçların yosun tutan tarafı kuzeyi gösterir."

Zeynep: "Karıncalar yuvalarının girişini genellikle kuzeye yapar."

Mehmet: "Kutup Yıldızı her zaman kuzeyi gösterir."

Buna göre hangi öğrenci yanlış bilgi vermiştir?

A) Ali B) Zeynep C) Mehmet

19) Aşağıdakilerden hangisi dolu ve yağmur arasındaki farkı doğru açıklamaktadır?

A) Yağmur ve dolu aynı şekilde oluşur, ikisi de sadece yazın görülür.

B) Yağmur, su damlacıkları halinde düşerken; dolu, donmuş buz parçaları halinde düşer.

C) Dolu sıvı halde, yağmur ise katı halde yeryüzüne iner.

20) Aşağıda milli bayramlar ve önemli günlerle ilgili bilgiler verilmiştir:

→ 23 Nisan Ulusal Egemenlik ve Çocuk Bayramı: Çocuklara armağan edilmiştir.

→ 19 Mayıs Atatürk'ü Anma, Gençlik ve Spor Bayramı: Yaşlılara armağan edilmiştir.

→ 29 Ekim Cumhuriyet Bayramı: Cumhuriyetin ilan edildiği gündür.

→ 30 Ağustos Zafer Bayramı: Türkiye'nin bağımsızlık mücadelesinin zaferle sonuçlandığı gündür.

Buna göre yukarıdaki bilgilerden kaç tanesi doğrudur?

A) 2

B) 3

C) 4