

KÜÇÜK ORMAN DOSTLARI

Toprağın altında başlar bir telaş,
Karınca yükünü taşır yavaş yavaş.
Renkli kelebekler konar çiçeğe,
Doğa selam verir her bir böceğe.

Yeşil yaprakların arasında saklı,
Tavşanın zıplayışı bir başka farklı.
Sincap palamudu kapıp kaçarken,
Orman şarkı söyler güneş açarken.

Dereler şırl şırl akar gider,
Çiçekler mis gibi kokular eder.
Doğayı sevelim, koruyalım hep,
Bize neşe veren en güzel sebep.

@hhocaninsinifi



1. 2. ve 3. soruyu şiire göre cevaplandıralım.

1) Şiirin içeriğine göre aşağıdaki sorulardan hangisinin cevabı metinde yoktur?

- A) Karınca yükünü nasıl taşır?
- B) Sincap neyi kapıp kaçır?
- C) Ayı kış uykusuna nerede yatar?

2) Şiirin ikinci kıtasının üçüncü mısrasında (satinında) hangi hayvandan bahsedilmektedir?

- A) Tavşan
- B) Sincap
- C) Kelebek

3) Şiirin genel yapısı (düzeni) ile ilgili verilen bilgilerden hangisi doğrudur?

- A) Bu şiir toplam 3 kıta ve 12 mısradan oluşmaktadır.
- B) Bu şiir toplam 2 kıta ve 8 mısradan oluşmaktadır.
- C) Bu şiir tek bir uzun kıtadan oluşmaktadır.

4) Size tek bir tavsiyem var() Her ne yaparsanız yapın() dürüstlükten vazgeçmeyin()



Yukarıda () olan yere sırasıyla hangi noktalama işaretleri getirilmelidir?

- A) (.) – (.) – (.)
- B) (:) – (.) – (.)
- C) (.) – (.) – (.)

5) Verilen cümlelerin hangisinde dal kelimesi farklı bir anlamda kullanılmıştır?

- A) Farklı bir spor dalına yönelmelisin.
- B) Bu sanat dalında ödül kazandı.
- C) Suyun derinliğini bilmediği için dalmadı.



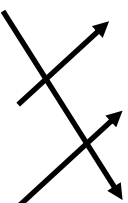
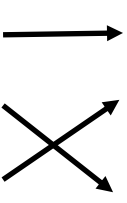
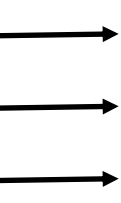
6) Fotoğraf çekmek, sevdiğimiz bir anı kutuya koyup saklamak gibidir. Zaman hızla geçerken, çektiğimiz her kare o güzel günü hiç unutmamızı sağlar. Bugünün bir fotoğrafı, yıllar sonra bize en tatlı hatıra olur. Fotoğraflar sayesinde anılarımız hiç eskimez, geçmişin ışığını geleceğe taşırız.

Verilen metnin konusu nedir?

- A) Fotoğraf çekmenin anıları saklamadaki önemi
 B) Zamanın hızlı geçmesi
 C) Fotoğrafın zaman içindeki gelişimi.

- 7) Akıl • Meşhur
 Ünlü • Giysi
 Elbise • Zihin

Verilen kelimeleri eş anlamlarıyla eşleştirdiğimizde okların yönü nasıl olur?

- A)  B)  C) 

8) "Filmin ilk sahnesini heyecanla izledim." cümlesinden film ile ilgili kesin olarak çıkarılabilecek sonuç aşağıdakilerden hangisidir?

- A) Filmin tamamı izlenmiştir.
 B) Filmin diğer sahneleri sıkıcıdır.
 C) Birden fazla sahnesi bulunmak-



Yukarıda verilen para ile aşağıdakilerden hangisini satın alabiliriz?

- A) Kalem 17 ₺ B) Defter 18 ₺
 C) Silgi 20 ₺

10) 1 TL'yi bir "bütün" olarak kabul edersek, aşağıda verilen eşleştirmelerden hangisi yanlıştır?

- A) 2 tane 50 kuruş, 1 TL'nin yarısıdır.
 B) 4 tane 25 kuruş, 1 TL'lik bir bütün eder.
 C) 15 kuruş, 1 TL'nin çeyreğidir.



Yukarıda verilen paralar aşağıda verilen paralardan hangisine eşit değildir?



4 bütün elmanın 6 yarımı ve 1 çeyreği tüketiliyor.

Geriye ne kadar elma kalır?

A) 1 yarım B) 3 çeyrek C) 1 bütün

13) Aşağıdaki çocuklardan hangisi daha fazla yiyecek tüketmiştir?

- A) 3 bütün çikolata yiyen Ece,
B) 8 yarım simit yiyen Ali,
C) 8 çeyrek pizza yiyen Suna

14)

5 yarım + 6 çeyrek

Yukarıda verilen işlemin sonucu kaçtır?

- A) 4 bütün B) 2 yarım C) 3 bütün

15)

$25+18$	$28\div 4$
$57-38$	4×7

Yukarıda kutucuklarda verilen işlemlerin sonuçlarını topladığımızda sonuç kaç olur?

- A) 97 B) 96 C) 95

16) Bir çiftlikte bulunan ineklerin ayak sayıları toplamı 32'dir. Bu çiftlikteki tavukların sayısı ise ineklerin sayısından 18 fazladır.

Bu çiftlikteki tavuk sayısı inek sayısından kaç fazladır?

- A) 26 B) 36 C) 10



- 17) -Havalar ısınmaya başlar.
-Doğa uyanır, ağaçlar çiçek açar.
-Kış uykusuna yatan hayvanlar yuvalarından çıkar.

Yukarıda hangi mevsimin özellikleri verilmiştir?

- A) Sonbahar B) İlkbahar C) Kış



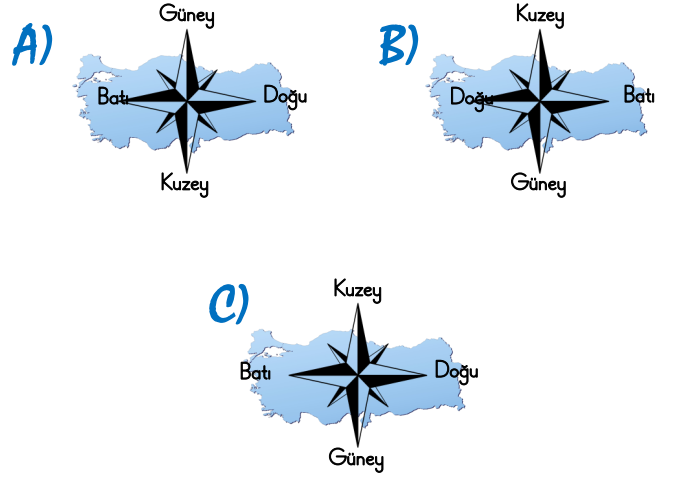
18)

“Doğada yönümüzü bulmak için karınca yuvalarından faydalanabiliriz. Karıncalar, yuva girişlerini güneşten daha fazla yararlanmak için genellikle yönüne doğru açarlar.

Görsele göre, karınca yuvalarının girişinin baktığı yönde aşağıdakilerden hangisi yer almaktadır?

- A) Dağlar
B) Köprü ve akarsu
C) Traktör

- 19) Türkiye haritasında belirtilen yönler hangi seçenekte doğru verilmiştir?



- 20) -Can ve mal kaybını en aza indirmek için binalarımızı fay hatlarından uzak, sert zeminlere inşa etmeliyiz.
-Yerin sarsılmasıyla oluşan bu doğa olayının gerçekleşmesini durdurmak mümkün değildir.
-Yapıların yapımında kaliteli malzeme kullanmak, bu afete karşı alınacak en büyük önlemdir.

Yukarıda özellikleri anlatılan doğa olayı aşağıdakilerden hangisidir?

- A) Heyelan B) Deprem C) Çığ