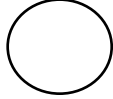
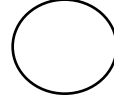
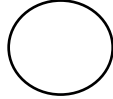
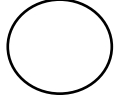
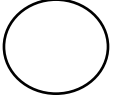
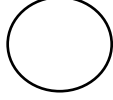

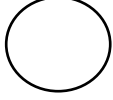
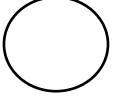



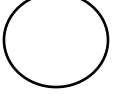


2.Sınıf




## ETKİNLİK 1

Verilen paraları büyükten küçüğe doğru numaralandırarak sıralayalım.



## ETKİNLİK 2

Aşağıda verilen paraların kaç kuruş olduğunu altında bulunan noktalı yere yazalım.





2.Sınıf

ETKİNLİK 3

Aşağıda verilen paraların ifade ettiği miktarları kutucuklara yazalım.



.....



.....



.....



.....



.....



.....

ETKİNLİK 4

Miktarları eşit olan paraları birbirleriyle eşleştirelim.



.....krş



.....krş



.....krş



.....lira.....krş



.....krş



.....lira.....krş



.....krş



.....krş





2.Sınıf

ETKİNLİK 5

Lira ve kuruş ilişkisini etkinlikle pekiştirelim.



.....lira.....kuruş



.....lira.....kuruş



.....lira.....kuruş



.....lira.....kuruş



.....lira.....kuruş



.....lira.....kuruş

ETKİNLİK 6

Verilen paraların kesir gösterimlerini örnekteki gibi yapalım.



Çeyrekleri kaç ₺'dir?

25₺ 25₺ 25₺ 25₺

Yarımları kaç ₺'dir?

50 ₺ 50 ₺



Çeyrekleri kaç ₺'dir?

Yarımları kaç ₺'dir?



Çeyrekleri kaç ₺'dir?

Yarımları kaç ₺'dir?



Çeyrekleri kaç ₺'dir?

Yarımları kaç ₺'dir?



Çeyrekleri kaç ₺'dir?

Yarımları kaç ₺'dir?



Çeyrekleri kaç ₺'dir?

Yarımları kaç ₺'dir?





2.Sınıf

ETKİNLİK 7

Ne kadar para üzeri alacağımızı bulalım.



Adet: 25 ₺



Kilosu: 35 ₺



Kilosu: 45 ₺



Kolisi: 62 ₺

1) Elmadan 2 kilo alan Ayşe, satıcıya 4 tane 20 TL verdi. Kaç TL para üstü alır?

2) Kilosu 45 TL olan portakaldan 1 kilo alan Ali, 50 TL verdi. Ali kaç TL para üstü alır?

3) Simitten 3 tane alan Mehmet, 100 TL verdi. Mehmet kaç TL para üstü alır?

4) Zeynep 2 kilo portakal aldı ve satıcıya 3 tane 20 TL ve 1 tane 5 TL verdi. Zeynep kaç TL para üstü alır?

5) Elmadan 1 kilo alan Ece, 2 tane 20 TL verdi. Ece kaç TL para üstü alır?

6) Simitten 2 tane alan Ahmet, 1 tane 50, 2 tane 10 TL verdi. Ahmet kaç TL para üstü alır?

7) Portakaldan 2 kilo alan Hasan, 4 tane 20 TL 2 tane 5 TL verdi. Hasan kaç TL para üstü alır?

8) 1 kilo elma, 1 kilo portakal alan Ela, Satıcıya 90 lira verdi. 1 tane simit alabilmek için kaç liraya ihtiyacı vardır?

