

2. SINIF GÜVERCİN BULUT



Göz alıcı beyaz tüyleriyle İstanbul semalarında süzülen "Bulut", her gün aynı caminin kubbesine konar, avludaki yaşlı adamın avucundan buğday yerdi. Bir ikindi vakti, gökyüzünü aniden simsiyah bir fırtına bulutu kapladı. Dev dalgalar sahili döverken, Bulut sığınacak bir yer aradı ama rüzgar onu hırpalayarak bilmediği karanlık bir çıkmaza savurdu. Kanadı incinmişti, uçamıyordu. Tam o sırada avludaki ihtiyar adam, elinde feneriyle fırtınanın ortasında belirdi. Dakikalardır sokak sokak sadık dostunu arıyordu. Fenerin ışığı Bulut'un beyaz tüylerine vurduğunda, ihtiyar adam onu montunun içine sarıp göğsüne bastırdı. Bulut, sevginin fırtınalardan daha güçlü olduğunu o gün anladı.

1. ve 2. soruyu metne göre cevaplandırınız.

- 1) Aşağıdaki sorulardan hangisinin cevabı metinde yoktur?
 - A) Yaşlı adam fırtınada dışarı çıkarken yanına ne almıştır?
 - B) İhtiyar adam güvercini bulduktan sonra nereye götürmüştür?
 - C) Hikayedeki olay hangi şehirde geçmektedir?

- 2) Hikayenin ana fikri nedir?
 - A) Fırtınalı havalarda uçmamak gerekir
 - B) İstanbul'da kış mevsimi çok sert geçer
 - C) Sevgi, doğadaki fırtınalardan daha güçlüdür

- 3) Elif, bir kelime treni oyunu oynuyor. Kurala göre trenin vagonlarındaki harfler "bir ünsüz, bir ünlü, bir ünsüz, bir ünlü..." şeklinde düzenli bir sıra takip etmelidir.

Buna göre, aşağıdaki kelime trenlerinden hangisi bu kurala uymaz?

- A) S-İ-M-İ-T
- B) B-A-L-O-N
- C) T-R-E-N

- 4) Bir Sınıf öğretmeni, noktalama işaretlerini arabalara benzetmiştir:


Nokta (.): Kırmızı ışık gibidir, cümleyi tamamen durdurur.

Virgül (,): Sarı ışık gibidir, tam durdurmaz ama biraz yavaşlatır.

Bu kurala göre, bir öğrenci aşağıdaki cümleyi okurken toplamda kaç kez "kırmızı ışıkta" (nuktada) durmak zorunda kalır?

"Bugün Dr Ahmet Bey okulda bizi ziyaret etti Bize elma çilek ve muz getirdi"

- A) 1
- B) 2
- C) 3



5) Bir bilgisayar oyununda, karakterinizin bir kapıdan geçebilmesi için kapının üzerindeki kelimenin "Eş Anlamlısını" (anlamdaşını) söylemeniz gerekmektedir.

Karakteriniz "HEDİYE" yazılı kapıya geldiğinde, kapının açılması için sihirli mikrofona hangi kelimeyi fısıldamalıdır?

A) Ödül B) Armağan C) Sürpriz

6) Bir kargo uçağı, üzerindeki adres doğru yazılmadıysa o paketi uçağı kabul etmemektedir.

Kargo görevlisi Mert, aşağıdaki paketlerden hangisini kurallara uyulmadığı için uçağı almamalıdır?

A) Alıcı Adresi: Atatürk mahallesi, Gezegen sokak - Ankara

B) Alıcı Adresi: Cumhuriyet Mahallesi, Yıldız sokak - İstanbul

C) Alıcı Adresi: Fatih Mahallesi, Çiçek Sokak - Samsun

7) Aşağıdaki cümlelerin hangisinde yapılan iş cümleinin en sonunda yer almamıştır?

A) Ali topu arkadaşına attı.

B) Kitap okudu dün akşam Pelin.

C) Minik kuş ağaca kondu.

8) Atasözleri robotu, sadece "Eğitim ve öğrenmenin küçük yaşlarda daha kolay olduğunu" anlatan atasözünü duyduğunda çalışmaya başlamaktadır.

Bu robotu çalıştırmak isteyen bir öğrenci, robota aşağıdaki atasözlerinden hangisini söylemelidir?

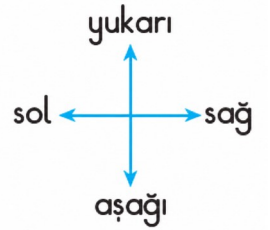
A) Ağaç yaşken eğilir.

B) Bakarsan bağ olur, bakmazsan dağ olur.

C) Gülü seven dikenine katlanır.

a)

1	2	3	4
5	6	7	8
9	10	11	12
13	14	15	16




11 numaralı kutucukta duran köpek, 2 birim yukarı ve 2 birim sola gidiyor. Köpek hangi numaralı kutucuğa ulaşır?

A) 1

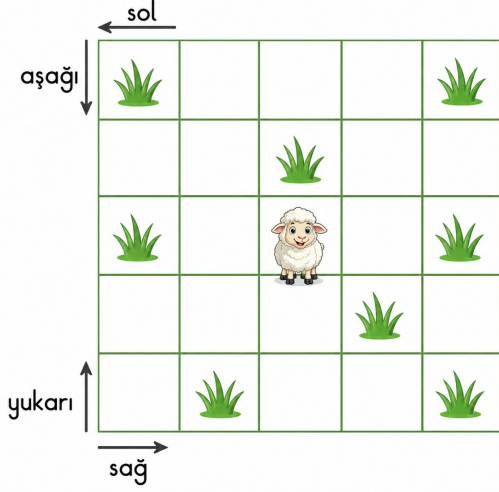
B) 3

C) 5





10)



Koyun bulunduğu yerden hareket ediyor.

Aşağıdaki hareketlerden hangisini yaparsa ota ulaşamaz?

- A) 1 birim sağa, 1 birim aşağı
- B) 2 birim sağa, 2 birim yukarı
- C) 2 birim sola, 1 birim yukarı

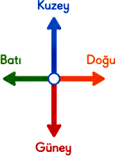

11)



Saat yönünde 3 çeyrek dönüş yapan araba başlangıçta sağa bakıyorsa dönüş sonunda hangi yöne bakar?

- A) Yukarı
- B) Aşağı
- C) Sol

12)



Çocuk bulunduğu yerden 2 birim kuzeye ve 1 birim doğuya giderse hangi nesneye ulaşır?

- A)
- B)
- C)

13)

Can, mutfakta annesine yardım ederken masanın üzerindeki malzemeleri inceliyor: Büyük bir karpuz dilimi, küçük bir paket vanilya ve içi un dolu büyük bir çuval.

Can, bu malzemelerden hangisinin ağırlığını ölçerken "gram (g)" birimini kullanmalıdır?


- A) Karpuz dilimi
- B) Paket vanilya
- C) Un çuvalı

14)

Manav Ahmet Amca, elindeki 32 kilogramlık bir çuval patatesin önce 12 kilogramını, daha sonra ise 8 kilogramını satıyor. Çuvalda kalan patatesleri ise her biri 4 kilogram gelen poşetlere doldurmak istiyor.

Manav Ahmet Amca'nın toplam kaç adet poşete ihtiyacı vardır?

- A) 3
- B) 5
- C) 12



15) Mert, oyuncak arabasının boyunu önce ataşlarla, sonra silgilerle ölçüyor. Arabanın boyu 6 ataş uzunluğunda çıkıyor. 1 silginin boyu 2 ataş uzunluğuna eşit olduğuna göre, Mert arabasını silgilerle ölçerse sonucu kaç silgi bulur?

- A) 3 B) 4 C) 12

16) Umud'un dijital saati tam olarak '07.45'i gösteriyor. Terzi olan annesi Umud'a dönüp "Oğlum saatine çeyrek var," diyor. Umud'un annesi hangi saate çeyrek var demiş olabilir?

- A) 7'ye B) 8'e C) 9'a

17) Umud, odasındaki masanın üzerini süslemek için seramik bir tabak aldı. Bu tabağın üzerine rengârenk lale ve karanfil motifleri çizerek fırınladı. Umud, yaptığı bu çalışma ile hangi geleneksel Türk sanatını odasına taşımıştır?

- A) Ebru Sanatı B) Çini Sanatı
C) Hat Sanatı

18) Bir ressam, doğada gördüğü ağaçları ve çiçekleri incelerken onların renklerini hafızasına not ediyor. Atölyesine döndüğünde ise bu canlı renkleri hayal gücüyle birleştirerek yepyeni bir dünya resmi çiziyor. Bu ressamın davranışı, sanatçıda bulunması gereken hangi özelliği örneklerdir?

- A) Gözlemci B) Yenilikçi
C) Üretken

19) Ömer, dedesinin eski el yazması kütüphanesini gezerken bir kitabın sayfalarını açtı. Sayfa kenarlarında parıl parıl parlayan altın sarısı işlemeler ve çok ince süslemeler gördü. Ömer'in hayran kaldığı bu kitap süsleme sanatı aşağıdakilerden hangisidir?

- A) Tezhip B) Minyatür C) Hat

20) Esra Öğretmen, Hayat Bilgisi dersinde öğrencilerine şu ipuçlarını veriyor:

"Bu bilim insanımız ülkemizin bilimsel ve teknolojik araştırmalarını destekleyen TÜBİTAK'ın kurulmasında önemli bir rol oynamıştır."

"Sayılarla, formüllerle ve geometrik şekillerle uğraşmayı çok sever; dünyaca ünlü bir matematikçidir."

Buna göre Esra Öğretmen'in sınıf panosuna resmini asacağı bilim insanımız aşağıdakilerden hangisidir?

- A) Fuat Sezgin B) Cahit Arf
C) Halil İnalcık