



Standart ölçü nedir? Herkesin aynı sonucu bulması için kullanılan ortak ölçü birimleridir.

Neden gereklidir? Eğer herkes farklı ölçerse sonuçlar farklı olur. Karışıklık olmaması için standart ölçüler kullanılır.

Uzunluk Ölçü Birimleri

Metre (m): Uzunluk ölçmede en çok kullanılan birimdir. Kısaca "m" harfi ile gösterilir.

Santimetre (cm): Metreden daha küçüktür. 100 eş santimetre 1 metreye eşittir.

Standart Ölçme Araçları

Cetvel: Küçük uzunlukları ölçeriz.

Şerit metre: Daha uzun yerleri ölçmek için kullanılır.

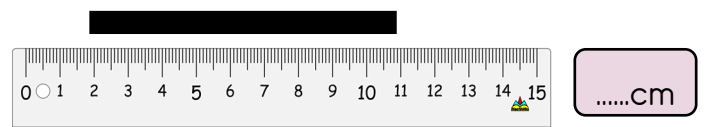
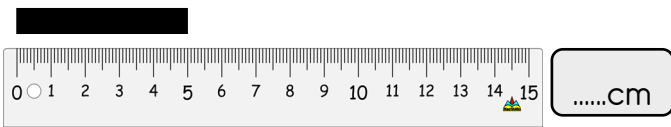
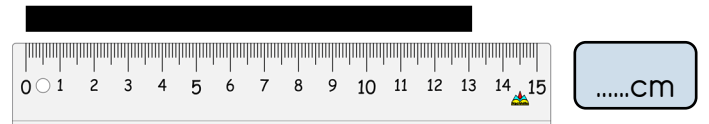
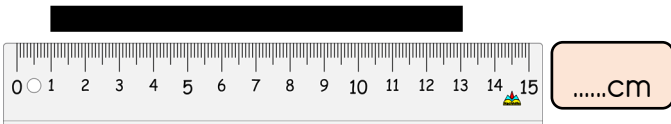
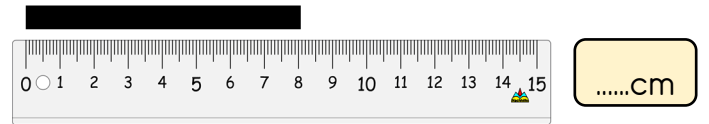
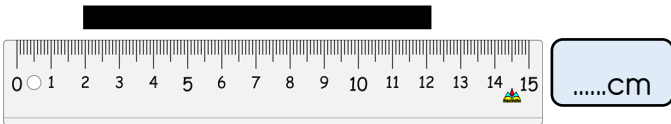
Mezura: Terziler kullanır, esnektir.

Katlanır metre: Serttir, açılıp kapanır.



ETKİNLİK 1

Verilen çubukların kaç santimetre olduğunu bulalım.





2.Sınıf

ETKİNLİK 2

Aşağıda verilen uzunluklara uygun çubuklar çizelim.

6 cm	
12 cm	
8 cm	
4 cm	
10 cm	
5 cm	

ETKİNLİK 3

Uzunluklar ile ilgili verilen soruları cevaplayalım.

- ✏ Bir kurdele 45 santimetre, diğeri 30 santimetredir. İki birlikte kaç santimetredir?
- ✏ 70 santimetre, 1 metreden kaç santimetre eksiktir?
- ✏ Bir tahta 1 metre uzunluğundadır. Bu tahta kaç santimetredir?
- ✏ Bir cetvel 30 santimetredir. 2 cetvel yan yana konulursa toplam kaç santimetre olur?
- ✏ Bir ip 20 santimetredir. 4 santimetrelilik kaç eş parça yapılır?





2.Sınıf

ETKİNLİK 4


Verilen nesnelere metre ile mi ölçeriz, santimetre ile mi ölçeriz işaretleyelim.

Nesneler	m	cm
Kalem		
Hortum		
Kapı		
Defter		
Sınıfın uzunluğu		
Silgi		
Kurdele		
Bahçe		
Kitap		
Tahta (Yazı tahtası)		
Koridor		

ETKİNLİK 4

Verilen nesnelere metre ile mi ölçeriz, santimetre ile mi ölçeriz işaretleyelim.

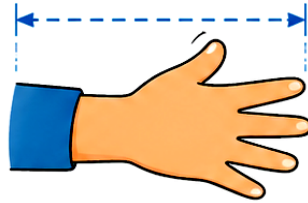
1 Bir karış = 5 santimetre



3 karış kaç santimetredir?

..... cm

2 Bir karış = 8 santimetre



4 karış kaç santimetredir?

..... cm

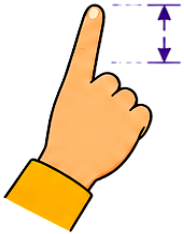
3 Bir adım = 20 santimetre



2 adım kaç santimetredir?

..... cm

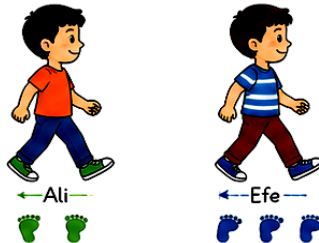
4 Bir parmak = 2 santimetre



5 parmak kaç santimetredir?

..... cm

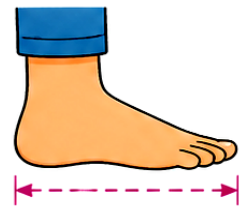
5 Ali'nin bir adımı = 20 cm
Efe'nin bir adımı = 25 cm



Ali 2 adım, Efe 3 adım atarsa aralarındaki fark kaç santimetre olur?

..... cm

6 Bir ayak uzunluğu = 15 santimetre



4 ayak uzunluğu kaç santimetredir?

..... cm





2.Sınıf

ETKİNLİK 5

Mini test


1) Herkes tarafından aynı kabul edilen ve ölçme yapıldığında sonucun değişmediği ölçü birimlerine ne ad verilir?

- A) Standart ölçü birimleri
B) Tahmini ölçüler
C) Kişisel ölçüler

2) Uzunluk ölçme temel birimi aşağıdakilerden hangisidir ve kısaca nasıl gösterilir?

- A) Kilogram (kg) B) Metre (m)
C) Litre (L)

3) Terzilerin kıyafet dikerken kullandığı, vücut ölçüsü almaya uygun yumuşak ve esnek olan ölçme aracı hangisidir?



4) 1 metre uzunluğundaki bir tahtayı santimetre cinsinden ölçersek hangi sonucu buluruz?

- A) 10 santimetre B) 50 santimetre
C) 100 santimetre

5) Aşağıdaki nesnelere hangisinin boyunu ölçmek için "santimetre (cm)" birimini kullanmak daha uygundur?

- A) Okulun bahçesi B) Kurşun kalem
C) Sınıfın boyu

6) İnşaat ustalarının veya marangozların daha uzun yerleri ölçmek için kullandığı, rulo halindeki metal ölçme aracı hangisidir?

- A) Cetvel B) Mezura C) Şerit metre

7) 60 santimetre uzunluğundaki bir ipi 1 metreye tamamlamak için kaç santimetre daha eklemeliyiz?

- A) 30 santimetre
B) 20 santimetre
C) 40 santimetre

8) Ali'nin bir karışı 8 santimetredir. Ali, masasının boyunu 5 karış olarak ölçtüğüne göre masa kaç santimetredir?

- A) 35 santimetre B) 40 santimetre
C) 45 santimetre

9) Efe'nin bir adımı 25 santimetredir. Efe 4 adım atarsa toplam kaç santimetre ilerlemiş olur?

- A) 100 santimetre (1 metre)
B) 75 santimetre
C) 125 santimetre

